

中学生の地理です。
問題のレベルは
定期テスト
レベルです。

世界地図の見方や
世界の気候など
の問題です。

問題の答えは
巻末にあります。

地球の姿

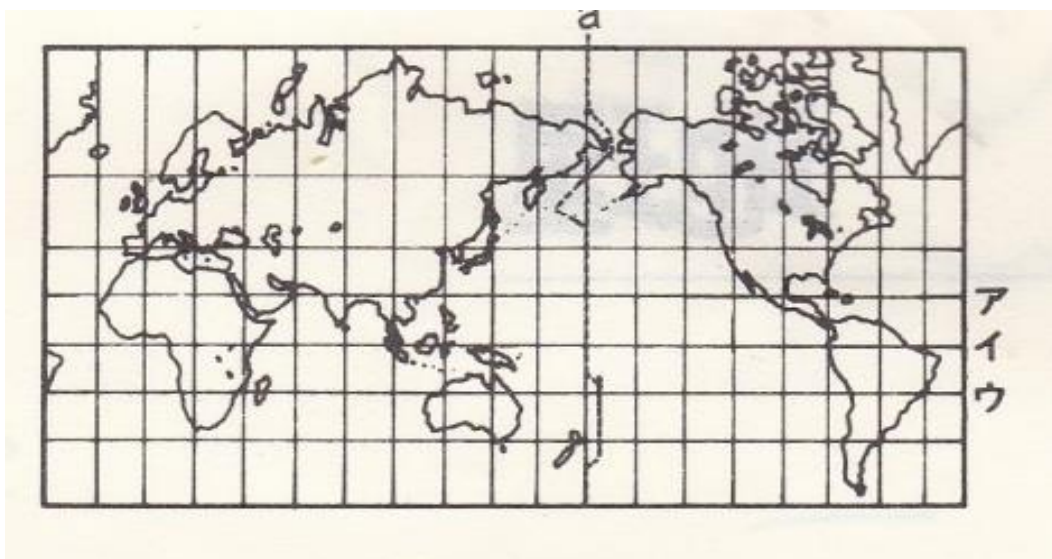
フォレスト学習会

中学生地理（地球のすがた 問題練習NO1 解答は巻末）

問1 次の()に適切な語を書きましょう。

- (1) 世界の六大陸のなかで、最も大きな大陸は()大陸
で、最も小さな大陸は()大陸です。
- (2) 世界の三大洋は、最も大きな()そして
アメリカやイギリスに面した、()とインド洋である。
- (3) ()は地球の形をそのまま縮めたもので
距離、()方位、角度などすべてを正確に表して
います。
- (4) メルカトル図法は()が等しいが
面積がずれる欠点がある。
- (5) モルワイデ図法は()が等しい。
- (6) 中心地点からの距離と方位が正しい地図は、()
であり、 航空図などに使用される。

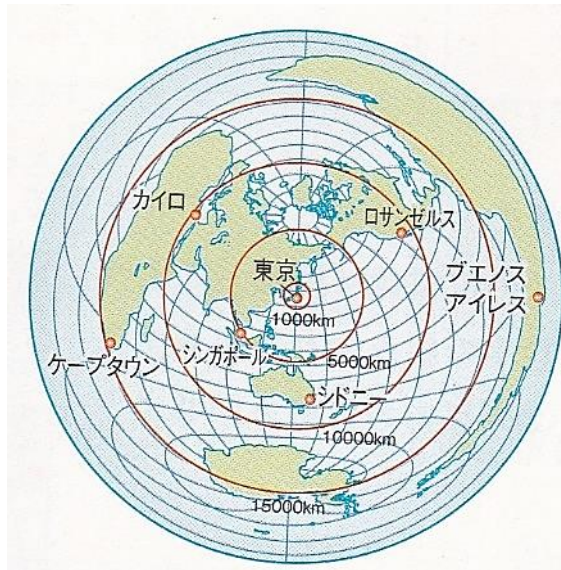
問2 次の地図について下の問に答えましょう。



- (1) 赤道の位置はア、イ、ウのうちでどれですか。()
- (2) 横の線をなんと呼びますか。()
- (3) 縦の線をなんと呼びますか。()
- (4) 縦の線の0度をなんと呼びますか。()
- (5) 縦の線はどの旧天文台を通っていますか。()
- (6) この世界地図はどの図法で書かれたものですか。()

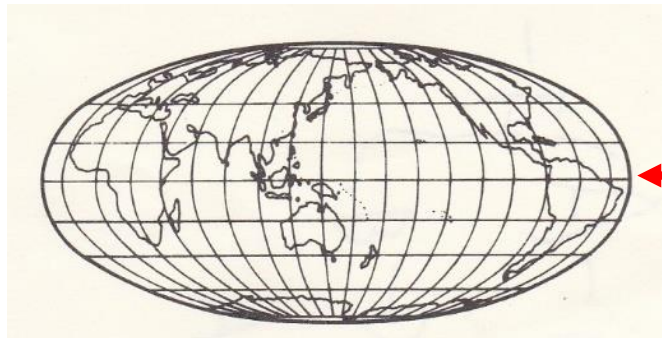
中学生地理（世界のすがた 問題練習NO2 解答は巻末）

問1 次の問に答えましょう。



- (1) 上の地図はどんな図法で作られましたか。()
- (2) この図法はなにが正しい図法ですか。()
- (3) 図の中心の東京から見て一番遠い都市名はどこですか。
()

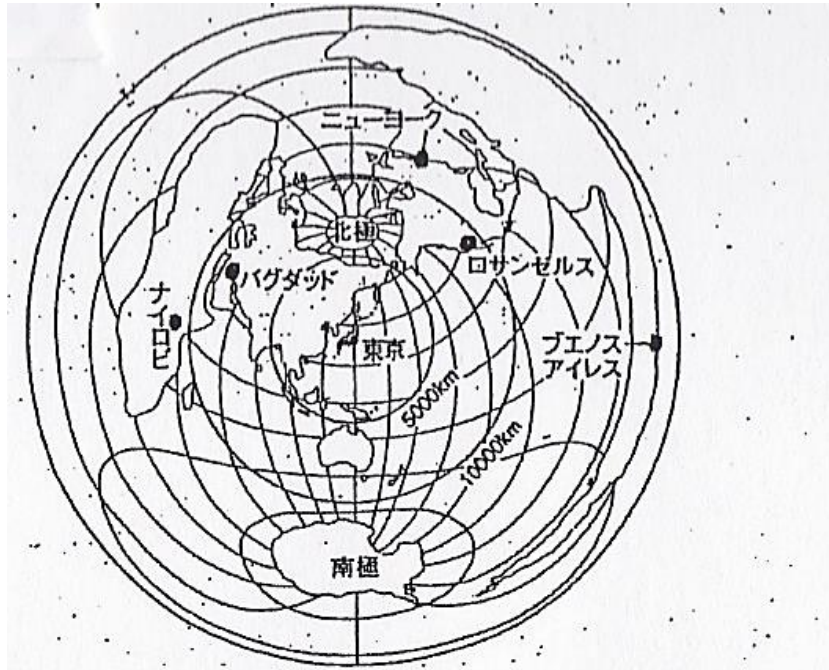
問2 次の()内に適切な語を書きましょう。



- (1) (1)は何と呼ばれる線ですか。()
- (2) (1)の線より北側の半球をなんと呼びますか。()
- (3) (1)の線より南側の半球をなんと呼びますか。()
- (4) 上の図はどんな図法ですか。()
- (5) 高緯度地域では夏に夜になっても太陽が沈まない日があります。
これをなんと呼びますか。()
- (6) 陸地と海洋の面積の比はどうなりますか。(:)

中学生地理 (地球のすがた 問題練習NO3 解答は巻末)

問1 次の図をみて答えましょう。方位は16方位で答えましょう。



- (1) 東京から北北東にある都市を答えましょう。()
- (2) 東京からみるとバグダッドはどの方位にありますか。()
- (3) 東京からロサンゼルスまでの距離はおおよそ何 km でしょうか。
()

問2 次の国名を答えましょう。

- ① 世界最大の面積の国。()
- ② 世界で一番人口の多い国 ()
- ③ 日本からはほぼ反対にあり日系人が多い国 ()

問3 次の問に答えましょう。

- (1) 日本の標準時は何度ですか。()
- (2) 日本の標準時を通るのは何市ですか。()
- (3) 世界の六大陸をすべて書きましょう。
()
- (4) 世界の三大洋をすべて書きましょう。
()
- (5) 国名がライオンに由来する国
()

中学生地理（世界の地域 **問題練習NO4 解答は巻末**）

問1 世界の6つの州を書きましょう。

（ ）

問2 面積と人口が世界で一番小さな国はなんという国ですか。

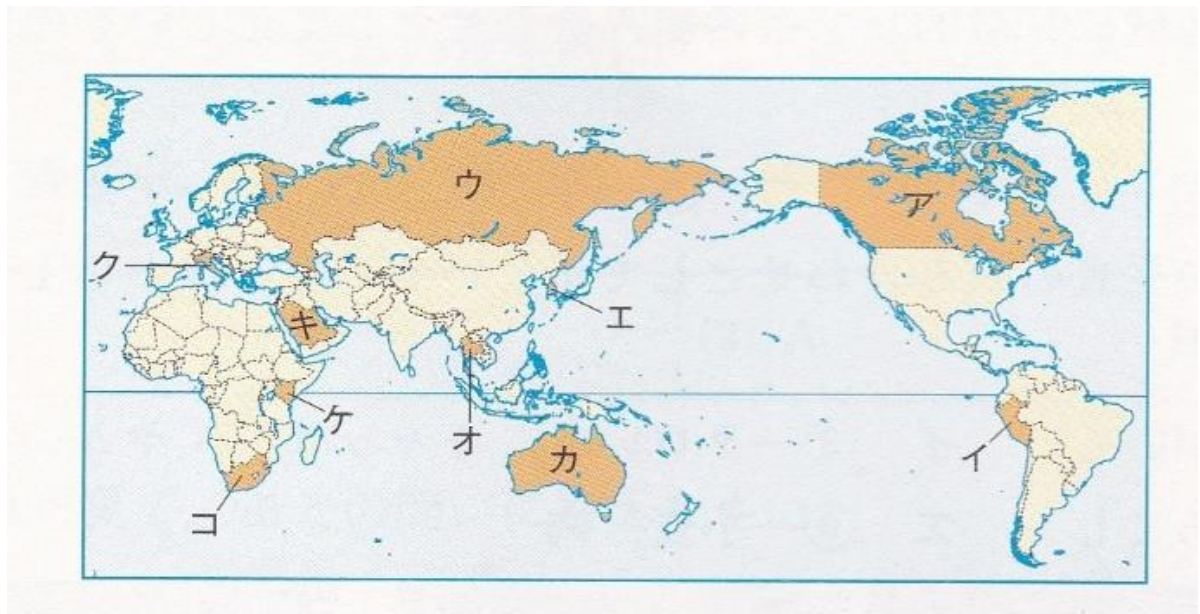
（ ）

問3 世界の6つの州のうち、緯線や経線にそった直線の国が多いのはどの州ですか。（ ）

問4 日本やイギリスなどのように国土が海に囲まれた国をなんといいますか。（ ）

問5 モンゴルやスイスのような国土が海に面していない国をなんといいますか。（ ）

問6 次の問題の国をア～ケから選び国名を答えましょう。



(1) この国の政府の政策で定住したイヌイットは、狩りなどで生活をしている。

（ ）（国名 ）

(2) 高地でリャマやアルパカなど家畜を飼って、生活している人々がいる。

（ ）（国名 ）

(3) 南半球に属し、英語を主に話し以前は人種隔離政策を採っていた国。

（ ）（国名 ）

(4) 世界最大の面積を有し、極めて寒い国。

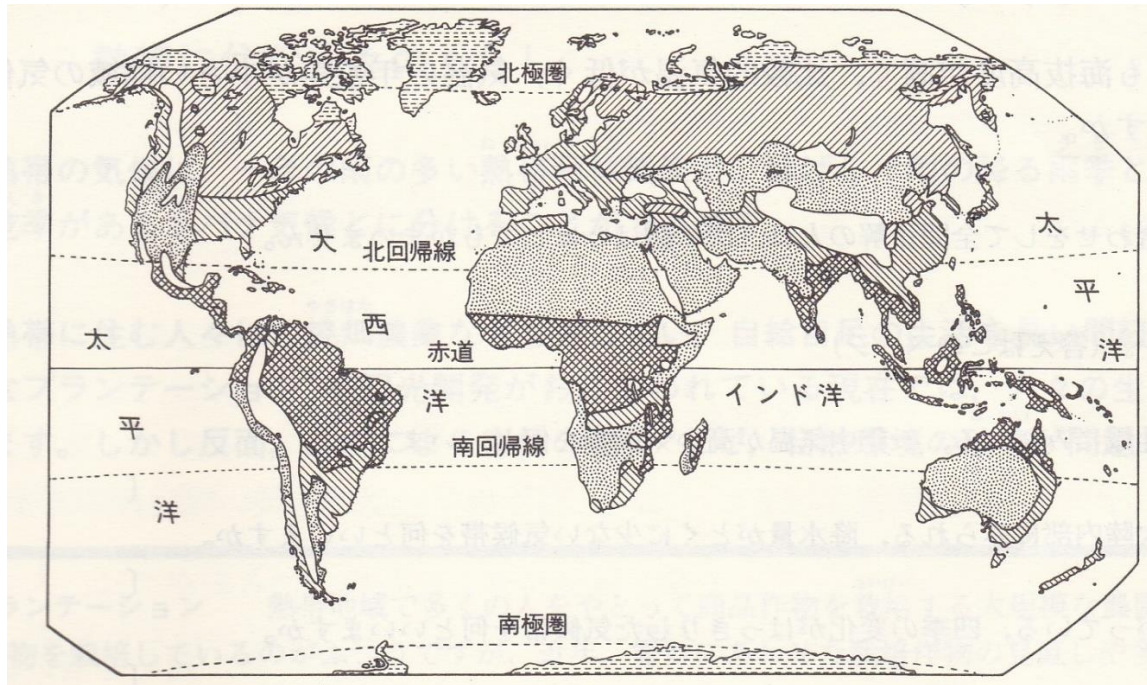
（ ）（国名 ）

(5) ヨーロッパで乾燥した夏にぶどうやオリーブなどの栽培が盛んな国

（ ）（国名 ）

中学生地理 （世界の気候 **問題練習NO5** 解答は巻末）

下の図を参考にしながら以下の問に答えましょう。



問 1 () 内に適切な語を書きましょう。

世界の気候帯は赤道から緯度が上がるにつれ、() 乾燥帯、
() () () となる。

問 2 熱帯は赤道付近にあるが、緯度で考えると高緯度にありますか
それとも低緯度にありますか。

熱帯は () 緯度付近にある。

問 3 乾燥帯は降水量がほとんどありません。しかし一部の地域には
地下水がわいている緑地があります。なんと呼ばれる緑地ですか。

()

問 4 中緯度地域にみられ四季の変化がはっきりした気候帯は何といいますか。

()

問 5 北半球のみにみられ、夏が短く冬の寒さが厳しい地域は何といいますか。

()

問 6 () 内に適切な語を書きましょう。

問 5 の地域では () と呼ばれる針葉樹林帯が
広がっています。

問 7 両極の高緯度地域にみられる気候帯で極めて寒い地域は何といいますか。

()

(世界の気候 問題練習NO6 解答は巻末)

問 次の問に答えましょう。

- (1) 熱帯のなかで一年中、雨の多い地域は何気候とといいますか。
()
- (2) 熱帯の中で雨季と乾季がはっきりしている気候は何気候とといいますか。
()
- (3) 熱帯地域で伝統的に行われてきた農業で草木を焼き払う農業を
なんとといいますか。()
- (4) ヨーロッパ地域の植民地が多かった熱帯の地域で作られる商品作物用
の大規模な農園は何ですか。()
- (5) 赤道付近の低緯度にありながら、海拔高度が高く、比較的溫度が
低い地域の気候はなんですか。()
- (6) 乾燥帯の中には一年の中でわずかながら雨の降る地域がある。
その地域に広がる草原はなんですか。()
- (7) 乾燥帯に住む人々の中には、わずかな草木を求めて移動をしながら家畜を
飼って生活することを何とといいますか。()
- (8) 乾燥帯で移動しながら生活する人が使用するテント式の住居はなんと
いいますか。()
- (9) 英国などのヨーロッパは高緯度ではあるが沖合の暖流と西から吹く
ある風の影響で比較的暖かい。この風はなんという風ですか。
()
- (10) 地中海沿岸の気候の特徴を夏と冬に分けて書きましょう。
(夏は 、冬は)
- (11) 地中海沿岸のイタリアなどの農業で盛んな作物を 2 つ書きましょう。
(と)

地理の中学生（地球のすがたのまとめ **問題練習NO7 解答は巻末**）

問 1 雨季と乾季に分かれる熱帯地方に広がる草原はなんですか。

()

問 2 高緯度地域を比較的温暖な気候にしている西から吹く風はなんですか。()

問 3 世界三大宗教のうち一番、信者数が多いのは何ですか。

()

問 4 宗教上の理由から牛肉を食べない南アジアの国はどこですか。

()

問 5 宗教上の理由でイスラム教徒の人々が食べない肉は何ですか。

()

問 6 乾燥帯の中で少し雨が降る場所に広がる草原はなんといいますか。

()

問 7 サハラ砂漠の南側で砂漠化が進む地域は何と呼ばれる地域ですか。()

問 8 乾燥帯の砂漠地域からでるわき水はなんですか。

()

問 9 熱帯地域で降る強いにわか雨を何と言いますか。()

問 10 世界第二位の人口をがありヒンドゥー教徒が多い国はどこですか。

()

問 11 世界最大の長さのナイル川の河口にある国はどこですか。

()

問 12 南アメリカ大陸にある国にその地形が南北に細長い事の特徴がある国はどこですか。()

問 13 ユーラシア大陸を二つの州に分けると何州と何州に分かれますか。

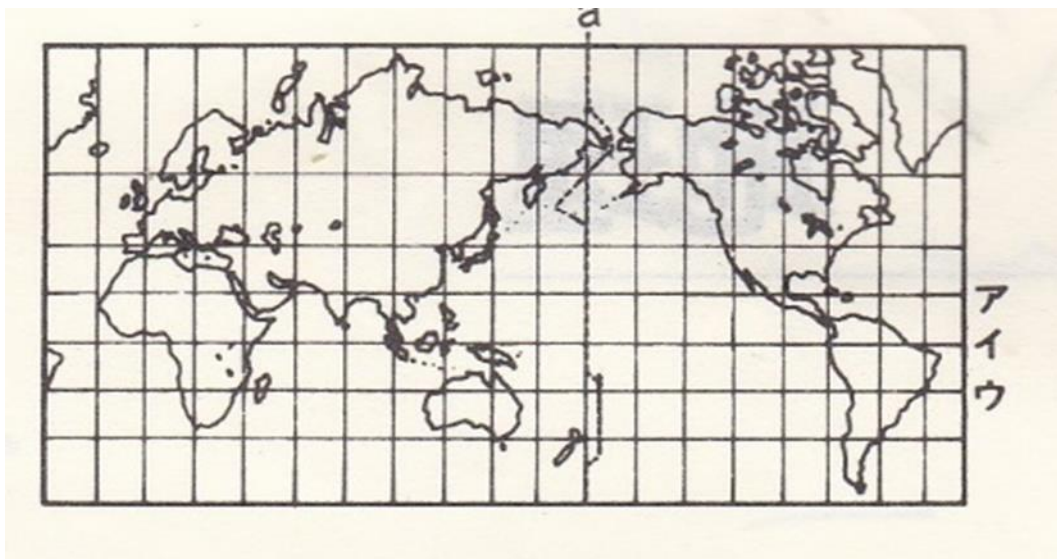
()

中学生地理（地球のすがた **問題練習NO1の解答**）

問1 次の()に適切な語を書きましょう。

- (1) 世界の六大陸のなかで、最も大きな大陸は(**ユーラシア**)大陸で、最も小さな大陸は(**オーストラリア**)大陸です。
- (2) 世界の三大洋は、最も大きな(**太平洋**)そしてアメリカやイギリスに面した、(**大西洋**)とインド洋である。
- (3) (**地球儀**)は地球の形をそのまま縮めたもので距離、(**面積**)方位、角度などすべてを正確に表しています。
- (4) メルカトル図法は (**角度**) が等しいが面積がずれる欠点がある。
- (5) モルワイデ図法は (**面積**) が等しい。
- (6) 中心地点からの距離と方位が正しい地図は、(**正距方位図法**) であり、 航空図などに使用される。

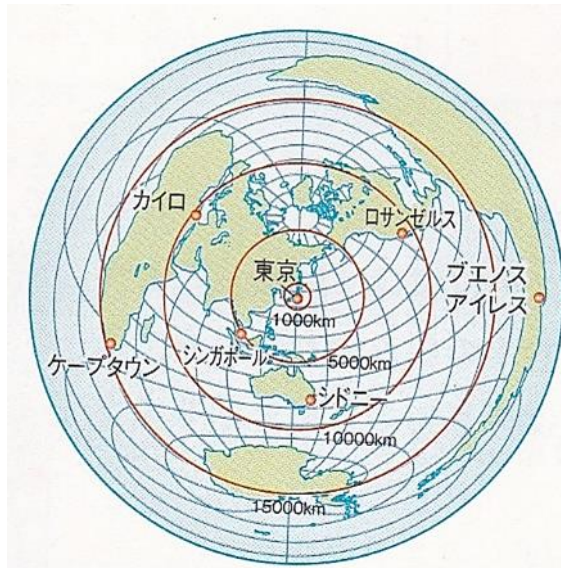
問2 次の地図について下の問に答えましょう。



- (1) 赤道の位置はア、イ、ウのうちでどれですか。 (**イ**)
- (2) 横の線をなんと呼びますか。 (**緯線**)
- (3) 縦の線をなんと呼びますか。 (**経線**)
- (4) 縦の線の0度をなんと呼びますか。 (**本初子午線**)
- (5) 縦の線はどの旧天文台を通っていますか。 (**グリニッジ**)
- (6) この世界地図はどの図法で書かれたものですか。 (**メルカトル図法**)

中学生地理（世界のすがた **問題練習NO2の解答**）

問1 次の問に答えましょう。



(1) 上の地図はどんな図法で作られましたか。（正距方位図法）

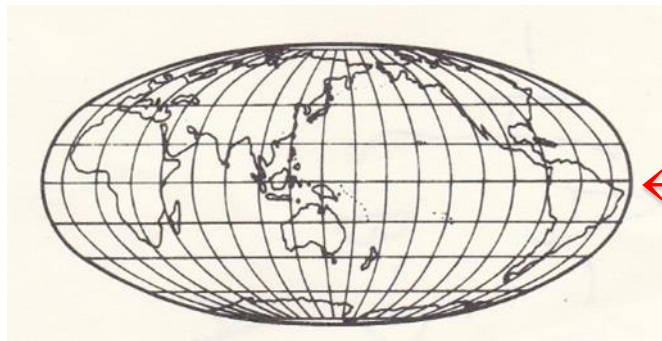
(2) この図法はなにが正しい図法ですか。

（図の中心地からの方位と距離が正確である図法。）

(3) 図の中心の東京から見て一番遠い都市名はどこですか。

（ブエノスアイレス）

問2 次の（ ）内に適切な語を書きましょう。



(1) (1)は何と呼ばれる線ですか。（赤道）

(2) (1)の線より北側の半球をなんと呼びますか。（北半球）

(3) (1)の線より南側の半球をなんと呼びますか。（南半球）

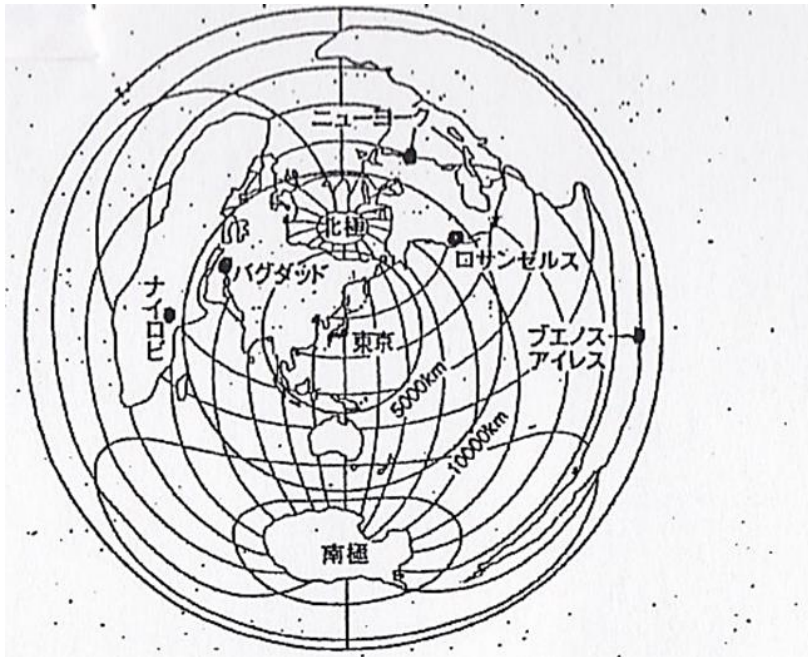
(4) 上の図はどんな図法ですか。（メルカトル図法）

(5) 高緯度地域では夏に夜になっても太陽が沈まない日があります。
これをなんと呼びますか。（白夜）

(6) 陸地と海洋の面積の比はどうなりますか。（3：7）

中学生地理 (地球のすがた **問題練習NO3の解答**)

問1 次の図をみて答えましょう。方位は16方位で答えましょう。



- (1) 東京から北北東にある都市を答えましょう。(ニューヨーク)
- (2) 東京からみるとバグダッドはどの方位にありますか。(北西)
- (3) 東京からロサンゼルスまでの距離はおよそ何 km でしょうか。
(およそ 10000km)

問2 次の国名を答えましょう。

- ① 世界最大の面積の国。(ロシア)
- ② 世界で一番人口の多い国 (中国)
- ③ 日本からほぼ反対にあり日系人が多い国 (ブラジル)

問3 次の問に答えましょう。

- (1) 日本の標準時は何度ですか。(東経 135 度)
- (2) 日本の標準時を通るのは何市ですか。(兵庫県明石市)
- (3) 世界の六大陸をすべて書きましょう。
(ユーラシア大陸・北アメリカ大陸・南アメリカ大陸・アフリカ大陸・
南極大陸・オーストラリア大陸)
- (4) 世界の三大洋をすべて書きましょう。
(太平洋・大西洋・インド洋)
- (5) 国名がライオンに由来する国
(シンガポール)

中学生地理（世界の地域 **問題練習NO4の解答**）

問1 世界の6つの州を書きましょう。

（アジア州・ヨーロッパ州・アフリカ州・北アメリカ州・南アメリカ州
オセアニア州）

問2 面積と人口が世界で一番小さな国はなんという国ですか。

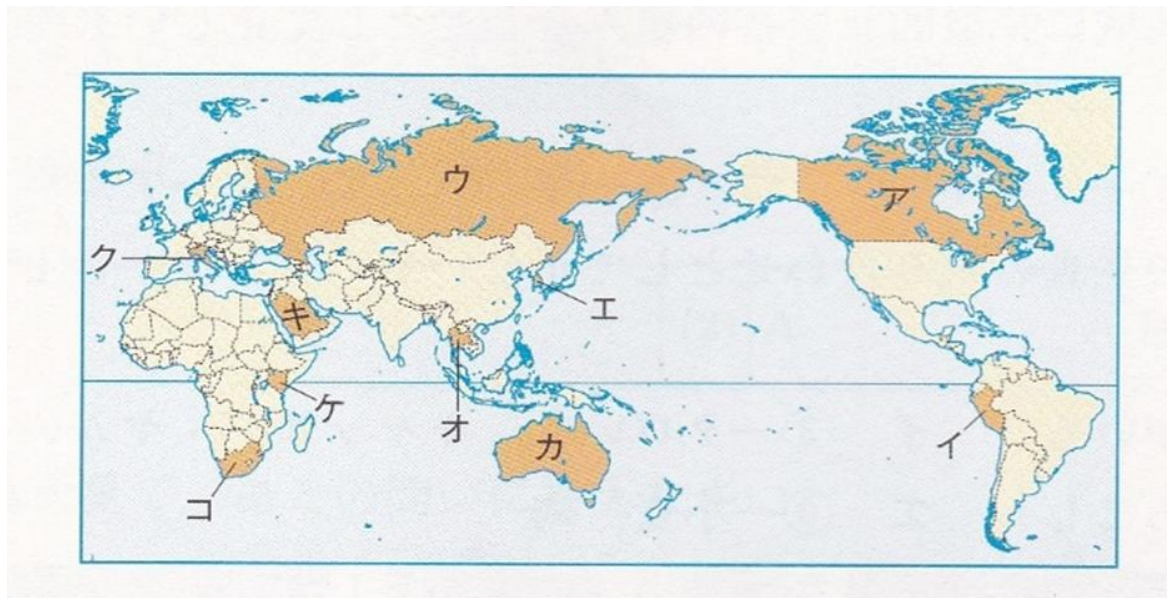
（バチカン市国）

問3 世界の6つの州のうち、緯線や経線にそった直線の国が多いのは
どの州ですか。（アフリカ州）

問4 日本やイギリスなどのように国土が海に囲まれた国を
なんといいますか。（島国又は、海洋国）

問5 モンゴルやスイスのような国土が海に面していない国を
なんといいますか。（内陸国）

問6 次の問題の国をア～ケから選び国名を答えましょう。



(1) この国の政府の政策で定住したイヌイットは、狩りなどで生活をしている。

（ア）（国名 カナダ）

(2) 高地でリャマやアルパカなど家畜を飼って、生活している人々がいる。

（イ）（国名 ペルー）

(3) 南半球に属し、英語を主に話し以前は人種隔離政策を採っていた国。

（コ）（国名 南アフリカ共和国）

(4) 世界最大の面積を有し、極めて寒い国。

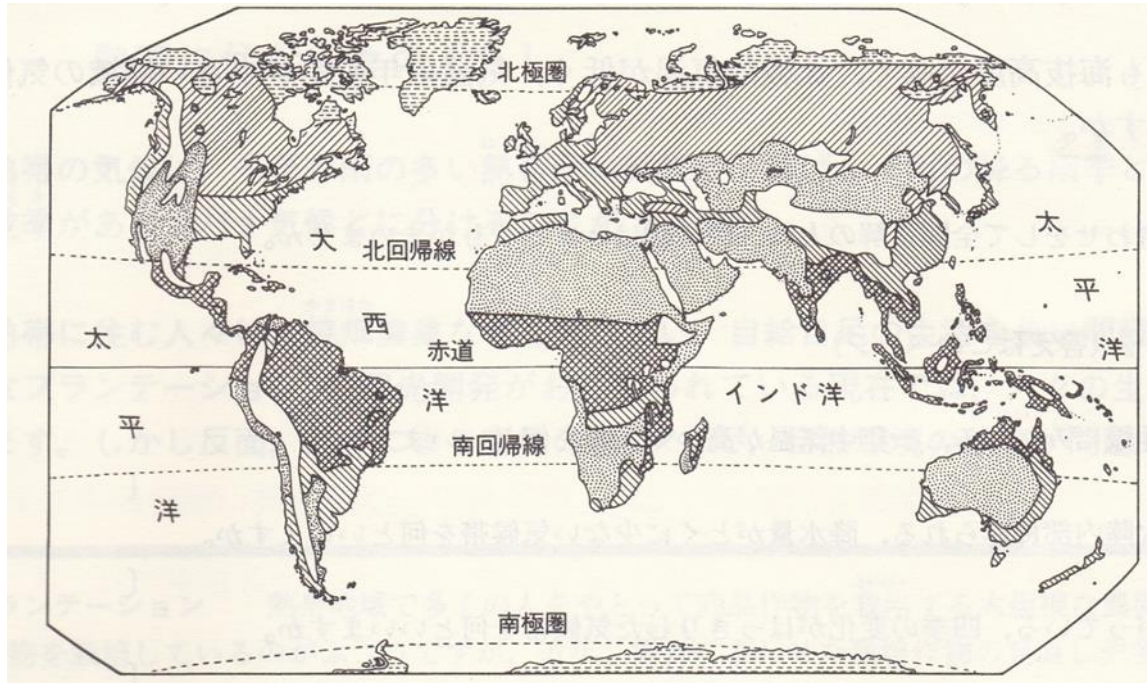
（ユ）（国名 ロシア）

(5) ヨーロッパで乾燥した夏にぶどうやオリーブなどの栽培が盛んな国

（ク）（国名 イタリア）

中学生地理 (世界の気候 問題練習NO5の解答)

下の図を参考にしながら以下の問に答えましょう。



問 1 () 内に適切な語を書きましょう。

世界の気候帯は赤道から緯度が上がるにつれ、(熱帯) 乾燥帯、
(温帯) (冷帯) (寒帯) となる。

問 2 熱帯は赤道付近にあるが、緯度で考えると高緯度にありますか
それとも低緯度にありますか。

熱帯は (低) 緯度付近にある。

問 3 乾燥帯は降水量がほとんどありません。しかし一部の地域には
地下水がわいている緑地があります。なんと呼ばれる緑地ですか。

(オアシス)

問 4 中緯度地域にみられ四季の変化がはっきりした気候帯は何といいますか。

(温帯)

問 5 北半球のみにみられ、夏が短く冬の寒さが厳しい地域は何といいますか。

(冷帯)

問 6 () 内に適切な語を書きましょう。

問 5 の地域では (タイガ) と呼ばれる針葉樹林帯が
広がっています。

問 7 両極の高緯度地域にみられる気候帯で極めて寒い地域は何といいますか。

(寒帯)

(世界の気候 **問題練習NO6の解答**)

問 次の問に答えましょう。

- (1) 熱帯のなかで一年中、雨の多い地域は何気候とといいますか。
(熱帯雨林気候)
- (2) 熱帯の中で雨季と乾季がはっきりしている気候は何気候とといいますか。
(サバナ気候)
- (3) 熱帯地域で伝統的に行われてきた農業で草木を焼き払う農業を
なんとといいますか。(焼畑農業)
- (4) ヨーロッパ地域の植民地が多かった熱帯の地域で作られる商品作物用
の大規模な農園は何ですか。(プランテーション)
- (5) 赤道付近の低緯度にありながら、海拔高度が高く、比較的溫度が
低い地域の気候はなんですか。(高山気候)
- (6) 乾燥帯の中には一年の中でわずかながら雨の降る地域がある。
その地域に広がる草原はなんですか。(ステップ)
- (7) 乾燥帯に住む人々の中には、わずかな草木を求めて移動をしながら家畜を
飼って生活することを何とといいますか。(遊牧)
- (8) 乾燥帯で移動しながら生活する人が使用するテント式の住居はなんと
といいますか。(ゲル)
- (9) 英国などのヨーロッパは高緯度ではあるが沖合の暖流と西から吹く
ある風の影響で比較的暖かい。この風はなんという風ですか。
(偏西風)
- (10) 地中海沿岸の気候の特徴を夏と冬に分けて書きましょう。
(夏は乾燥し、冬は多くの雨がふる。)
- (11) 地中海沿岸のイタリアなどの農業で盛んな作物を2つ書きましょう。
(オリーブ と ぶどう)

地理の中学生（地球のすがたのまとめ **問題練習NO7の解答**）

問1 雨季と乾季に分かれる熱帯地方に広がる草原はなんですか。

（ サバナ ）

問2 高緯度地域を比較的温暖な気候にしている西から吹く風はなんですか。

（ 偏西風 ）

問3 世界三大宗教のうち一番、信者数が多いのは何ですか。

（ キリスト教 ）

問4 宗教上の理由から牛肉を食べない南アジアの国はどこですか。

（ インド ）

問5 宗教上の理由でイスラム教徒の人々が食べない肉は何ですか。

（ 豚肉 ）

問6 乾燥帯の中で少し雨が降る場所に広がる草原はなんといいますか。

（ ステップ ）

問7 サハラ砂漠の南側で砂漠化が進む地域は何と呼ばれる地域ですか。

（ サヘル ）

問8 乾燥帯の砂漠地域からでるわき水はなんですか。

（ オアシス ）

問9 熱帯地域で降る強いにわか雨を何と言いますか。（ スコール ）

問10 世界第二位の人口をがありヒンドゥー教徒が多い国はどこですか。

（ インド ）

問11 世界最大の長さのナイル川の河口にある国はどこですか。

（ エジプト ）

問12 南アメリカ大陸にある国にその地形が南北に細長い事の特徴がある国はどこですか。（ チリ ）

問13 ユーラシア大陸を二つの州に分けると何州と何州に分かれますか。

（ アジア州とヨーロッパ州 ）