

中学生の定期テスト対策
問題です。

このページは表紙です。

次のページから

問題が始まります。

内容は前半がアジア州
の問題です。

後半にヨーロッパ州の
問題があります。

問題の解答は

問題練習の後に

記載してあります。

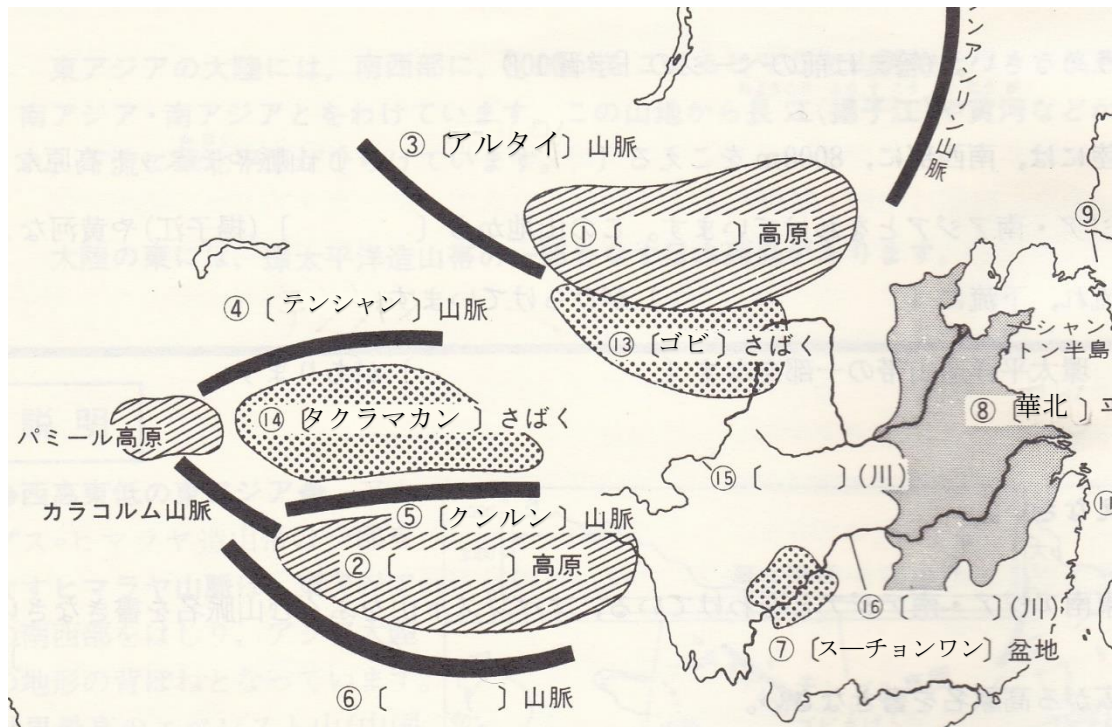
中学生地理

アジア州と ヨーロッパ州の問題

フォレスト学習会

中学生社会（アジア州 問題練習NO1 解答は巻末）

問1次の（ ）内に適切な語を書きましょう。



問2 次の問に答えましょう。

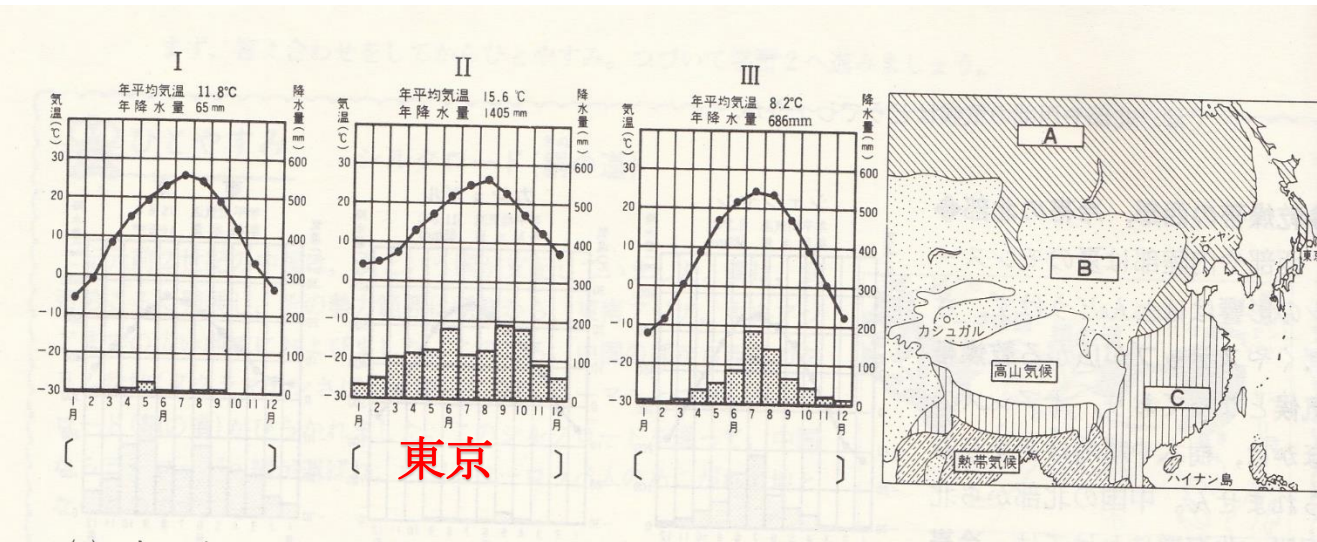
- (1) 東アジアの南東部は夏に太平洋からの季節風の影響を強く受ける。
この季節風を何といいますか。（ ）
- (2) (1)の影響を受けてこの地域では夏にどんな特徴
を受けやすくなりますか。
（ ）
- (3) 中国政府は人口の急激な増加を抑えるため夫婦に子供は
ひとりという政策を過去に採用していた。この政策は何と呼ばれますか。
（ ）
- (4) 中国の首都はどこですか。（ ）
- (5) 中国の人口の90%以上をしめる民族は何族ですか。
（ ）
- (6) 中国では農業生産性を向上させるため個々の農家が独自に農産物を
生産し販売する制度を採用しました。この制度はなんといいますか。
（ ）

中学生地理 (アジア州 問題練習NO2 解答は巻末)

- 問 1 外国の企業を誘致するため中国でも、シェンチェンなど税金面での優遇を採用している地域があるがこの地域は何と呼ばれる地域ですか。()
- 問 2 韓国や台湾など経済発展が著しい地域を何と呼びますか。()
- 問 3 韓国と北朝鮮は緯度何度あたりで分かれていますか。()
- 問 4 インドの 8 割以上の人々が信じる宗教は何ですか。()
- 問 5 中国の華中の工業都市で中国最大の経済都市はどこですか。()
- 問 6 コメの生産が世界最大の国はどこですか。()
- 問 7 東南アジアで盛んな農業は何ですか。()
- 問 8 東南アジアではコメを年に 2 度作る事が有名です。
このことを何といいますか。()
- 問 9 東南アジアで植民地にならなかった国はどこですか。()
- 問 10 タイの大農園で作る有名な輸出用作物は何ですか。()
- 問 11 フィリピンの大農園で作る輸出用作物は何ですか。()
- 問 12 ベトナムの大農園で作る輸出用作物は何ですか。()
- 問 13 インドのデカン高原で世界でも有名な作物は何ですか。()
- 問 14 アッサム地方やスリランカで世界有数の作物は何ですか。()

中学生地理 (アジア州 **問題練習 NO3 解答は巻末**)

- 問 1 中国の農家が個人で経営する企業は何と呼びますか。
()
- 問 2 石油の産出量が世界で一番の国はどこですか。
()
- 問 3 中国で有名な石油の産出地はどこですか。
()
- 問 4 中国で有名な鉄鉱石の産出地はどこですか。
()
- 問 5 ブラジルや中国、ロシア、インドなど経済発展が目覚ましい地域を英語で書きましょう。()
- 問 6 中国は世界第 2 位の経済大国になり、世界の何と呼ばれていますか。(世界の)
- 問 7 次の () に地図を見ながら**東京以外**の都市名を書きしょう。
また A B C の気候帯を答えましょう。



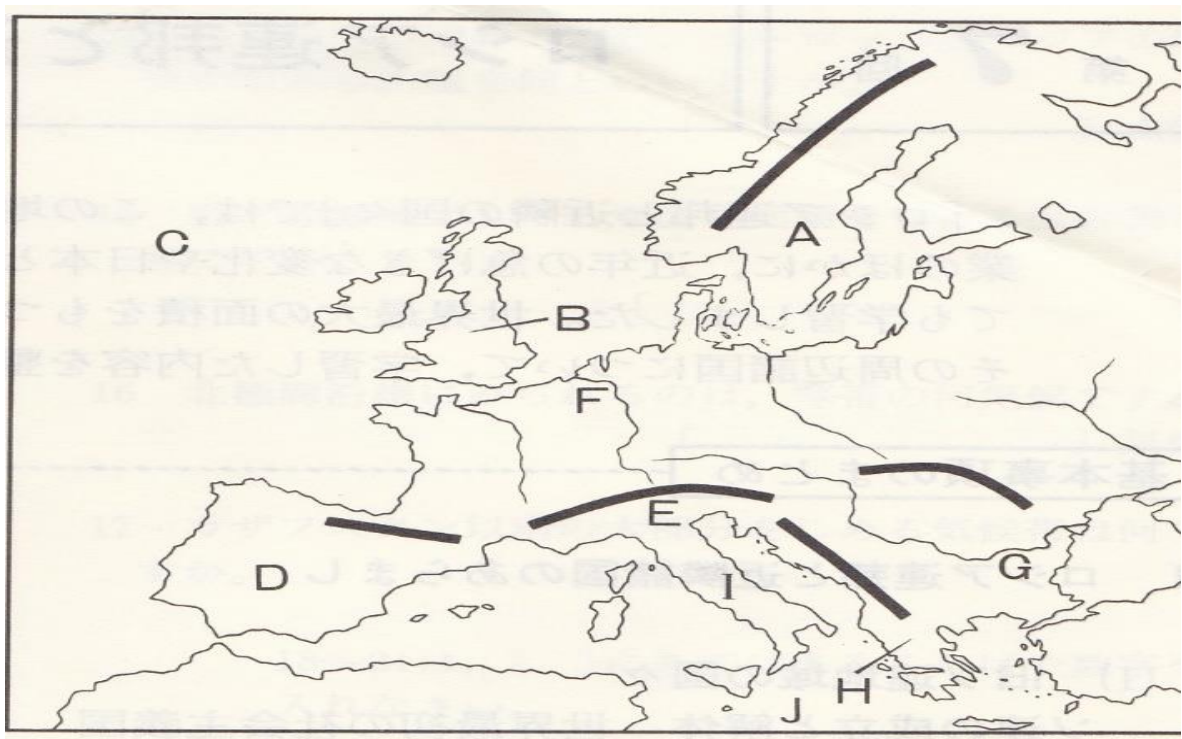
- A.....()
- B.....()
- C.....()

- (1) () 内の地図に適切な語を書きましょう。
- (2) シンガポールのすぐ下には () が通ります。
- (3) 一年中高温で降水量が多く、毎日スコールがあり密林が広がる地域の気候帯をなんといいですか。() 気候
- (4) 地図上の国の中に欧米の植民地を免れた国が一つあります。国名を書き地図上に斜線を引きましょう。()
- (5) 第2次世界大戦でアメリカから独立した国でキリスト教徒が多い国はどこですか。()

中学生地理 (ヨーロッパ州 **問題練習 N05 解答は巻末**)

- 問1 ノルウェーの首都はどこですか。()
問2 スウェーデンの首都はどこですか。()
問3 フィンランドの首都はどこですか。()
問4 フランスの首都はどこですか。()
問5 ドイツの首都を書きましょう。()
問6 イタリアの首都はどこですか。()
問7 ベルギーの首都はどこですか。()
問8 オランダの首都はどこですか。()

問9 次の名称を書きましょう。



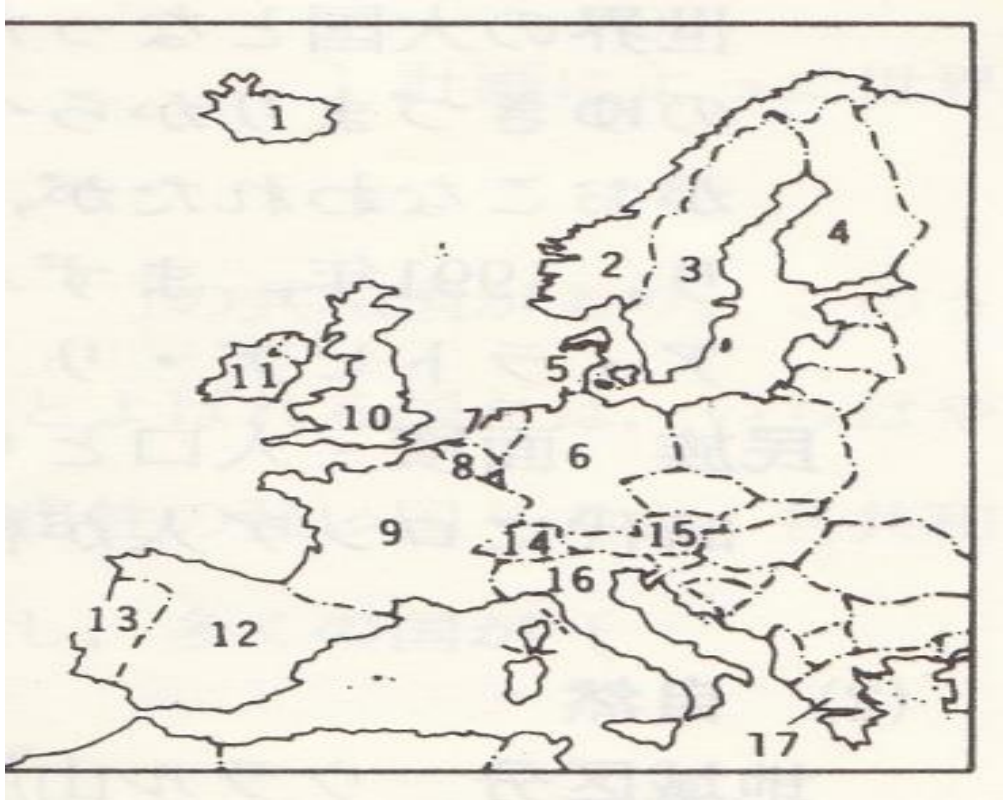
- | | | | |
|-------|----|------------|----|
| A () | 山脈 | B(大ブリテン島) | |
| C () | 洋 | D () | 半島 |
| E () | 山脈 | F() | 川 |
| G () | 川 | H() | 半島 |
| I () | 半島 | J() | 海 |

中学生地理（ヨーロッパ州 **問題練習 N06 解答は巻末** ）

問 1 ヨーロッパではライン川など複数の国をまたぐ川がある。

この川を何と言いますか。（ ）

問 2 次の地図上の国名をこたえ地図上の位置の番号を書きましょう。



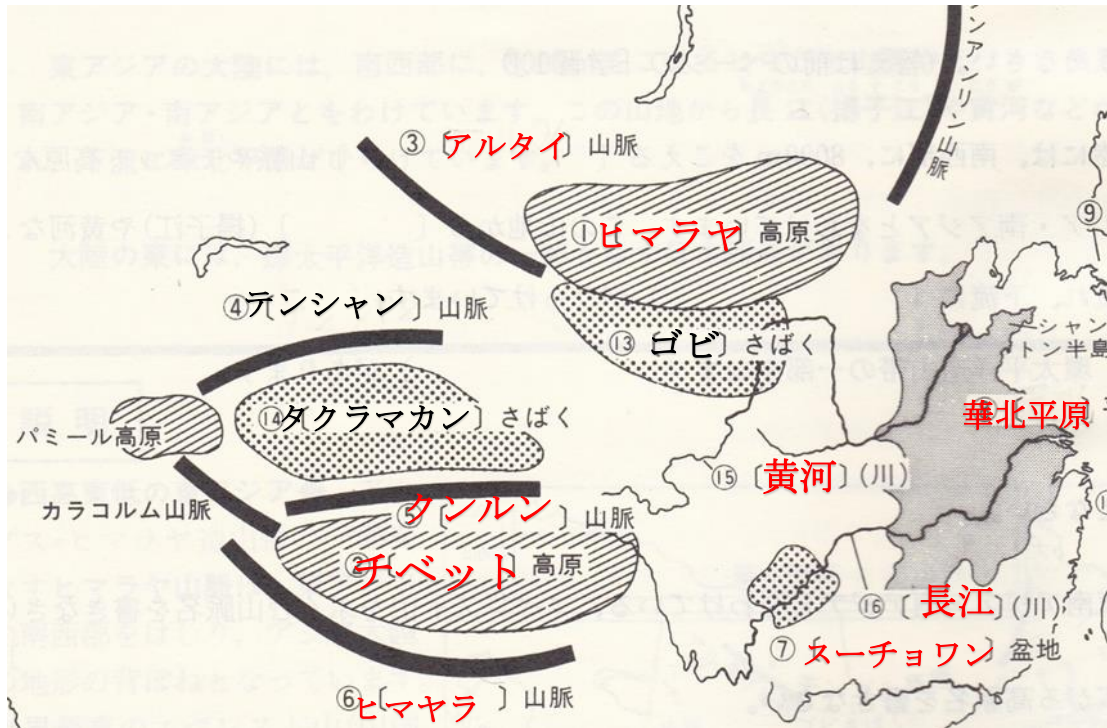
- (1) 第2次世界大戦後、多くの植民地が独立し EU のメンバーとして離脱が議論されている国。（国名 ）（ ）
- (2) オリーブの有数の産地で、かつてはラテンアメリカに広大な植民地を有していた国。（国名 ）（ ）
- (3) ぶどうやオリーブなど地中海式農業が盛んな、地形が長靴形の国。（国名 ）（ ）
- (4) 国土の約 4 分の 1 がポルダーと呼ばれる干拓地。江戸時代から日本と交易があった国。（国名 ）（ ）
- (5) EU 最大の農業国。北部は混合農業。南部は地中海式農業が盛ん・小麦の生産は世界でも有数。（国名 ）（ ）
- (6) 酪農王国とよばれるほど酪農が盛ん。首都はコペンハーゲン。（国名 ）（ ）
- (7) 欧州最大の工業国。1990 年の統一後、世界をリードする先進国。（国名 ）（ ）

中学生地理（ヨーロッパ州 **問題練習 N07 解答は巻末**）

- 問 1 スカンディナビア半島では氷河で作られた谷に海水が入り込んだ入り江が有名である。なんと呼ばれますか。（ ）
- 問 2 EU の本部はどこですか。（ ）
- 問 3 ヨーロッパの屋根と呼ばれる山脈はなんですか。
（ ）山脈
- 問 4 緯度の割にヨーロッパを温暖にしている暖流の名前を答えましょう。
（ ）
- 問 5 ヨーロッパを 1 年中に、西から吹いている風を答えましょう。
（ ）
- 問 6 EU 最大の工業国はどこですか。（ ）
- 問 7 イギリスやノルウェーなどが開発している油田はなんですか。
（ ）油田
- 問 8 EU 最大の農業国を書きましょう。（ ）
- 問 9 ロッテルダムにある EU の貿易港を書きましょう。
（ ）
- 問 10 イギリスとヨーロッパ大陸は 1994 年にトンネルで結ばれました。
このトンネルはなんといいいますか。（ ）
- 問 11 地中海沿岸で行われている農業で、ぶどうやオリーブなどの
生産が盛んな農業をなんといいいますか。
（ ）
- 問 12 ヨーロッパ大陸の内陸部で行われる農業で、飼料作物と
穀物栽培と牧畜を兼ねた農業をなんといいいますか。
（ ）
- 問 13 EU で使われている統一通貨をなんといいいますか。
（ ）
- 問 14 ドイツの有名な工業地域はどこですか。
（ ）
- 問 15 ヨーロッパで主に信仰されている宗教は何ですか。
（ ）

中学生地理 問題練習NO1の解答

問1 次の（ ）内に適切な語を書きましょう。



問2 次の問に答えましょう。

- (1) 東アジアの南東部は夏に太平洋からの季節風の影響を強く受ける。
この季節風を何といいますか。（ モンスーン ）
- (2) (1)の影響を受けてこの地域では夏にどんな特徴を受けやすくなりますか。
(雨が大量に降る 。)
- (3) 中国政府は人口の急激な増加を抑えるため夫婦に子供はひとりという政策を過去、採用していた。この政策は何と呼ばれますか。
(一人っ子政策)
- (4) 中国の首都はどこですか。（ 北京 ）
- (5) 中国の人口の90%以上をしめる民族は何族ですか。
(漢族)
- (6) 中国では農業生産性を向上させるため個々の農家が独自に農産物を生産し販売する制度を採用しました。この制度はなんといいますか。
(生産責任制)

中学生地理 問題練習 NO2 の解答

問 1 外国の企業を誘致するため中国でも、シェンチェンなど税金面での優遇を採用している地域があるがこの地域は何と呼ばれる地域ですか。

(経済特区)

問 2 韓国や台湾など経済発展が著しい地域を何と呼びますか。

(アジア NIES)

問 3 韓国と北朝鮮は緯度何度あたりで分かれていますか。

(北緯 38 度)

問 4 インドの 8 割以上の人々が信じる宗教は何ですか。

(ヒンドゥー教)

問 5 中国の華中の工業都市で中国最大の経済都市はどこですか。

(上海)

問 6 コメの生産が世界最大の国はどこですか。

(中国)

問 7 東南アジアで盛んな農業は何ですか。

(稲作)

問 8 東南アジアではコメを年に 2 度作る事が有名です。

このことを何といいますか。

(二期作)

問 9 東南アジアで植民地にならなかった国はどこですか。

(タイ)

問 10 タイの大農園で作る有名な輸出用作物は何ですか。

(天然ゴム)

問 11 フィリピンの大農園で作る輸出用作物は何ですか。

(バナナ)

問 12 ベトナムの大農園で作る輸出用作物は何ですか。

(コーヒー)

問 13 インドのデカン高原で世界でも有名な作物は何ですか。

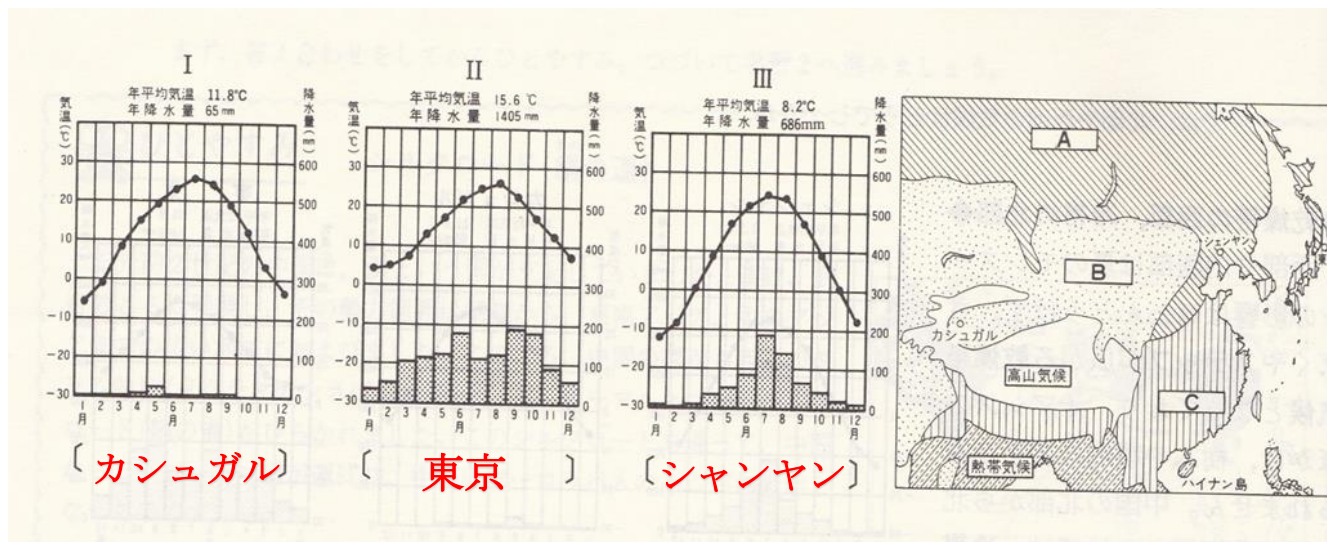
(綿花)

問 14 アッサム地方やスリランカで世界有数の作物は何ですか。

(お茶)

中学生地理 (アジア州 問題練習 NO3 解答)

- 問 1 中国の農家が個人で経営する企業は何と呼びますか。
(郷鎮企業)
- 問 2 石油の産出量が世界で一番の国はどこですか。
(サウジアラビア)
- 問 3 中国で有名な石油の産出地はどこですか。
(フーシュン)
- 問 4 中国で有名な鉄鉱石の産出地はどこですか。
(アンシャン)
- 問 5 ブラジルや中国、ロシア、インドなど経済発展が目覚ましい地域を英語で書きましょう。(BRICS)
- 問 6 中国は世界第 2 位の経済大国になり、世界の何と呼ばれていますか。(世界の工場)
- 問 7 次の () に地図を見ながら東京以外の都市名を書きましょう。
また A B C の気候帯を答えましょう。



- A.....(冷帯)
- B.....(乾燥帯)
- C.....(温帯)

中学生地理 問題練習 NO4 解答

問1 東南アジアのうち中継貿易で繁栄した国はどこですか。

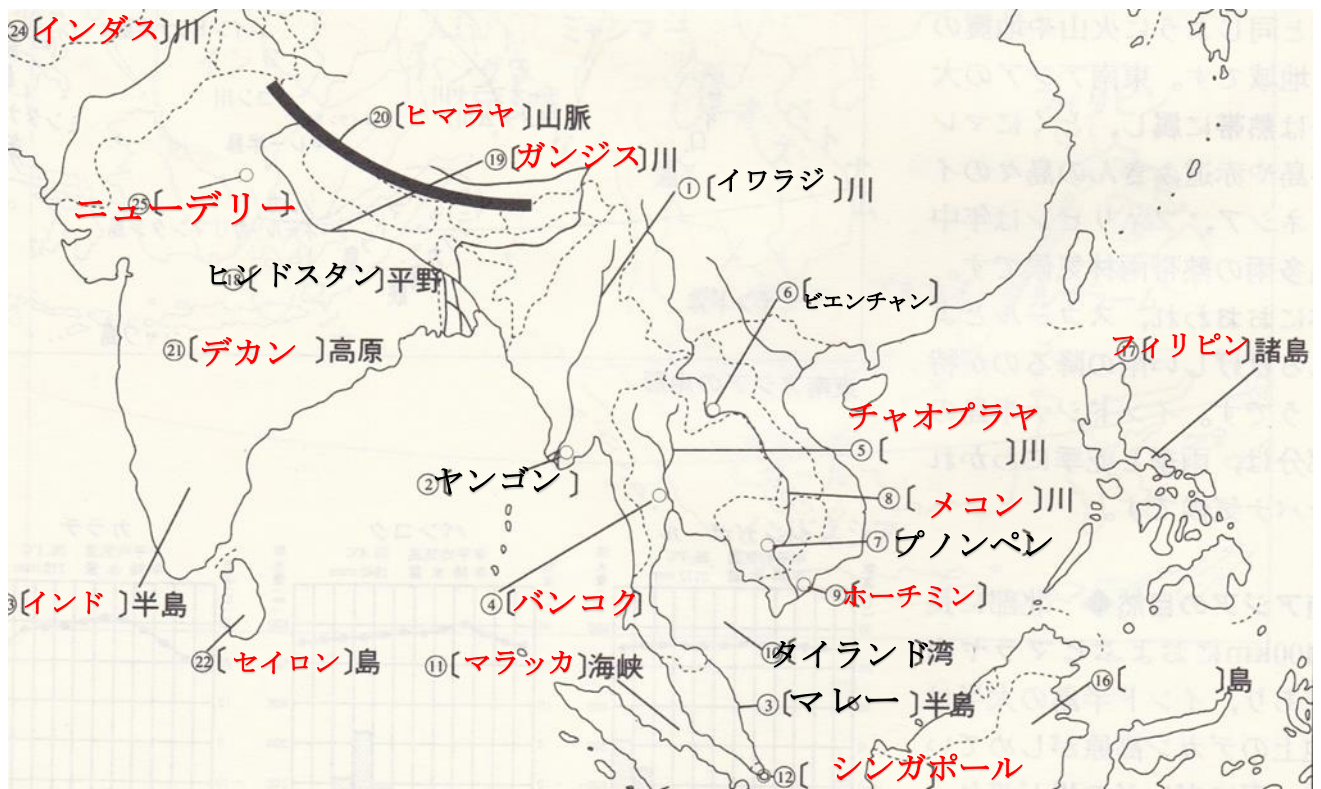
(シンガポール)

問2 ()内に適切な語を書きましょう。

東南アジアは経済発展を目的に (東南アジア諸国連合) ASEAN
を形成し、協力体制を強化していきました。

南アジアにあるインドは綿花産業やお茶の栽培に加えてバンガロールなどで
(IT 産業) や先端技術 (ハイテク) 産業が発達し繁栄しています。

問3 次の問に答えましょう。



(1) () 内の地図に適切な語を書きましょう。

(2) シンガポールのすぐ下には (赤道) が通ります。

(3) 一年中高温で降水量が多く、毎日スコールがあり密林が広がる地域の
気候帯をなんといいますか。 (熱帯雨林) 気候

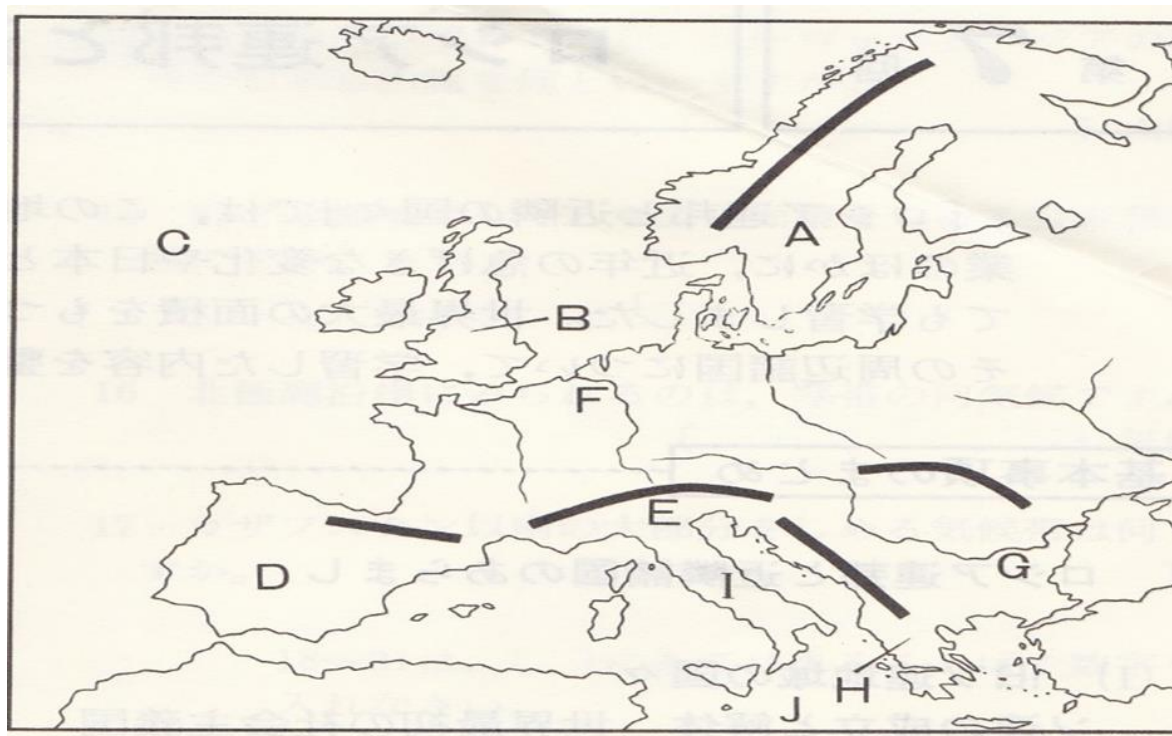
(4) 地図上の国の中に欧米の植民地を免れた国が一つあります。国名を書き
地図上に斜線を引きましょう。 (タイ)

(5) 第2次世界大戦でアメリカから独立した国でキリスト教徒が多い
国はどこですか。 (フィリピン)

中学生地理 (ヨーロッパ州 問題練習 N05 の解答)

- 問1 ノルウェーの首都はどこですか。(オスロ)
問2 スウェーデンの首都はどこですか。(ストックホルム)
問3 フィンランドの首都はどこですか。(ヘルシンキ)
問4 フランスの首都はどこですか。(パリ)
問5 ドイツの首都を書きましょう。(ベルリン)
問6 イタリアの首都はどこですか。(ローマ)
問7 ベルギー首都はどこですか。(ブリュッセル)
問8 オランダの首都はどこですか。(アムステルダム)

問9 次の名称を書きましょう。



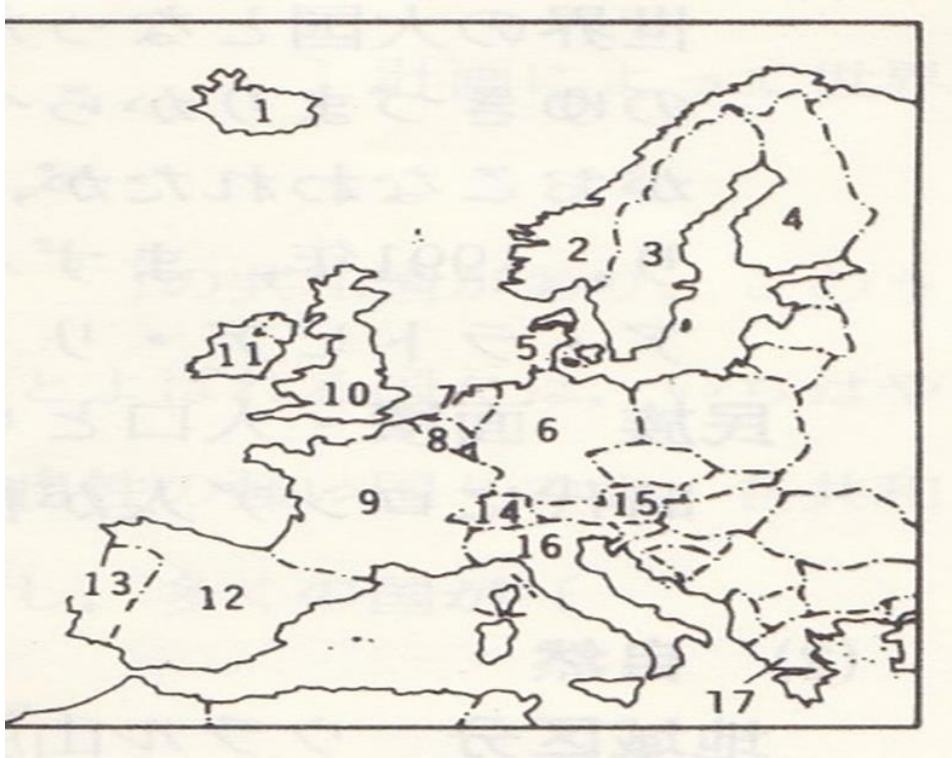
- | | |
|-------------------|-------------|
| A (スカンディナヴィア)山脈 | B(大ブリテン島) |
| C (大西) 洋 | D(イベリア)半島 |
| E (アルプス)山脈 | F(ライン)川 |
| G (ドナウ)川 | H(バルカン)半島 |
| I (イタリア)半島 | J(地中)海 |

中学生地理（ヨーロッパ州 **問題練習 N06 の解答**）

問1 ヨーロッパではライン川など複数の国をまたぐ川がある。

この川を何と言いますか。（ **国際河川** ）

問2 次の地図上の国名をこたえ地図上の位置の番号を書きましょう。



- (1) 第2次世界大戦後、多くの植民地が独立し EU のメンバーとして離脱が議論されている国。（国名 **イギリス** ）（ **10** ）
- (2) オリーブの有数の産地で、かつてはラテンアメリカに広大な植民地を有していた国。（国名 **スペイン** ）（ **12** ）
- (3) ぶどうやオリーブなど地中海式農業が盛んな、地形が長靴形の国。（国名 **イタリア** ）（ **16** ）
- (4) 国土の約4分の1がポルダーと呼ばれる干拓地。江戸時代から日本と交易があった国。（国名 **オランダ** ）（ **7** ）
- (5) EU 最大の農業国。北部は混合農業。南部は地中海式農業が盛ん・小麦の生産は世界でも有数。（国名 **フランス** ）（ **9** ）
- (6) 酪農王国とよばれるほど酪農が盛ん。首都はコペンハーゲン。（国名 **デンマーク** ）（ **5** ）
- (7) 欧州最大の工業国。1990年の統一後、世界をリードする先進国。（国名 **ドイツ** ）（ **6** ）

中学生地理（ヨーロッパ州 **問題練習 N07 の解答**）

問 1 スカンディナビア半島では氷河で作られた谷に海水が入り込んだ入り江が有名である。なんと呼ばれますか。

（ **フィヨルド** ）

問 2 EU の本部はどこですか。（ **ブリュッセル** ）

問 3 ヨーロッパの屋根と呼ばれる山脈はなんですか。

（ **アルプス** ）山脈

問 4 緯度の割にヨーロッパを温暖にしている暖流の名前を答えてみましょう。

（ **北大西洋海流** ）

問 5 ヨーロッパを 1 年中に、西から吹いている風を答えてみましょう。

（ **偏西風** ）

問 6 EU 最大の工業国はどこですか。（ **ドイツ** ）

問 7 イギリスやノルウェーなどが開発している油田はなんですか。

（ **北海** ）油田

問 8 EU 最大の農業国を書きましょう。（ **フランス** ）

問 9 ロッテルダムにある EU の貿易港を書きましょう。

（ **ユーロポート** ）

問 10 イギリスとヨーロッパ大陸は 1994 年にトンネルで結ばれました。

このトンネルはなんといいですか。（ **ユーロトンネル** ）

問 11 地中海沿岸で行われている農業で、ぶどうやオリーブなどの生産が盛んな農業をなんといいですか。

（ **地中海式農業** ）

問 12 ヨーロッパ大陸の内陸部で行われる農業で、飼料作物と穀物栽培と牧畜を兼ねた農業をなんといいですか。

（ **混合農業** ）

問 13 EU で使われている統一通貨をなんといいですか。

（ **ユーロ** ）

問 14 ドイツの有名な工業地域はどこですか。

（ **ルール工業地域** ）

問 15 ヨーロッパで主に信仰されている宗教は何ですか。

（ **キリスト教** ）