

中学生の地理です。  
問題の掲載は以下の  
通りです。

九州地方

中国・四国地方

近畿地方

中部地方

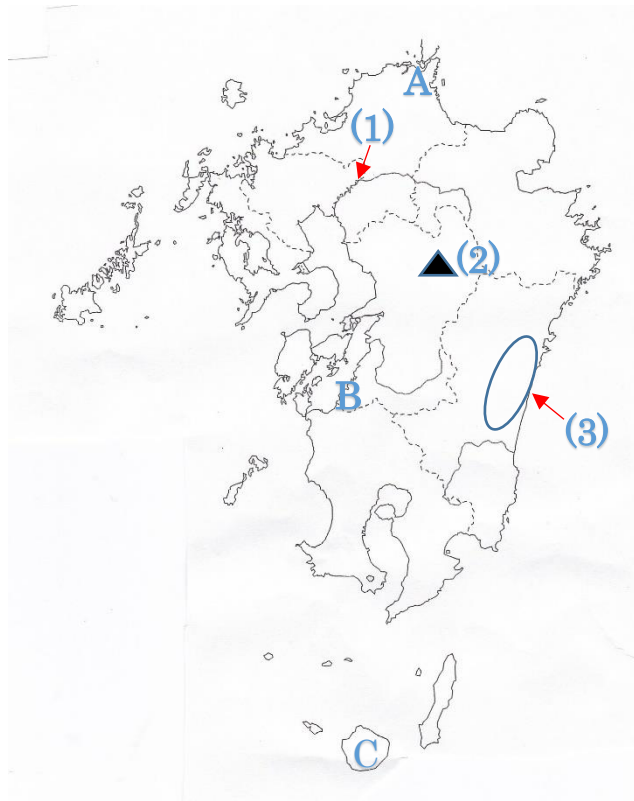
解答は巻末にあります。

中学生地理

# 中学生定期 テスト対策

フォレスト学習会

中学生地理（九州地方 問題No.1 解答は巻末に）



問 1 図の(1)の川,(2)の山、(3)の平野の名前を書きましょう。

(1) ( )川 (2) ( )山 (3) ( )平野

問 2 次の①、②、③の説明に当てはまる場所を地図の A～C より選び  
その地名や島の名前を書きましょう。

① 島の 90%が森林で、世界自然遺産に登録された自然豊かな観光名所。  
アルファベット ( ) 地名 ( )

② 鉄鋼業で繁栄したがエネルギー革命後は少しずつ産業構造を変化させ、  
現在ではエコタウン構想のもと自然に優しい都市作りに取り組んで  
いる。  
アルファベット ( ) 地名 ( )

③ かつては四大公害病が発生した。現在は環境モデル都市に選ばれている。  
アルファベット ( ) 地名 ( )

中学生地理 (九州地方 **問題 NO2 解答は巻末に**)

問 1 ( ) 内に適切な語を書きましょう。

九州の北部地域の筑後川流域に広がる筑紫平野に、筑後川から  
( ) と呼ばれる水路で水を供給している。

筑紫平野は九州では代表的な稲作地帯で、1年に2つの違う作物を  
作る ( ) が盛んである。

宮崎県に広がる宮崎平野では、暖かい気候を利用して出荷時期を他の  
地域より早く出荷して農作物の出荷数を伸ばす、( ) 栽培  
が盛んである。

九州南部に広がる火山灰が広がってできる土地を ( ) 台地  
といいます。

( ) 台地は、火山灰が積もり出来たため  
水をためて行う稲作には適していないので、水をそれほど必要としない  
( ) などの畑作や豚の畜産業などを行っている。

北九州市は九州では有数の工業地帯であるが 1901 年に官営の  
( ) が創業して以来、製鉄業が  
盛んであったが、工場から出る煙に周辺住民が悩まされる  
公害問題も生じてきた。現在の北九州市ではこの公害問題を  
踏まえ、環境にやさしい、( ) な社会を  
目指して、リサイクル工場を北九州市に集めて、( )  
を作り上げた。

問 2 熊本県の阿蘇山に見られる、火山の噴火口がくぼんでできた  
地形をなんといいますか。

( )

問 3 日本国内の米軍の基地が集中し周辺住民との問題も  
懸念されるているのは何県ですか。

( )

問 4 長崎市や佐世保市で盛んな産業はなんですか。

( )

問 5 沖縄県で盛んな産業はなんですか。

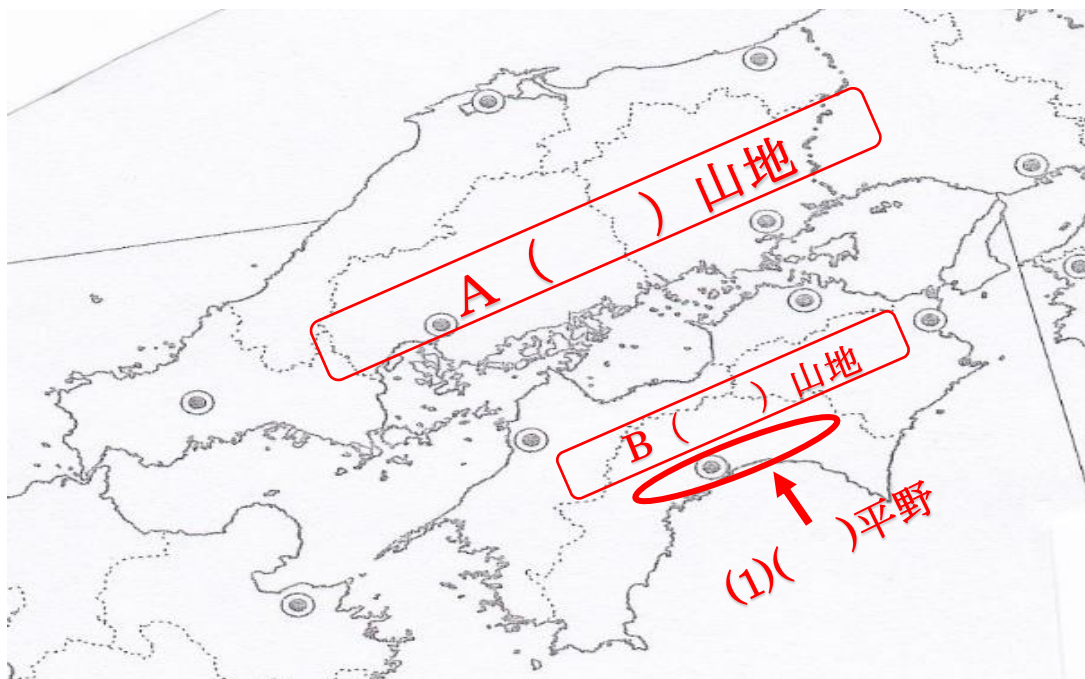
( )

中学生地理 (中国・四国地方 問題N o 3 解答は巻末)

問 1 ( ) 内に適切な語を書きましょう。

中国地方は 3 つに区分けすることができます。産業がなく過疎問題を抱えた ( ) や産業が発達し広島県などを含む ( ) そして高知県など太平洋側の ( ) の 3 つに地域区分できる。

問 2 次の A と B 山地名を答えましょう。また (1) の平野名を答えこの地域の気候を利用した野菜の栽培方法を答えましょう。



A ( ) 山地

B ( ) 山地

(1) ( ) 平野

野菜の栽培方法 ( ) 栽培

問 2 次の(1)～(3)の説明はどの地域の気候を説明したものですか。

【 ( ) 】の中から地域を選びなさい。

【 瀬戸内地方の気候、山陰地方の気候、南四国地方の気候 】

(1) 冬は北西の季節風の影響を受けて降水量が多い。

( )

(2) 中国山地と四国山地に囲まれて季節風の影響は受けない。

年間の降水量は少なく、気温差は小さい、

( )

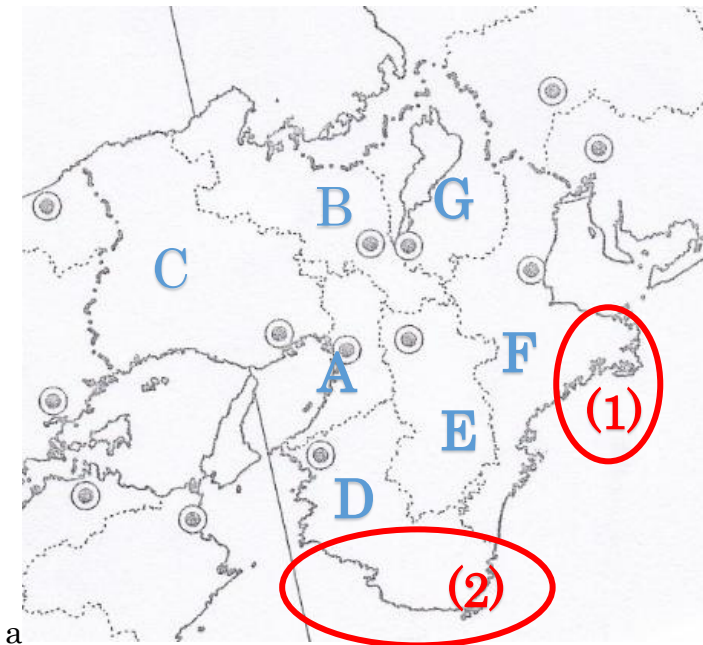
(3) 夏は南東の季節風の影響を受けたり、台風の進路となり降水量が多い。

冬も温暖である。( )

中学生地理（中国・四国地方 **問題N o 4 解答は巻末**）

- 問 1 島根県の県庁所在地は何市ですか。  
( )
- 問 2 香川県にある讃岐平野は雨が不足しがちです。このため吉野川から水を引いています。なんという用水ですか。  
( )
- 問 3 日本で一番人口が少ないのは島根県ですか、それとも鳥取県ですか。  
( )
- 問 4 鳥取県には日本でも有数の砂丘がある。なんという砂丘ですか。  
( )
- 問 5 中国・四国地方で一番人口が多い県はどこですか。  
( )
- 問 6 広島県はなんの養殖で有名ですか。  
( )
- 問 7 愛媛県で生産がとても盛んな果物は何ですか。  
( )
- 問 8 岡山県倉敷市の水島地区で盛んな工業を答えましょう。  
( )工業
- 問 9 広島市で原爆の被害の大きさを伝えている建物で世界遺産に登録されているものは何ですか。  
( )
- 問 10 広島市は、福岡市や仙台市と共に中国・四国地方において中央官庁の出先機関や大企業の支店などが多く存在しているためなんと呼ばれていますか。  
( )
- 問 11 瀬戸内工業地域では複数の工場を結びつけることで効率よく生産をおこなっている。この結びついた工場のことをなんといいますか。  
( )
- 問 12 本州と四国を結ぶ 3 つの橋を総称してなんと呼びますか。  
( )

中学生地理（近畿地方 問題No.5 解答は巻末）



a

(1) 都道府県名を書きましょう。

A( ) B( )  
C( ) D( )  
E( ) F( )  
G( )

(2) 赤で囲んだ半島名を答えましょう。

(1) ( )半島 (2) ( )半島

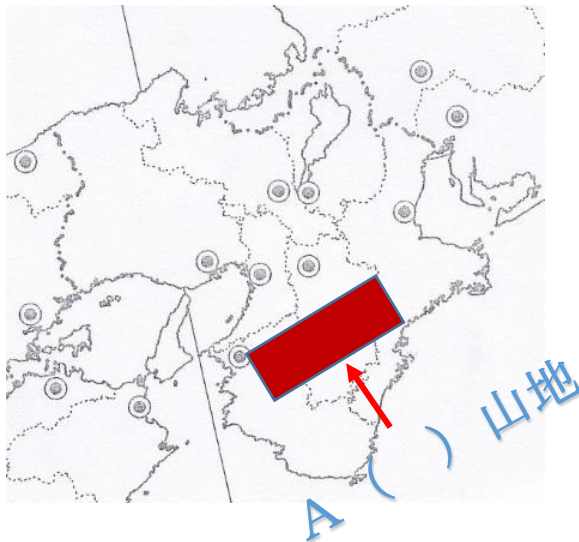
(3) 次の文章に当てはまる県名を上を図を参考にしながら答えましょう。

答えはアルファベットではなく県名を書きましょう。

- ① 琵琶湖がある県。 ( )
- ② 半島で真珠の養殖が盛んな県 ( )
- ③ 平安京として日本の首都であった時期がある。 ( )
- ④ ミカン栽培の盛んな県 ( )
- ⑤ 近畿地方最大の人口があり江戸時代には天下の台所と呼ばれた。 ( )
- ⑥ 造船業が盛んな神戸市や人工島のポートアイランドがある。 ( )

中学生地理（近畿地方 問題No.6 解答は巻末）

問1 次の図を見て答えましょう。



(イ) Aの山地名を答えましょう。

( )山地

(ロ) ( )に適切な言葉を書きましょう。

Aの山地近辺は、極めて降水量が多いため木々が育ちやすく  
林業が盛んである。A山地には( )や( )  
が生産されていて日本でも有数のブランド木材となっている。  
大阪府から兵庫県の臨海部にかけて日本でも有数の工業地帯  
である( )地帯が広がっている。  
この工業地帯は、戦前は( )工業が盛んであったが  
現在では( )工業の生産が他の工業地帯と比べて  
多い特徴がある。

またこの工業地帯は部品を作ったり大きな仕事の下請け  
を行う( )が多いのが特徴である。

日本有数の工業地帯であるこの地帯には工業生産を行う過程で  
大量の水を必要としており地下水のくみ上げによる

( )が問題となっている。

京都府はかつては都が置かれ、金閣や銀閣、そして古くからの街並み  
までが、( )として登録されている、

京都には西陣織や京友禅など( )がある。

中学生地理（中京地方 問題 NO7 解答は巻末）

問 次の地図を見て答えましょう。



(イ) A～J までの都道府県名を答えましょう。

A( )県 B( )県 C( )県  
D( )県 E( )県 F( )県  
G( )県 H( )県 I( )県

(ロ) 赤い丸く囲んだ湾を書きましょう。

( ) 湾

(ハ) (ロ)の湾ですが周辺部分に建設されている発電所は下のうちどれですか。

【 水力発電所・火力発電所・原子力発電所】

( )

(ニ) a の半島は ( ) 半島といいます。この半島では

名古屋など大都市圏に電照菊などの ( ) 農業が盛んである。

(ホ) 名古屋市周辺には中央官庁の出先機関や大企業が集中しており

( ) を形成している。



中学生地理 （中部地方 問題 NO8 解答は巻末）

問 1 （ ） 内に適切な語を書きましょう。

中部地方は 3 つに区分けすることができます。日本海側の（ ）  
そして内陸部の（ ）そして太平洋側の（ ）の  
3 つの地域に区分けできます。

日本海側の気候ですが、冬に降水量が（ ）のが特徴です。

内陸部は年間の降水量が少なく気温差が高いのが特徴です。

太平洋側は、夏の降水量が（ ）のが特徴です。

新潟県は日本で一番長い川である（ ）川が越後平野を  
流れている。越後平野では稲作作りが盛んであるが、労働力を集中させて  
1 年に 1 回のみコメを作る（ ）地帯が広がる。  
新潟産の（ ）というブランド米は有名である。

問 2 日本アルプスといわれる 3 つの山脈をすべて書きましょう。  
（ ）

問 3 次の①～④までと関係のあるものをア～エより選びましょう。

- ① 濃尾平野 （ ）
- ② 牧ノ原台地 （ ）
- ③ 中央高地の高原 （ ）
- ④ 甲府盆地 （ ）

ア お茶の生産

イ 輪中

ウ 高冷野菜の抑制栽培

エ 扇状地を利用したブドウや桃の栽培

中学生地理（中部地方      **問題No.9 解答は巻末**）

問題 1      次の①～④までと関係のあるものをア～オより選びましょう。

- ① 鯖江市                      (                      )
- ② 輪島市                      (                      )
- ③ 豊田市                      (                      )
- ④ 浜松市                      (                      )
- ⑤ 四日市市                   (                      )

ア   オートバイの生産

イ   メガネのフレームの生産

ウ   伝統的工芸品

エ   自動車の生産

オ   石油化学工業

問 2      (                      ) 内に適切な語を書きましょう。

名古屋を中心とする (                      ) 地帯は  
日本で一番の出荷額の工業地帯である。

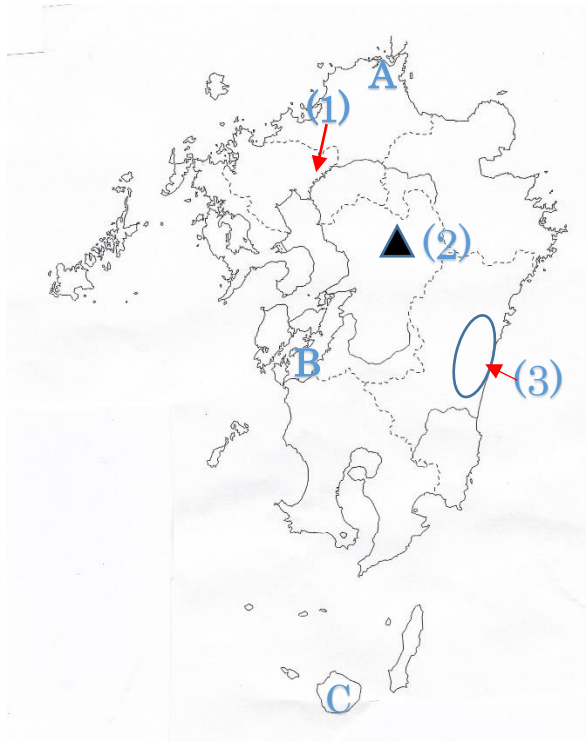
特に、自動車産業が盛んで部品などを作る工場も多く  
(                      ) 工業の割合が高い。

また、静岡県 of 浜松市や富士市などを中心とした  
(                      ) 地域は機械工業の割合が多く、  
特に浜松市は (                      ) や (                      )  
の生産が多い事が有名である。

問 3      次の県の県庁所在地を書きなさい。

- (1)    三重県 (                      )                      (2) 山梨県 (                      )
- (3)    石川県 (                      )

中学生地理（九州地方 問題No.1 の解答）



問 1 図の(1)の川、(2)の山、(3)の平野の名前を書きましょう。

(1) ( 筑後 ) 川 (2) ( 阿蘇 ) 山 (3) ( 宮崎 ) 平野

問 2 次の①、②、③の説明に当てはまる場所を地図の A～C より選び  
その地名や島の名前を書きましょう。

① 島の 90%が森林で、世界自然遺産に登録された自然豊かな観光名所。

アルファベット ( C ) 地名 ( 屋久島 )

② 鉄鋼業で繁栄したがエネルギー革命後は少しずつ産業構造を変化させ、  
現在ではエコタウン構想のもと自然に優しい都市作りに取り組んで  
いる。

アルファベット ( A ) 地名 ( 北九州市 )

③ かつては四大公害病が発生した。現在は環境モデル都市に選ばれている。

アルファベット ( B ) 地名 ( 水俣市 )

中学生地理 (九州地方 問題 NO2 の解答)

問 1 ( ) 内に適切な語を書きましょう。

九州の北部地域の筑後川流域に広がる筑紫平野に、筑後川から

( クリーク ) と呼ばれる水路で水を供給している。

筑紫平野は九州では代表的な稲作地帯で、1 年に 2 つの違う作物を

作る ( 二毛作 ) が盛んである。

宮崎県に広がる宮崎平野では、暖かい気候を利用して出荷時期を他の

地域より早く出荷して農作物の出荷数を伸ばす、( 促成 ) 栽培

が盛んである。

九州南部に広がる火山灰が広がってできる土地を ( シラス ) 台地  
といいます。

( シラス ) 台地は、火山灰が積もり出来たため

水をためて行う稲作には適していないので、水をそれほど必要としない

( サツマイモ栽培 ) などの畑作や豚の畜産業などを行っている。

北九州市は九州では有数の工業地帯であるが 1901 年に官営の

( 八幡製鉄所 ) が創業して以来、製鉄業が

盛んであったが、工場から出る煙に周辺住民が悩まされる

公害問題も生じてきた。現在の北九州市ではこの公害問題を

踏まえ、環境にやさしい、( 持続可能 ) な社会を

目指して、リサイクル工場を北九州市に集めて、( エコタウン )

を作り上げた。

問 2 熊本県の阿蘇山に見られる、火山の噴火口がくぼんでできた  
地形をなんといいますか。

( カルデラ )

問 3 日本国内の米軍の基地が集中し周辺住民との問題も

懸念されるているのは何県ですか。

( 沖縄県 )

問 4 長崎市や佐世保市で盛んな産業はなんですか。

( 造船業 )

問 5 沖縄県で盛んな産業はなんですか。

( 観光産業 )

中学生地理 (中国・四国地方 問題N o 3 の解答)

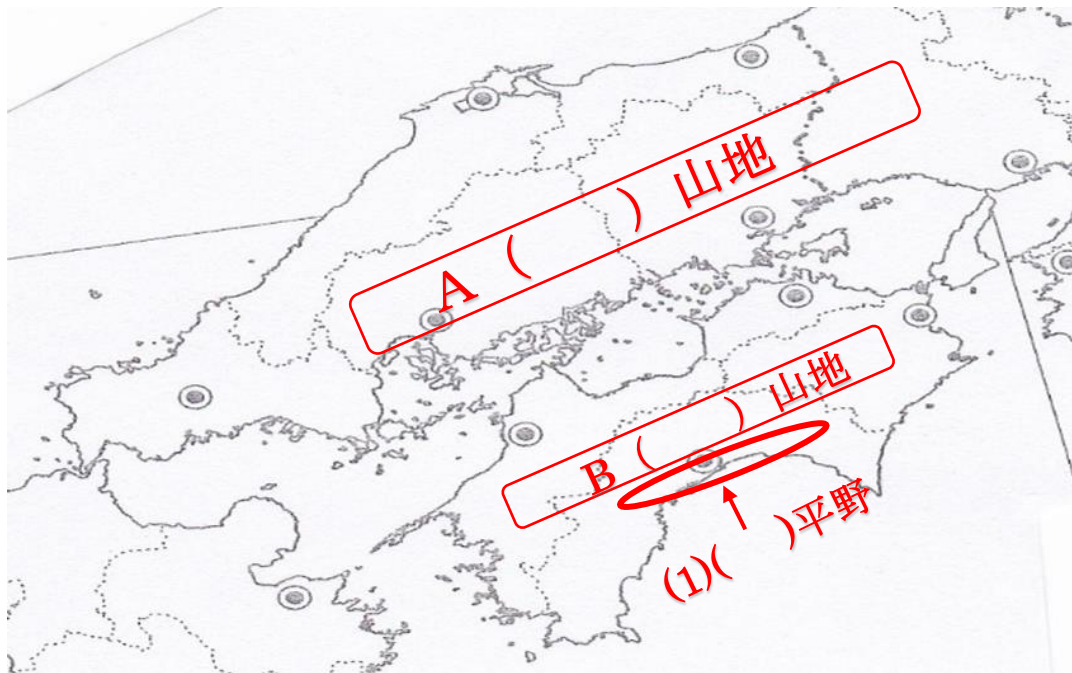
問 1 ( ) 内に適切な語を書きましょう。

中国地方は 3 つに区分けすることができます。産業がなく過疎問題を

抱えた ( 山陰 ) や産業が発達し広島県などを含む

( 瀬戸内 ) そして高知県など太平洋側の ( 南四国 ) の  
3 つに地域区分できる。

問 2 次の A と B 山地名を答えましょう。また (1) の平野名を答え  
この地域の気候を利用した野菜の栽培方法を答えましょう。



A ( 中国 ) 山地 B ( 四国 ) 山地

(1) ( 高知 ) 平野 野菜の栽培方法 ( 促成 ) 栽培

問 2 次の(1)～(3)の説明はどの地域の気候を説明したものですか。

【 】の中から地域を選びなさい。

【 瀬戸内地方の気候、山陰地方の気候、瀬戸内地方の気候 】

(1) 冬は北西の季節風の影響を受けて降水量が多い。

( 山陰地方の気候 )

(2) 中国山地と四国山地に囲まれて季節風の影響は受けない。

年間の降水量は少なく、気温差は小さい、

( 瀬戸内地方の気候 )

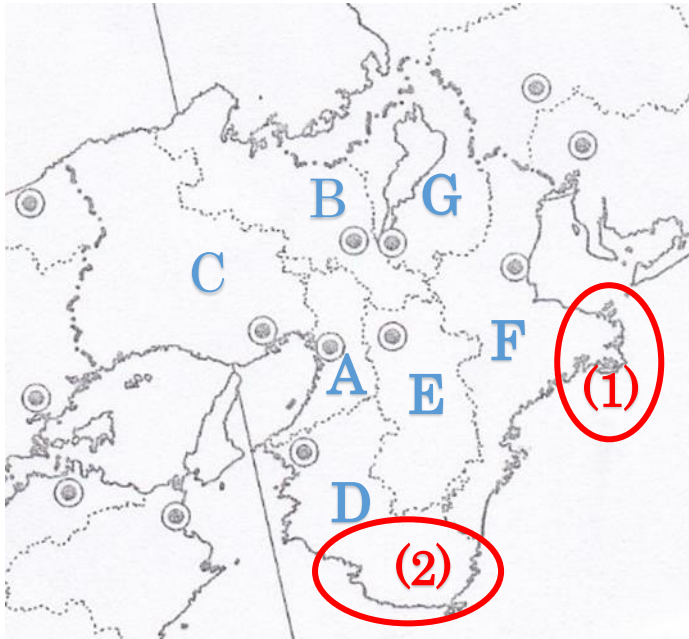
(3) 夏は南東の季節風の影響を受けたり、台風の進路となり降水量が多い。

冬も温暖である。( 南四国地方の気候 )

中学生地理（中国・四国地方 **問題 NO4 解答**）

- 問 1 島根県の県庁所在地は何市ですか。  
（ **松江市** ）
- 問 2 香川県にある讃岐平野は雨が不足しがちです。このため吉野川から水を引いています。なんという用水ですか。  
（ **香川用水** ）
- 問 3 日本で一番人口が少ないのは島根県ですか、それとも鳥取県ですか。  
（ **鳥取県** ）
- 問 4 鳥取県には日本でも有数の砂丘がある。なんという砂丘ですか。  
（ **鳥取砂丘** ）
- 問 5 中国・四国地方で一番人口が多い県はどこですか。  
（ **広島県** ）
- 問 6 広島県はなんの養殖で有名ですか。  
（ **かき** ）
- 問 7 愛媛県で生産がとても盛んな果物は何ですか。  
（ **みかん** ）
- 問 8 岡山県倉敷市の水島地区で盛んな工業を答えましょう。  
（ **石油化学** ）工業
- 問 9 広島市で原爆の被害の大きさを伝えている建物で世界遺産に登録されているものは何ですか。  
（ **原爆ドーム** ）
- 問 10 広島市は、福岡市や仙台市と共に中国・四国地方において中央官庁の出先機関や大企業の支店などが多く存在しているためなんと呼ばれていますか。  
（ **地方中枢都市** ）
- 問 11 瀬戸内工業地域では複数の工場を結びつけることで効率よく生産をおこなっている。この結びついた工場のことをなんといいますか。  
（ **コンビナート** ）
- 問 12 本州と四国を結ぶ 3 つの橋を総称してなんと呼びますか。  
（ **本州四国連絡橋** ）

中学生地理（近畿地方 問題No.5 の解答）



(1) 都道府県名を書きましょう。

- A( **大阪府** )      B( **京都府** )  
C( **兵庫県** )      D( **和歌山県** )  
E( **奈良県** )      F( **三重県** )  
G( **滋賀県** )

(2) 赤で囲んだ半島名を答えましょう。

- (1) ( **志摩** )半島      (2) ( **紀伊** )半島

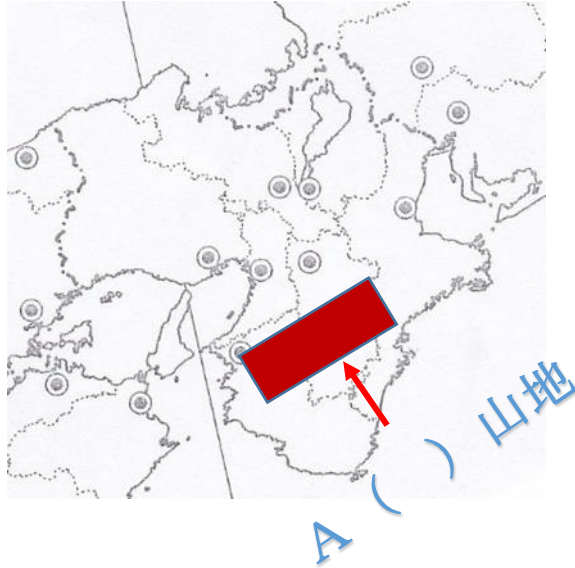
(3) 次の文章に当てはまる県名を上図を参考にしながら答えましょう。

答えはアルファベットではなく県名を書きましょう。

- ① 琵琶湖がある県。 ( **滋賀県** )  
② 半島で真珠の養殖が盛んな県 ( **三重県** )  
③ 平安京として日本の首都であった時期がある。 ( **京都府** )  
④ ミカン栽培の盛んな県 ( **和歌山県** )  
⑤ 近畿地方最大の人口があり江戸時代には天下の台所と呼ばれた。 ( **大阪府** )  
⑥ 造船業が盛んな神戸市や人工島のポートアイランドがある。 ( **兵庫県** )

中学生地理（近畿地方 問題No.6 の解答）

問1 次の図を見て答えましょう。



イ) Aの山地名を答えましょう。

( **紀伊** )山地

(ロ) ( )に適切な言葉を書きましょう。

Aの山地近辺は、極めて降水量が多いため木々が育ちやすく  
林業が盛んである。A山地には( **すぎ** )や( **ひのき** )  
が生産されていて日本でも有数のブランド木材となっている。

大阪府から兵庫県の臨海部にかけて日本でも有数の工業地帯  
である( **阪神工業** )地帯が広がっている。

この工業地帯は、戦前は( **せんい** )工業が盛んであったが  
現在では( **金属** )工業の生産が他の工業地帯と比べて  
多い特徴がある。

またこの工業地帯は部品を作ったり大きな仕事の下請け  
を行う( **中小工場** )が多いのが特徴である。

日本有数の工業地帯であるこの地帯には工業生産を行う過程で  
大量の水を必要としており地下水のくみ上げによる

( **地盤沈下** )が問題となっている。

京都府はかつては都が置かれ、金閣や銀閣、そして古くからの街並み  
までが、( **世界文化遺産** )として登録されている、  
京都には西陣織や京友禅など( **伝統的工芸品** )がある。



中学生地理（中京地方 問題 NO7 の解答）

問 次の地図を見て答えましょう。



（イ） A～J までの都道府県名を答えましょう。

A( 新潟 )県 B( 富山 )県 C( 石川 )県  
D( 福井 )県 E( 岐阜 )県 F( 長野 )県  
G( 山梨 )県 H( 静岡 )県 I( 愛知 )県

（ロ） 赤い丸く囲んだ湾を書きましょう。

( 若狭 ) 湾

（ハ）（ロ）の湾ですが周辺部分に建設されている発電所は下のうちどれですか。

【 水力発電所・火力発電所・原子力発電所】

( 原子力発電所 )

（二）a の半島は（渥美）半島といいます。この半島では

名古屋など大都市圏に電照菊などの（施設園芸）農業が盛んである。

（ホ） 名古屋市周辺には中央官庁の出先機関や大企業が集中しており（名古屋大都市圏）を形成している。

中学生地理 （中部地方 問題 NO8 の解答）

問 1 （ ） 内に適切な語を書きましょう。

中部地方は 3 つに区分けすることができます。日本海側の（ 北陸 ）  
そして内陸部の（ 中央高地 ）そして太平洋側の（ 東海 ）の  
3 つの地域に区分けできます。

日本海側の気候ですが、冬に降水量が（ 多い ）のが特徴です。  
内陸部は年間の降水量が少なく気温差が高いのが特徴です。  
太平洋側は、夏の降水量が（ 多い ）のが特徴です。

新潟県は日本で一番長い川である（ 信濃 ）川が越後平野を  
流れている。越後平野では稲作作りが盛んであるが、労働力を集中させて  
1 年に 1 回のみコメを作る（ 水田単作 ）地帯が広がる。  
新潟産の（ コシヒカリ ）というブランド米は有名である。

問 2 日本アルプスといわれる 3 つの山脈をすべて書きましょう。  
（ 飛騨山脈・木曽山脈・赤石山脈 ）

問 3 次の①～④までと関係のあるものをア～エより選びましょう。

- ① 濃尾平野 （ イ ）
- ② 牧ノ原台地 （ ア ）
- ③ 中央高地の高原 （ ウ ）
- ④ 甲府盆地 （ エ ）

ア お茶の生産

イ 輪中

ウ 高冷野菜の抑制栽培

エ 扇状地を利用したブドウや桃の栽培

中学生地理（中部地方 **問題No.9 の解答**）

問題 1 次の①～④までと関係のあるものをア～オより選びましょう。

- ① 鯖江市 ( **イ** )
- ② 輪島市 ( **ウ** )
- ③ 豊田市 ( **エ** )
- ④ 浜松市 ( **ア** )
- ⑤ 四日市市 ( **オ** )

ア オートバイの生産

イ メガネのフレームの生産

ウ 伝統的工芸品

エ 自動車の生産

オ 石油化学工業

問 2 ( ) 内に適切な語を書きましょう。

名古屋を中心とする ( **中京工業** ) 地帯は  
日本で一番の出荷額の工業地帯である。

特に、自動車産業が盛んで部品などを作る工場も多く  
( **機械** ) 工業の割合が高い。

また、静岡県の浜松市や富士市などを中心とした  
( **東海工業** ) 地域は機械工業の割合が多く、  
特に浜松市は ( **楽器** ) や ( **オートバイ** )  
の生産が多い事が有名である。

問 3 次の県の県庁所在地を書きなさい。

- (1) 三重県 ( **津市** )                      (2) 山梨県 ( **甲府市** )
- (3) 石川県 ( **金沢市** )