

日本の姿や日本と  
世界の時間差や  
気候などの  
まとめです。

定期テスト対策や  
入試の直前対策などに  
ご活用ください。

問題の

解答は最後のページに  
記載しております。

中学生地理

# 中学生定期 テスト対策

フォレスト学習会

中学生地理（日本の位置 問題No.1 解答は巻末）

問 1 （ ）内に適切な語を書きましょう。

日本は（ ）大陸の東に位置しています。

その国土面積は約（ ）万km<sup>2</sup>です。

日本の東側に位置する海は（ ）と呼ばれる海です。

日本は海に囲まれた島国で、北端は（ ）島 東端は南鳥島  
南端は（ ）島、そして西端は（ ）島である。

問 2 国の主権の及ぶ範囲を領域といいます

領域は 3 つから構成されます。3 つをすべて書きましょう。

（ ）

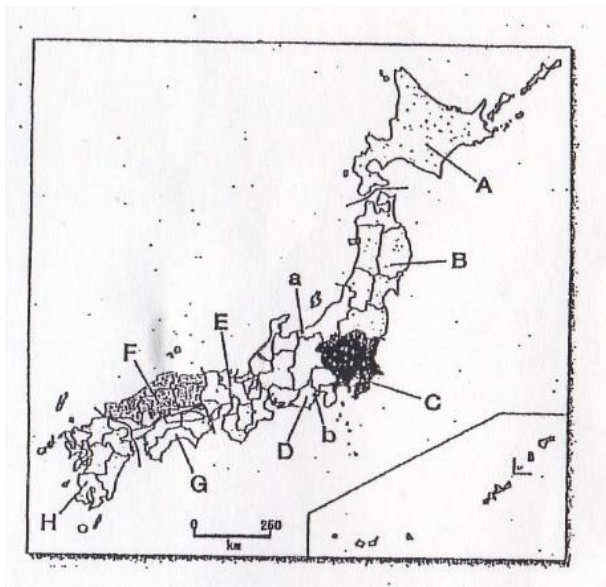
問 3 国の沿岸から 200 海里はその国が水産資源や鉱山資源をその  
国のものとする事が認められています。この水域は何と呼ばれて  
いますか。

（ ）

問 4 日本固有の領土でありながら現在ロシアに占有されている  
北方領土の島をすべて書きましょう。

（ ）

問 5 次の日本地図で A～H までに当てはまる地方名を書きましょう。  
ただし F と G は一つの地方とします。



A( )	地方	B( )	地方
C( )	地方	D( )	地方
E( )	地方	F 及び G( )	地方
H( )	地方		

中学生地理（日本のすがたと世界 問題 NO2 解答は巻末）

問 1 （ ）内に適切な語を書きましょう。

日本の中部地方は、細かく分けると太平洋側の（ ）  
日本海側を（ ）内陸部に位置する（ ）  
に分けられます。

日本は東京、大阪、名古屋など太平洋ベルト地帯と呼ばれる地域に  
人口が集中する（ ）が問題となったり、産業のない地方の  
町や山村などで人口が減少する（ ）が社会問題となっている。

問 2 次の県の県庁所在地を書きましょう。

都道府県名	県庁所在地
北海道	
岩手県	
宮城県	
茨城県	
栃木県	
群馬県	
埼玉県	
神奈川県	
石川県	
山梨県	
愛知県	
兵庫県	
滋賀県	
三重県	
島根県	
愛媛県	
香川県	
沖縄県	

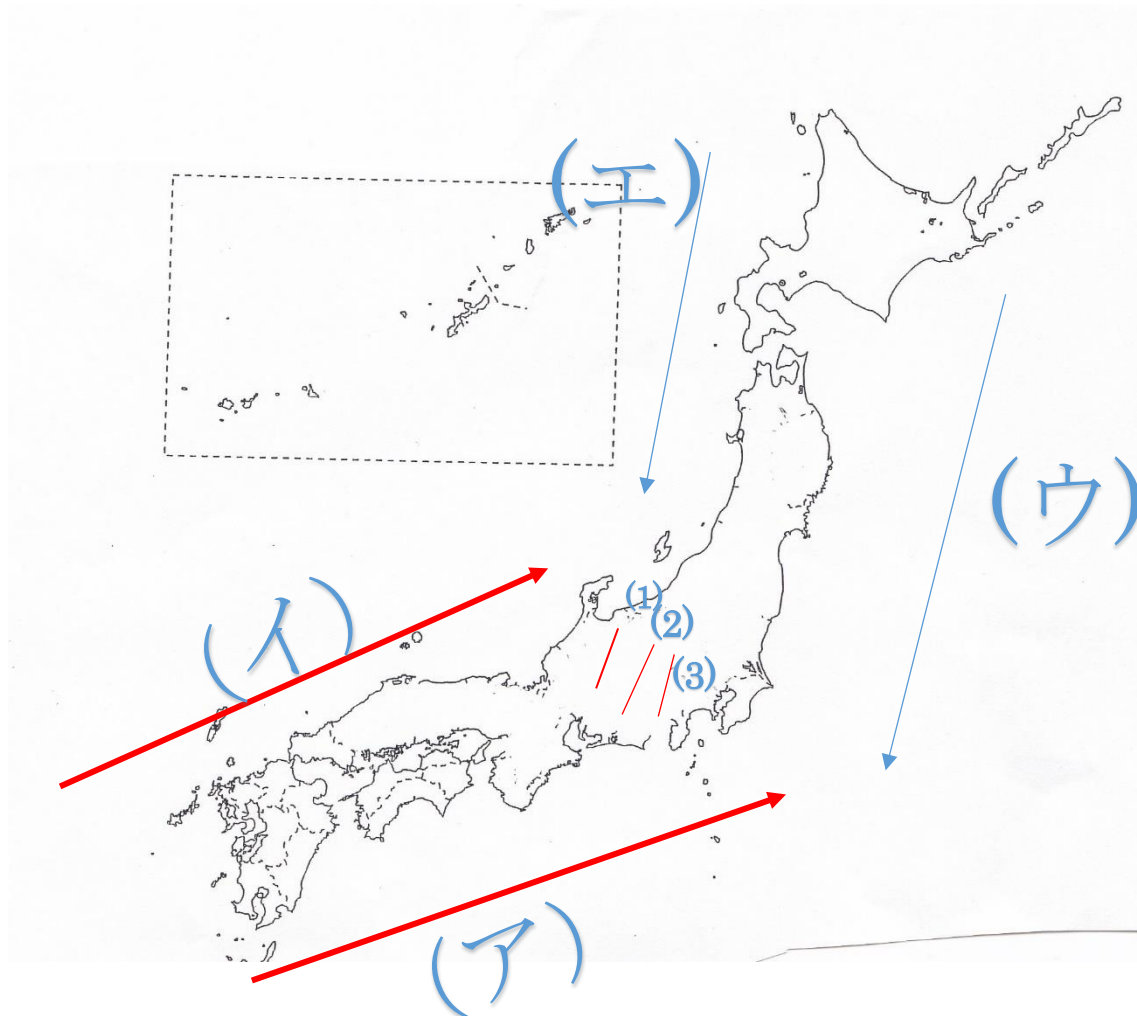
問 3 （ ）内に適切な語を書きましょう。

日本は山がちで地震も多い、世界には 2 つの造山帯とよばれる  
山がち帯に分けられる。

ヨーロッパとアジアにまたがる（ ）造山帯と  
日本や北アメリカ大陸や南アメリカ大陸を含む  
（ ）造山帯の 2 種類がある。

中学生地理（日本の地形と世界 問題 NO3 解答は巻末に）

問 1 次の（ア）～（エ）までは海流名を答えましょう。



- |       |           |       |      |
|-------|-----------|-------|------|
| (ア) ( | ) 海流 (黒潮) | (イ) ( | ) 海流 |
| (ウ) ( | ) 海流 (親潮) | (エ) ( | ) 海流 |

問 2 次の(1)、(2)、(3)は日本アルプスと呼ばれています。

それぞれの山地名を答えましょう。

- |       |           |       |            |
|-------|-----------|-------|------------|
| (1) ( | ) (北アルプス) | (2) ( | ) (中央アルプス) |
| (3) ( | ) (南アルプス) |       |            |

問 3 日本は本州の中央部を走る帯状のくぼ地を境に東日本と西日本の地形が変化している。この帯状のくぼ地をなんといいますか。

( )

中学生地理（日本の地形 問題 NO4 解答は巻末）

問1 次の文章の正しいほうを選びましょう。

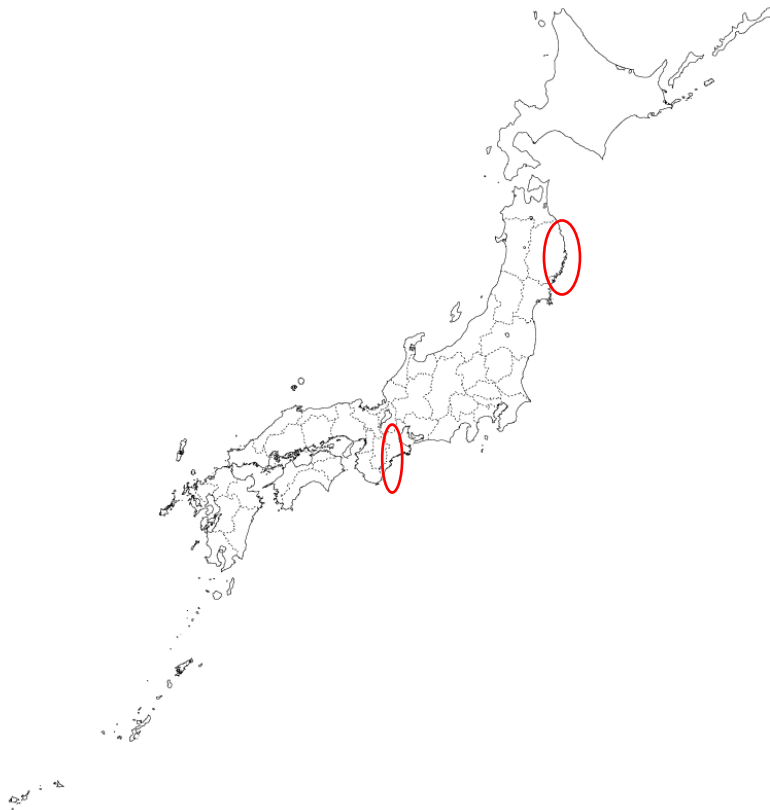
日本の川は国土が狭く高く険しい山から海までの距離が短いために  
川の長さが（長い 短く）川の流れが（緩やか、急）なのが特徴である。

問2 （ ）内に適切な語を書きましょう。

川が山地から平地に変わるところにできる、ゆるやかな扇型の傾斜地を  
（ ）といいます。水がすぐ引いてしまう水はけのいい土地の  
ため（ ）として土地を利用している。

川が運んできた小さい粒の土砂が河口付近にたまりできた土地を  
（ ）といいます。この土地の特徴は土砂が  
小さいため水がよくたまる土地のため水田などに利用されている。

問3 次の丸く囲んだ場所の出入りの多い海岸は何と呼ばれる地形ですか。





（ ）

中学生地理（日本の気候 問題 NO5 の解答は巻末に）

問 次の日本地図をみて答えましょう。



- (1) 季節ごとに向きがわかる  の風を何と呼びますか。  
( )
- (2)  の風は冬は、1 と 2 のどちらから吹きますか。  
( )
- (3) 次の文章は、日本海側と太平洋側そして瀬戸内の気候、中央高地の気候を説明した文章です。どの気候か適切なものを書きましょう。
- (1) 夏は季節風の影響で雨が強く降るが冬は晴天で乾燥した日が多い気候。( )
- (2) 冬は季節風の影響でたくさんの雪が降る。日本有数の豪雪地帯もある。  
( )
- (3) 雨が少なく気温は穏やか。稲作などを行うため昔からため池などを作る地域がある。  
( )
- (4) 降水量は少なく、夏と冬の気温差が大きい、  
( )

中学生地理（時差 問題 NO6 解答は巻末に）

- 問 1 東京が 5 月 7 日の午後 3 時とします。この時ロンドンは何月何日の何時でしょうか。  
但し東京の標準時は東経 135 度とする。

( )

- 問 2 東京が 1 月 1 日の午前 7 時の時,ロサンゼルスは何月何日の何時ですか。  
但し東京の標準時は東経 135 度でロサンジュエルスは西経 120 度を標準時として計算しましょう。

( )

- 問 3 東京に住むたかし君は、アメリカのワシントンにいるお父さんに 3 月 15 日の午後 8 時をかけたいと考えました。

東京に住むたかし君は何月何日の何時に電話をすればいいですか。  
但し東京の標準時は東経 135 度でワシントンの標準時は西経 75 度とします。

( )

中学生地理（人口問題と日本の都市 問題No.7 解答は巻末）

問1（ ）内に適切な語を書きましょう。

1 平方キロメートル当たり人が住む数は人口密度という。

自然環境の厳しい乾燥帯や冷帯などには人口密度は（ ）。

日本は温帯に属し自然環境は良好で住みやすい。つまり日本の人口密度は、（ ）

急激に人口が増えているのはアジアやアフリカなど発展途上国では人口が急激に増加する（ ）が起きている。

日本の人口は、医療技術の発展や栄養状況の改善により寿命が延びると共に、多様な価値観を持つ家庭が子供を少なめに生む状況となり（ ）が進んでいる。

東京。大阪、名古屋とその周辺地域を（ ）といひます。この地域は人口や産業が集中しています。

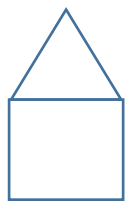
この地域は交通渋滞を引きおこし住みやすさを求めて郊外に人が移り住む（ ）化現象が起きている。

問2 人口が50万人以上を超えた都市のうち、行政や財政について一定の権限が政令により認められた都市を何と呼びますか。  
（ ）

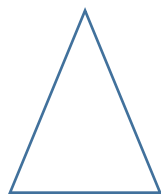
問3 人口が急激に減少している地域を何と言ひますか。  
（ ）地域

問4 65歳以上の高齢者が50%を超えて地域社会の維持が困難になっている地域はなんと言ひますか。  
（ ）

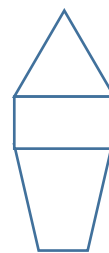
問5 日本の人口の推移を並び替えましよう。



つりがね型



富士山型



つぼ型

（                      →                      →                      ）



中学生地理（日本の資源・エネルギー 問題No.8 解答は巻末）

問 1 石油や石炭などの化石燃料の大量消費により増える二酸化炭素が引き起こす環境破壊の原因となるガスは何とされていますか。

（ ）

問 2 再生可能エネルギーに当てはまるものを次から一つ選びましょう。

ア 火力発電    イ 太陽光発電    ウ 原子力発電

問 3 （ ）内に適切な語を書きましょう。

日本は 1960 年代のエネルギー革命でそれまで使用していた石炭から

（ ）へとエネルギーの主役が変化した。

しかし 1973 年と 1979 年の 2 度にわたる中東戦争がきっかけで起きた

（ ）で石油の値段が大幅に上昇。

やがてウランを原料とする（ ）発電が増えてきた。

しかしながら、2011 年に起きた（ ）で

福島原子力発電所が事故を起こし、現在では環境にやさしい

（ ）エネルギーなど様々なエネルギーの

開発が進んでいる。

問 4 日本が一番多く石油を輸入している国はどこですか。

（ ）

問 5 日本が一番多く石炭を輸入している国はどこですか。

（ ）

問 6 日本が一番多く天然ガスを輸入している国はどこですか。

（ ）

問 6 日本が一番多く鉄鉱石を輸入している国はどこですか。

（ ）

問 7 日本が一番多く銅を輸入している国はどこですか。

（ ）

中学生地理（日本の産業など **問題No.9 解答は巻末**）

- 問 1 資源の少ない日本は多くの原材料を輸入し、工業製品を作って輸出する貿易を行っています。なんという形式の貿易ですか。  
( )
- 問 2 大都市に近いことを利用した農業をなんと言いますか。  
( )
- 問 3 農産物の国内の消費量をどれだけ自分たちの国の生産で賄えるという割合を何と言いますか。  
( )
- 問 4 野菜の出荷時期を、暖かい気候を利用してできる限り早くする栽培方法をなんと言いますか。  
( )
- 問 5 長野県な一部の地域では涼しい気候を利用して野菜の出荷時期を遅らせる栽培方法が盛んです。この栽培方法を何と言いますか。  
( )
- 問 6 一部の農家にはビニルハウスや温室を使い、市場に農産物がない時期に出荷する農家が行う農業をなんと言いますか。  
( )
- 問 7 太平洋上に広がるベルト状に発達した工業地帯をなんと言いますか。  
( )
- 問 8 日本の工業地帯の中で、自動車産業を中心とした機械産業が工業生産額の 60%以上を占める工業地帯はどこですか。  
( )
- 問 9 今日の日本では第一次産業、第二次産業、第三次産業のうちの産業で働いている人が一番多いですか。  
( )
- 問 10 インターネットや携帯電話などの通信手段で情報のやり取りが極めて盛んになった社会をなんと言いますか。  
( )
- 問 11 輸入と輸出の不均衡から国際間で意見が衝突し貿易摩擦が起きた際の問題解決の国際機関は何と言いますか。アルファベット 3 文字で書きましょう。( )

中学生地理（日本の位置 No. 1 の解答）

問 1 （ ）内に適切な語を書きましょう。

日本は（ ユーラシア ）大陸の東に位置しています。

その国土面積は約（ 38 ）万km<sup>2</sup>です。

日本の東側に位置する海は（ 太平洋 ）と呼ばれる海です。

日本は海に囲まれた島国で、北端は（ 択捉 ）島 東端は南鳥島  
南端は（ 沖ノ島 ）島、そして西端は（ 与那国 ）島である。

問 2 国の主権の及ぶ範囲を領域といいます

領域は 3 つから構成されます。3 つをすべて書きましょう。

（ 領土, 領海, 領空 ）

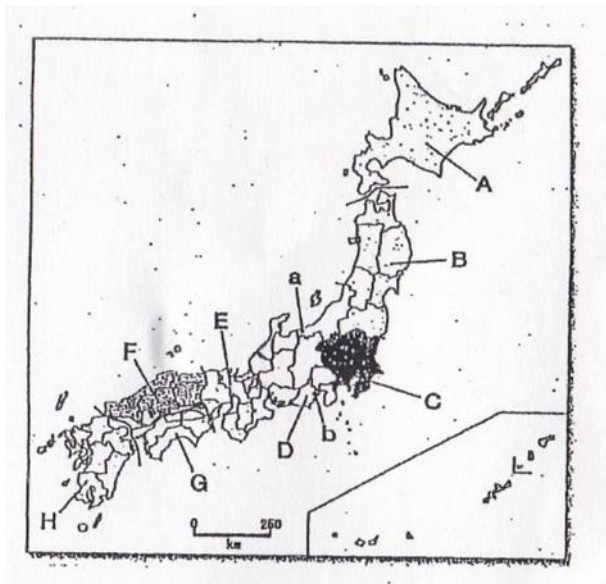
問 3 国の沿岸から 200 海里はその国が水産資源や鉱山資源をその  
国のものとする事が認められています。この水域は何と呼ばれて  
いますか。

（ 排他的経済水域 ）

問 4 日本固有の領土でありながら現在ロシアに占有されている  
北方領土の島をすべて書きましょう。

（ 国後島、歯舞群島、色丹島、択捉島 ）

問 5 次の日本地図で A ～ H までに当てはまる地方名を書きましょう。  
ただし F と G は一つの地方とします。



A( 北海道 )地方

B ( 東北 )地方

C( 関東 )地方

D ( 中部 )地方

E( 近畿 )地方

F 及び G ( 中国・四国 )地方

H( 九州 )地方

中学生地理（日本のすがたと世界 **問題 NO2 の解答**）

問 1 （ ） 内に適切な語を書きましょう。

日本の中部地方は、細かく分けると太平洋側の（ **東海** ）

日本海側を（ **北陸** ）内陸部に位置する（ **中央高地** ）

に分けられます。

日本は東京、大阪、名古屋など太平洋ベルト地帯と呼ばれる地域に

人口が集中する（ **過密** ）が問題となったり、産業のない地方の

町や山村などで人口が減少する（ **過疎** ）が社会問題となっている。

問 2 次の県の県庁所在地を書きましょう。

都道府県名	県庁所在地
北海道	<b>札幌市</b>
岩手県	<b>盛岡市</b>
宮城県	<b>仙台市</b>
茨城県	<b>水戸市</b>
栃木県	<b>宇都宮市</b>
群馬県	<b>前橋市</b>
埼玉県	<b>さいたま市</b>
神奈川県	<b>横浜市</b>
石川県	<b>金沢市</b>
山梨県	<b>甲府市</b>
愛知県	<b>名古屋市</b>
兵庫県	<b>神戸市</b>
滋賀県	<b>大津市</b>
三重県	<b>津市</b>
島根県	<b>松江市</b>
愛媛県	<b>松山市</b>
香川県	<b>高松市</b>
沖縄県	<b>那覇市</b>

問 3 （ ） 内に適切な語を書きましょう。

日本は山がちで地震も多い、世界には 2 つの造山帯とよばれる

山がち帯に分けられる。

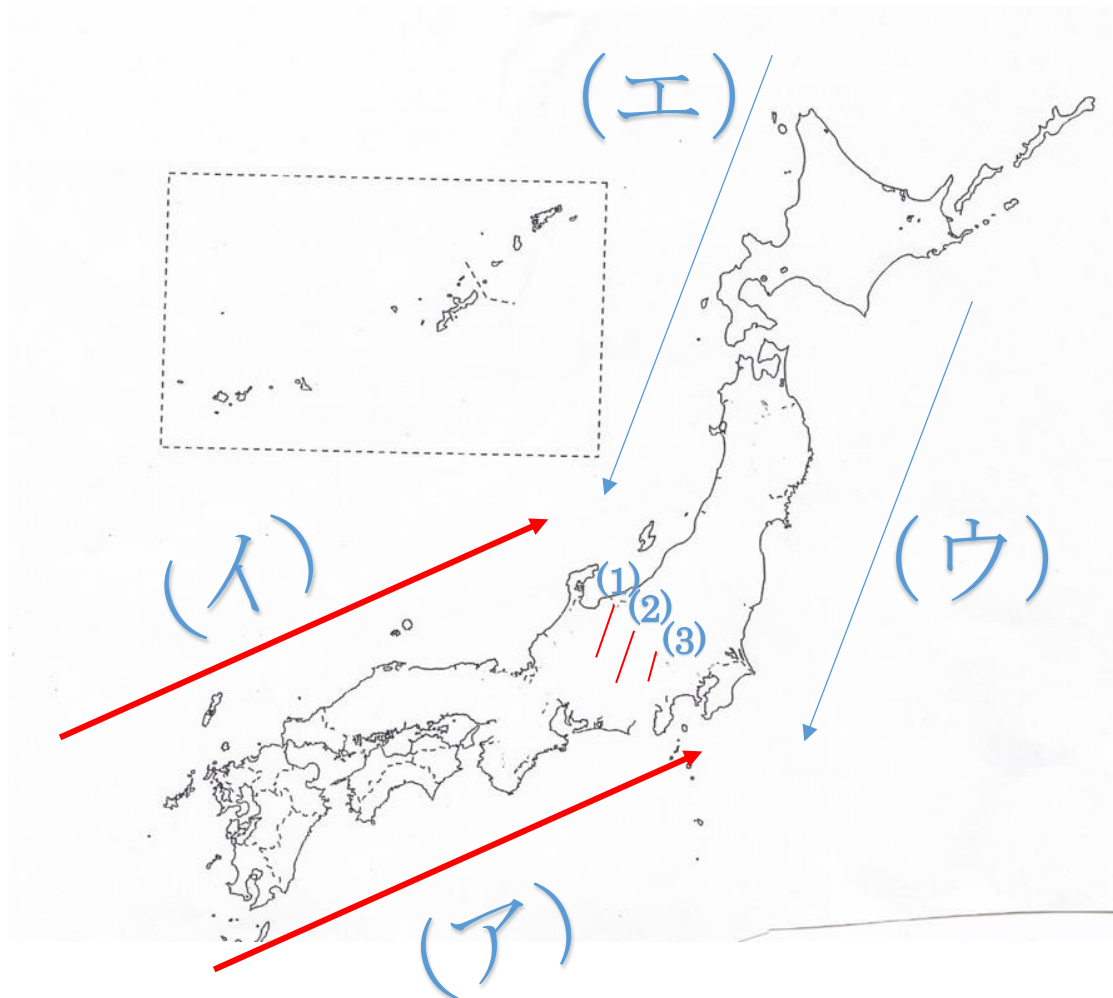
ヨーロッパとアジアにまたがる（ **アルプス・ヒマヤラ**）造山帯と

日本や北アメリカ大陸や南アメリカ大陸を含む

（**環太平洋**）造山帯の 2 種類がある。

中学生地理（日本の地形と世界 問題 NO3 の解答）

問 1 次の（ア）～（エ）までは海流名を答えましょう。



- (ア) ( 日本 ) 海流 (黒潮)      (イ) ( 対馬 ) 海流  
(ウ) ( 千島 ) 海流(親潮)      (エ) ( リマン ) 海流

問 2 次の(1)、(2)、(3)は日本アルプスと呼ばれています。

それぞれの山地名を答えましょう。

- (1) ( 飛騨山脈 ) (北アルプス)      (2) ( 木曽山脈 ) (中央アルプス)  
(3) ( 赤石山脈 ) (南アルプス)

問 3 日本は本州の中央部を走る帯状のくぼ地を境に東日本と西日本の地形が変化している。この帯状のくぼ地をなんといいますか。

- ( フォッサマグナ )

中学生地理（日本の地形 問題 NO4 解答は巻末）

問1 次の文章の正しいほうを選びましょう。

日本の川は国土が狭く高く険しい山から海までの距離が短いために

川の長さが（長い 短く）川の流れが（緩やか、急）なのが特徴である。

問2 （ ）内に適切な語を書きましょう。

川が山地から平地に変わるところにできる、ゆるやかな扇型の傾斜地を

（ 扇状地 ）といいます。水がすぐ引いてしまう水はけのいい土地の

ため（ 果樹園 ）として土地を利用している。

川が運んできた小さい粒の土砂が河口付近にたまりできた土地を

（ 三角州 ）といいます。この土地の特徴は土砂が小さいため水がよくたまる土地のため水田などに利用されている。

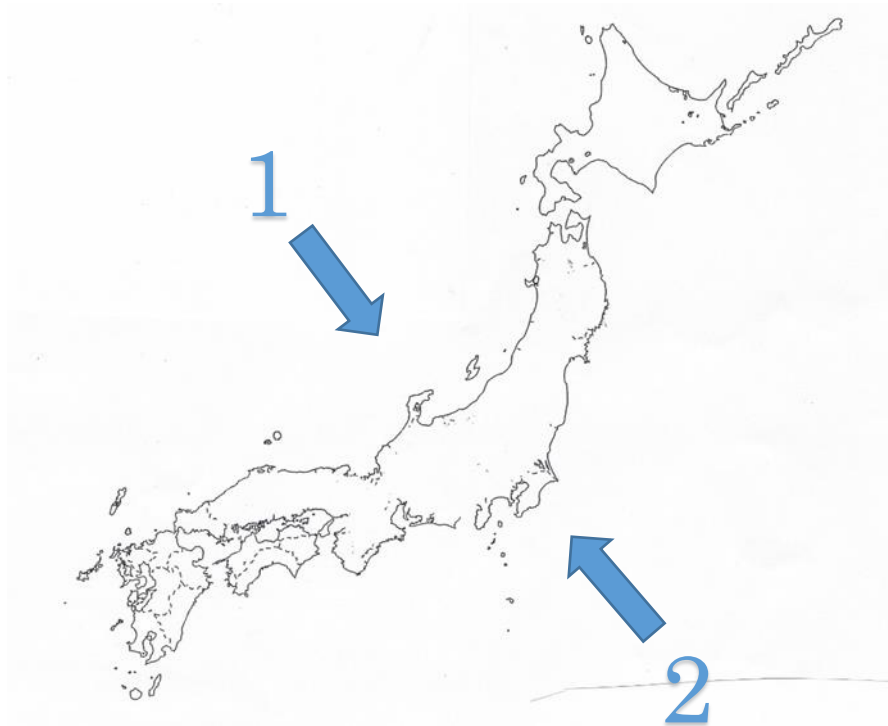
問3 次の丸く囲んだ場所の出入りの多い海岸は何と呼ばれる地形ですか。



（ リアス海岸 ）

中学生地理（日本の気候 問題 NO5 解答）

問 次の日本地図をみて答えましょう。



(1) 季節ごとに向きがわかる  の風を何と呼びますか。

( **季節風** )

(2)  の風は冬は、1 と 2 のどちらから吹きますか。

( **1** )

(3) 次の文章は、日本海側と太平洋側そして瀬戸内の気候、中央高地の気候を説明した文章です。どの気候か適切なものを書きましょう。

(1) 夏は季節風の影響で雨が強く降るが冬は晴天で乾燥した日が多い気候。( **太平洋側の気候** )

(2) 冬は季節風の影響でたくさんの雪が降る。日本有数の豪雪地帯もある。

( **日本海側の気候** )

(3) 雨が少なく気温は穏やか。稲作などを行うため昔からため池などを作る地域がある。

( **瀬戸内の気候** )

(4) 降水量は少なく、夏と冬の気温差が大きい、

( **中央高地の気候** )

中学生地理（時差 問題 NO6 の解答）

問 1 東京が 5 月 7 日の午後 3 時とします。この時ロンドンは何月何日の何時でしょうか。

但し東京の標準時は東経 135 度とする。

$$135 \div 15 = 9$$

日本が 9 時間進んでいる。  $15 - 9 = 6$

（ ロンドンは 5 月 7 日午前 6 時 ）

問 2 東京が 1 月 1 日の午前 7 時の時、ロサンゼルスは何月何日の何時ですか。

但し東京の標準時は東経 135 度でロサンジュエルスは西経 120 度を標準時として計算しましょう。

$$135 + 120 = 255 \quad 255 \div 15 = 17$$

東京が 17 時間進んでいる。

（ ロサンジュエルスは 12 月 31 日午後 2 時 ）

問 3 東京に住むたかし君は、アメリカのワシントンにいるお父さんに 3 月 15 日の午後 8 時をかけたいと考えました。

東京に住むたかし君は何月何日の何時に電話をすればいいですか。

但し東京の標準時は東経 135 度でワシントンの標準時は西経 75 度とします。

$$135 + 75 = 210 \quad 210 \div 15 = 14$$

日本がワシントンより 14 時間進んでいる。

（ 日本時間の 3 月 16 日午前 10 時 ）



中学生地理（人口問題と日本の都市 **問題No.7 解答**）

問1（ ）内に適切な語を書きましょう。

1 平方キロメートル当たり人が住む数は人口密度という。

自然環境の厳しい乾燥帯や冷帯などには人口密度は（**小さい**）。

日本は温帯に属し自然環境は良好で住みやすい。つまり日本の人口密度は、（**高い**）。

急激に人口が増えているのはアジアやアフリカなど発展途上国では人口が急激に増加する（ **人口爆発** ）が起きている。

日本の人口は、医療技術の発展や栄養状況の改善により寿命が延びると共に、多様な価値観を持つ家庭が子供を少なめに生む状況となり（ **少子高齢化** ）が進んでいる。

東京。大阪、名古屋とその周辺地域を（ **三大都市圏** ）といえます。この地域は人口や産業が集中しています。

この地域は交通渋滞を引きおこし住みやすさを求めて郊外に人が移り住む（**ドーナツ**）化現象が起きている。

問2 人口が50万人以上を超えた都市のうち、行政や財政について一定の権限が政令により認められた都市を何と呼びますか。

（ **政令指定都市** ）

問3 人口が急激に減少している地域を何と言いますか。

（**過疎**）地域

問4 65歳以上の高齢者が50%を超えて地域社会の維持が困難になっている地域はなんと言いますか。

（ **限界集落** ）

問5 日本の人口の推移を並び替えましょう。



つりがね型



富士山型



つぼ型

（ **富士山型 → つりがね型 → つぼ型** ）

中学生地理（日本の資源・エネルギー 問題No.8 解答）

問 1 石油や石炭などの化石燃料の大量消費により増える二酸化炭素が引き起こす環境破壊の原因となるガスは何とされていますか。  
（ 温室効果ガス ）

問 2 再生可能エネルギーに当てはまるものを次から一つ選びましょう。  
ア 火力発電    イ 太陽光発電    ウ 原子力発電

問 3 （ イ ） 内に適切な語を書きましょう。

日本は 1960 年代のエネルギー革命でそれまで使用していた石炭から（ 石油 ）へとエネルギーの主役が変化した。

しかし 1973 年と 1979 年の 2 度にわたる中東戦争がきっかけで起きた（ 石油危機 ）で石油の値段が大幅に上昇。

やがてウランを原料とする（ 原子力 ）発電が増えてきた。

しかしながら、2011 年に起きた（ 東日本大震災 ）で福島原子力発電所が事故を起こし、現在では環境にやさしい

（ 再生可能 ）エネルギーなど様々なエネルギーの開発が進んでいる。

問 4 日本が一番多く石油を輸入している国はどこですか。  
（ サウジアラビア ）

問 5 日本が一番多く石炭を輸入している国はどこですか。  
（ オーストラリア ）

問 6 日本が一番多く天然ガスを輸入している国はどこですか。  
（ オーストラリア ）

問 6 日本が一番多く鉄鉱石を輸入している国はどこですか。  
（ オーストラリア ）

問 7 日本が一番多く銅を輸入している国はどこですか。  
（ チリ ）

中学生地理（日本の産業など **問題No.9 解答**）

問 1 資源の少ない日本は多くの原材料を輸入し、工業製品を作って輸出する貿易を行っています。なんという形式の貿易ですか。

（ **加工貿易** ）

問 2 大都市に近いことを利用した農業をなんといいますか。

（ **近郊農業** ）

問 3 農産物の国内の消費量をどれだけ自分たちの国の生産で賄えるという割合を何と言いますか。

（ **食料自給率** ）

問 4 野菜の出荷時期を、暖かい気候を利用してできる限り早くする栽培方法をなんといいますか。

（ **促成栽培** ）

問 5 長野県な一部の地域では涼しい気候を利用して野菜の出荷時期を遅らせる栽培方法が盛んです。この栽培方法を何と言いますか。

（ **抑制栽培** ）

問 6 一部の農家にはビニルハウスや温室を使い、市場に農産物がない時期に出荷する農家が行う農業をなんといいますか。

（ **施設園芸農業** ）

問 7 太平洋上に広がるベルト状に発達した工業地帯をなんといいますか。

（ **太平洋ベルト地帯** ）

問 8 日本の工業地帯の中で、自動車産業を中心とした機械産業が工業生産額の 60%以上を占める工業地帯はどこですか。

（ **中京工業地帯** ）

問 9 今日の日本では第一次産業、第二次産業、第三次産業のうちどの産業で働いている人が一番多いですか。

（ **第 3 次産業** ）

問 10 インターネットや携帯電話などの通信手段で情報のやり取りが極めて盛んになった社会をなんといいますか。

（ **情報化社会** ）

問 11 輸入と輸出の不均衡から国際間で意見が衝突し貿易摩擦が起きた際の問題解決の国際機関は何と言いますか。アルファベット 3 文字で書きましょう。

（ **WTO** ）