

中学生の定期テスト
対策用の問題です。
このページは表紙です。

次のページから
問題が始まります。
内容は前半が
アフリカ州の問題です。
後半にオセアニア州の
問題があります。
解答は巻末に掲載
しております。

中学生地理

地理の問題

アフリカ州とオセアニア州

フォレスト学習会

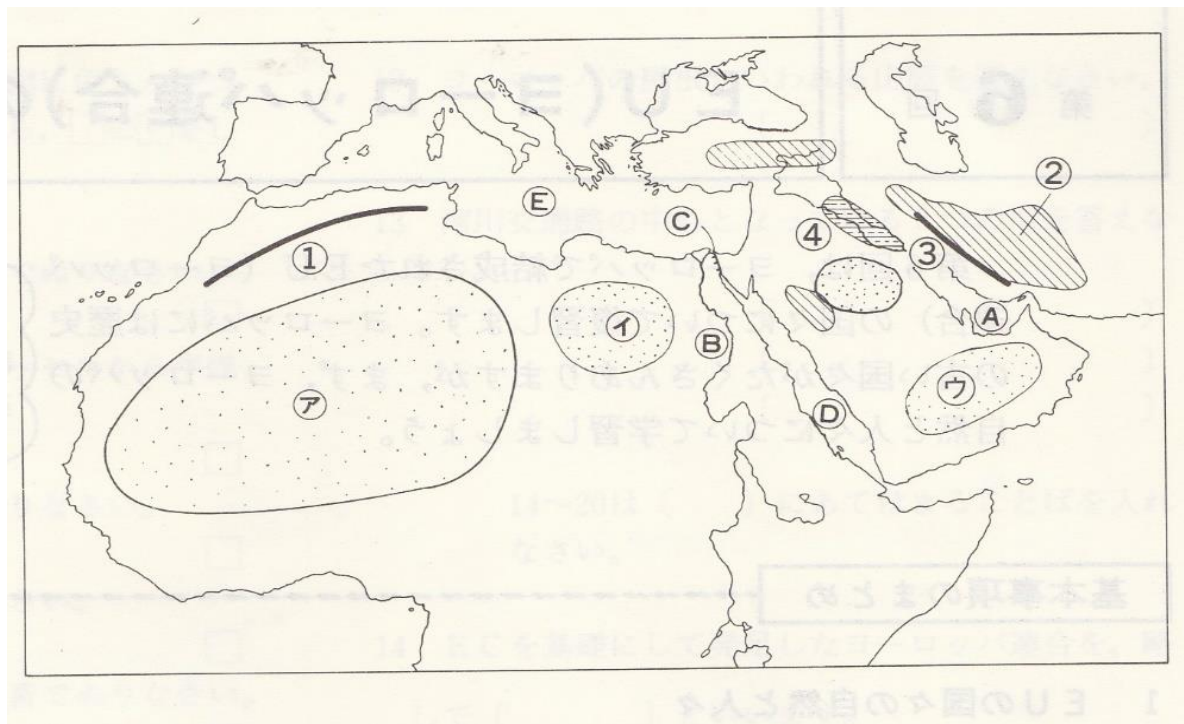
中学生地理（アフリカ州 **問題練習NO1** **解答は巻末**）

問 1 アフリカでは 2002 年、アフリカの諸問題解決を目指し結成した組織は
なんですか。（ ）

問 2 ギニア湾沿岸の地域で第 2 次世界大戦後フランスから独立。
カカオの生産が世界一位の国はどこですか。
（ ）

問 3 アフリカで人口が一番多い国はどこですか。
（ ）

問 4 次の（ ）内に地図を見ながら答えましょう。一部すでに書かれている
場所は解答不要です。



①（ ）山脈

②(イラン)高原

③ (ザグロス) 山脈

④ (メソポタミア) 平原

⑤ ()砂漠

⑥ (リビア)砂漠

⑦ (ルブアルハリ) 砂漠

⑧ ()湾

⑨ ()川

⑩ ()運河

⑪()海

⑫()海

- 問 1 アフリカ諸国はごく少数の鉱山資源や作物に国の経済を依存する状態にありその商品の価格に国の経済が左右されがちな状況にある。この経済をなんといいますか。()

- 問2 アフリカの最も高い山で独立峰としては世界最大の高さがある山はなんですか。()

- 問3 アフリカの角とよばれる半島名を答えましょう。
()

- 問 4 南北に世界最長のナイル川がながれ世界 4 大文明の発祥地である国はどこですか。()

- 問 5 ヨーロッパ諸国の植民地時代にヨーロッパ人が現地の人たちを働かせ輸出向けに作った大規模な農園をなんといいいますか。
()

- 問 6 南アフリカ共和国では少数の白人が大多数の黒人など有色人種を差別する政策を過去取っていて国際的な非難を受けた。この政策を何と言いますか。()

- 問 7 南アフリカについて（ ）内に適切な語を書きましょう。
- 南アフリカ共和国は様々な鉱山資源の開発を行う工業国である。
- （ ）やダイヤモンドは世界でも有数の産出高があります。
- またマンガン・ニッケルといった希少金属（ ）にも恵まれた未来の可能性を有した国といえる。

- 問 8 なつめやしの世界第一位の生産高がある国はどこですか。
()

- 問 9 コンゴ共和国やザンビアでは主要な輸出品を答えましょう。
()

中学生地理（オセアニア州 **問題演習 NO3 解答は巻末**）

問1 オーストラリアの先住民はなんという人たちですか。

()

問2 ニュージーランドの先住民はなんという人たちですか。

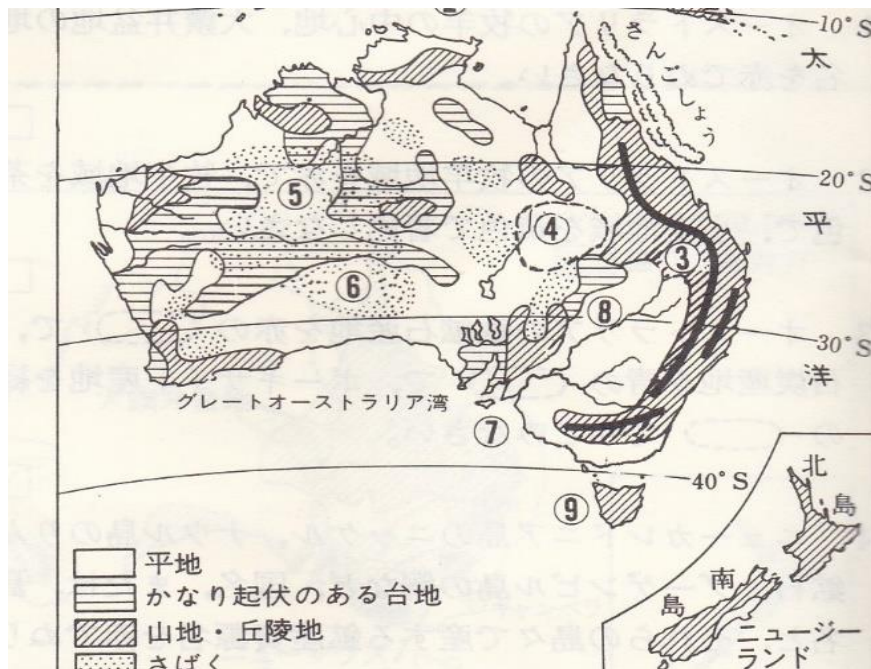
()

問3 オーストラリアやニュージーランドはどの国の植民地でしたか。

()

問4 オーストラリアは20世紀初めまで白人のみの国を作ることを目指し、移住を制限する政策を採用していた。この制度をなんといいますか。()

問5 次の③～⑥及び⑨までを地図を見ながら適切な地名を書きましょう。



③ () 山脈

④ () 盆地

⑤ () さばく

⑥ () さばく

⑨ () 島

⑦及び⑧の川の名称は興味ある人のみの問題でここでは省略します。

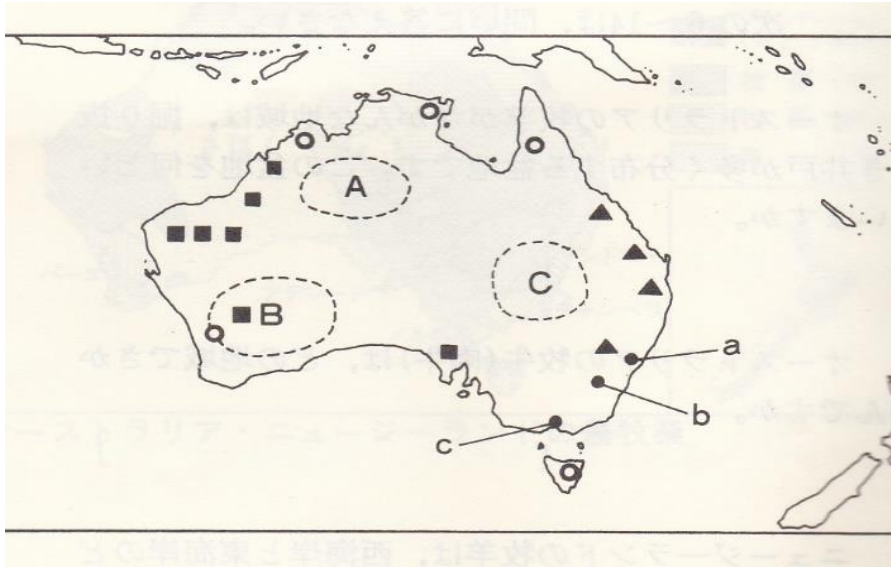
問6 現在のオーストラリアは白人やアジア系の人たちなど様々な民族の人が暮らし、それぞれの民族に文化を大切にしていける社会を作っています。この社会を何と言いますか。()

中学生地理（オセアニア州 **問題演習 NO4 解答は巻末**）

問 1 （ ） 内に適切な語を書きましょう。

オーストラリアは 1960 年代までイギリスとの貿易高が多かったが最近では地理的に近いアジア地域の（ ）との取引が一番多く、日本との貿易の取引高も増えている。

問 2 下の地図を見ながら問に答えましょう。



- ① 大鑽井盆地はA、B、Cのどこにありますか。（ ）
- ② 大鑽井盆地は牧羊が盛んであるが水が不足しがちである。
このためある井戸を作って水を得ている。
井戸の名前を答えましょう。（ ）
- ③ 地図を見ながらオーストラリアの鉱山資源を答えましょう。

(1) ● （ ） (2) ▲ （ ）

(3) ■ （ ）

- ④ オーストラリアの首都を答えましょう。また場所は地図上 a～c のどれですか。（首都名： ）（ ）

問 3 適切な語を書きましょう。

オーストラリアの気候は沿岸部の温帯地域を除くと内陸部を中心にほとんどが（ ）帯に属する。
ニュージーランドの気候は（ ）である。

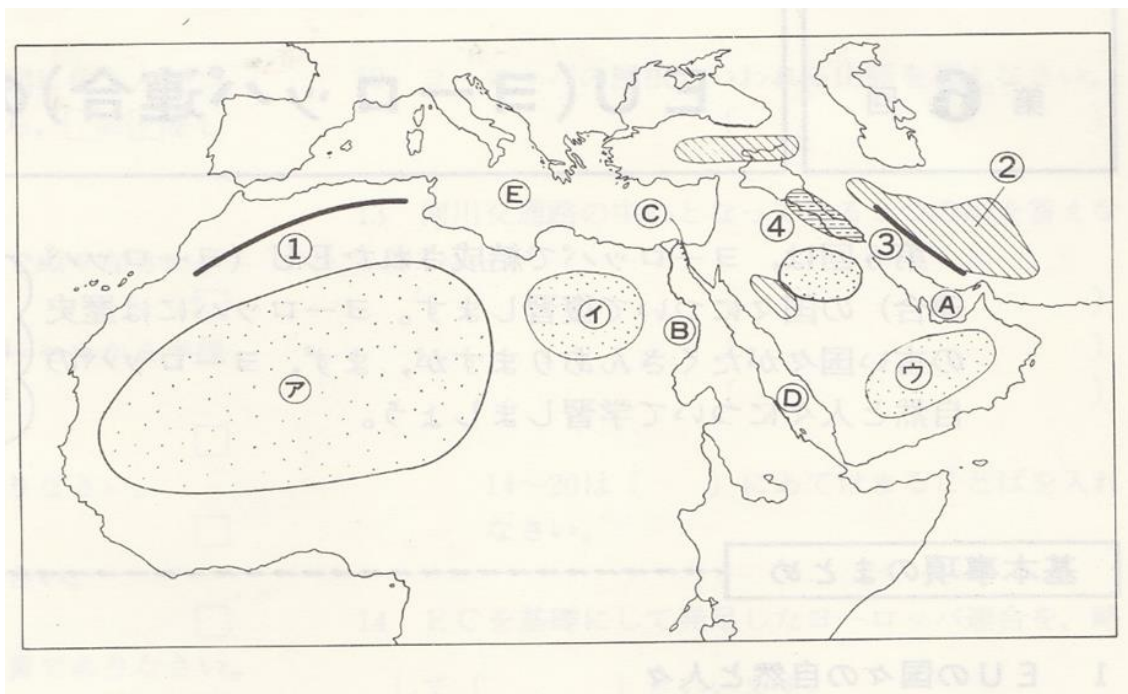
中学生地理（アフリカ州 **問題練習NO1の解答**）

問1 アフリカでは2002年、アフリカの諸問題解決を目指し
結成した組織はなんですか。（ **アフリカ連合** ）

問2 ギニア湾沿岸の地域で第2次世界大戦後フランスから独立。
カカオの生産が世界一位の国はどこですか。
（ **コートジボワール** ）

問3 アフリカで人口が一番多い国はどこですか。（ **ナイジェリア** ）

問4 次の（ ）内に地図を見ながら答えましょう。
一部すでに書かれている場所は解答不要です。



- | | |
|----------------------|----------------------|
| ①（ アトラス ）山脈 | ②（ イラン ）高原 |
| ③（ ザグロス ）山脈 | ④（ メソポタミア ）平原 |
| ⑤（ サハラ ）砂漠 | ⑥（ リビア ）砂漠 |
| ⑦（ ルブアルハリ ）砂漠 | |
| ⑧（ ペルシャ ）湾 | ⑨（ ナイル ）川 |
| ⑩（ スエズ ）運河 | ⑪（ 紅 ）海 |
| ⑫（ 地中 ）海 | |

中学生地理 アフリカ州 問題練習 NO2 解答

問 1 アフリカ諸国はごく少数の鉱山資源や作物に国の経済を依存する状態にありその商品の価格に国の経済が左右されがちな状況にある。この経済をなんといいますか。(モノカルチャー経済)

問 2 アフリカの最も高い山で独立峰としては世界最大の高さがある山はなんですか。(キリマンジャロ)

問 3 アフリカの角とよばれる半島名を答えましょう。
(ソマリア半島)

問 4 南北に世界最長のナイル川がながれ世界 4 大文明の発祥地である国はどこですか。(エジプト)

問 5 ヨーロッパ諸国の植民地時代にヨーロッパ人が現地の人たちを働かせ輸出向けに作った大規模な農園をなんといいますか。
(プランテーション)

問 6 南アフリカ共和国では少数の白人が大多数の黒人など有色人種を差別する政策を過去取っていて国際的な非難を受けた。この政策を何と言いますか。(アパルトヘイト)

問 7 南アフリカについて () 内に適切な語を書きましょう。
南アフリカ共和国は様々な鉱山資源の開発を行う工業国である。
(金) やダイヤモンドは有数の産出高がある。
またマンガン・ニッケルといった希少金属 (レアメタル) にも恵まれた未来の可能性を有した国といえる。

問 8 なつめやしの世界第一位の生産高がある国はどこですか。
(エジプト)

問 9 コンゴ共和国やザンビアでは主要な輸出品を答えましょう。
(銅)

中学生地理（オセアニア州 問題演習 NO3 の解答）

問1 オーストラリアの先住民はなんという人たちですか。

（ アボリジニ ）

問2 ニュージーランドの先住民はなんという人たちですか。

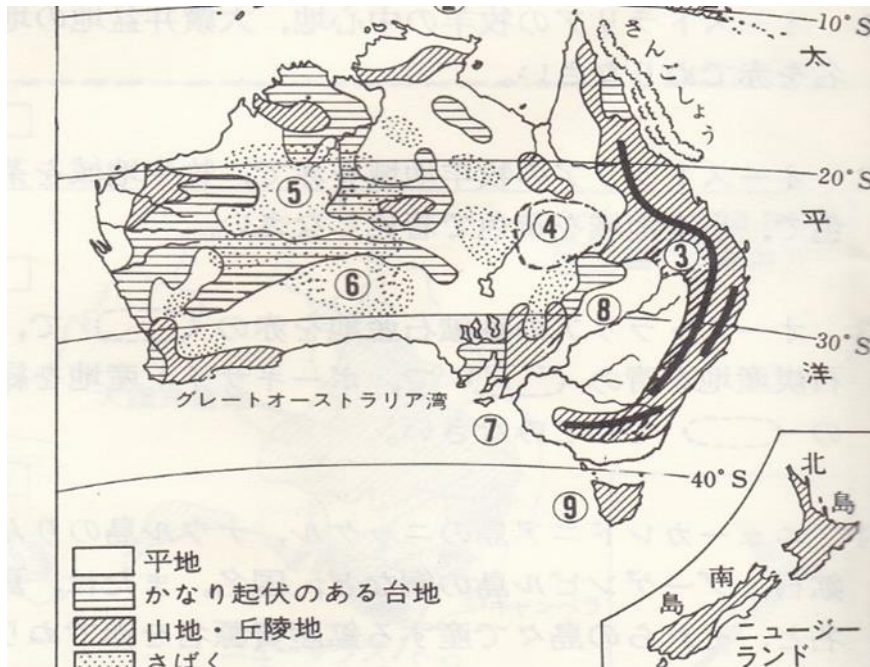
（ マオリ ）

問3 オーストラリアやニュージーランドはどの国の植民地でしたか。

（ イギリス ）

問4 オーストラリアは20世紀初めまで白人のみの国を作ることを目指し、移住を制限する政策を採用していた。この制度をなんといいますか。（ 白豪主義 ）

問5 次の③～⑥及び⑨までを地図を見ながら適切な地名を書きましょう。



③ （グレートディバイディング）山脈

④ （大鑽井盆地又は、グレートアーテジアン）盆地

⑤ （グレートサンディー）さばく

⑥ （グレートビクトリア）さばく

⑨ （タスマニア）島

⑦及び⑧の川の名称は興味ある人のみの問題でここでは省略します。

問6 現在のオーストラリアは白人やアジア系の人たちなど様々な民族の人が暮らし、それぞれの民族に文化を大切にしていける社会を作っています。

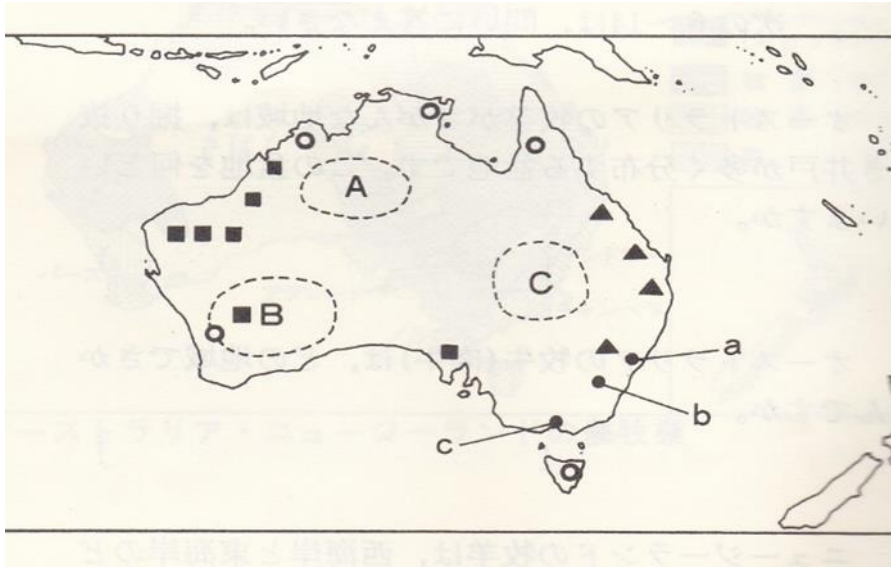
この社会を何と言いますか。（ 多文化社会 ）

中学生地理（オセアニア州 問題演習 NO4 の解答）

問 1 （ ） 内に適切な語を書きましょう。

オーストラリアは 1960 年代までイギリスとの貿易高が多かったが
最近では地理的に近いアジア地域の（ 中国 ）との
取引が一番多く、日本との貿易の取引高も増えている。

問 2 下の地図を見ながら問に答えましょう。



① 大鑽井盆地はA、B、Cのどこにありますか。（ C ）

② 大鑽井盆地は牧羊が盛んであるが水が不足しがちである。
このためある井戸を作って水を得ている。

井戸の名前を答えましょう。（ 堀り抜き井戸 ）

③ 地図を見ながらオーストラリアの鉱山資源を答えましょう。

(1) ● （ ニッケル ） ▲ (2) （ 石炭 ）

(3) ■ （ 鉄鉱石 ）

④ オーストラリアの首都を答えましょう。また場所は地図上 a～c の
どれですか。（首都名： キャンベラ ）（ b ）

問 3 適切な語を書きましょう。

オーストラリアの気候は沿岸部の温帯地域を除くと

内陸部を中心にほとんどが（ 乾燥 ）帯に属する。

ニュージーランドの気候は（ 温帯（西岸海洋性気候） ）である。