

中学生の地理です。

問題のレベルは

定期テスト

レベルです。

前半が北アメリカ

の問題です。

後半が南アメリカ

の問題です。

問題の答えは巻末に

あります。

中学生地理

北アメリカと 南アメリカ

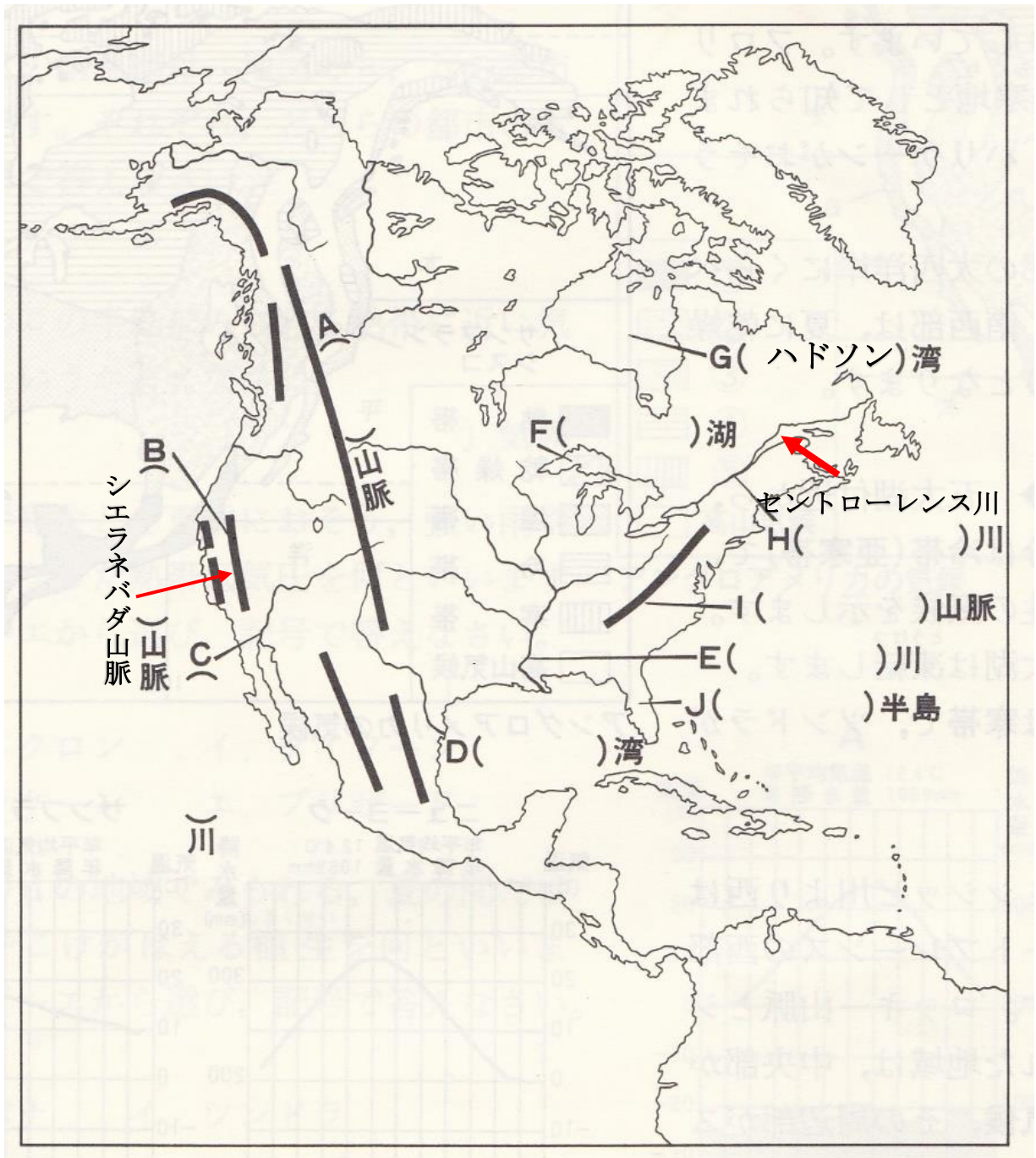
フォレスト学習会

中学生地理（北アメリカ州 問題練習NO1 解答は巻末）

問1 次の国の首都を書きましょう。

- (1)アメリカ合衆国（ ） (2) カナダ（ ）
(3) メキシコ（ ） (4) キューバ（ ）

問2 下の地図のうち B,G,H 以外の空欄になっている地名を書きましょう。



中学生地理（北アメリカ州 **問題演習NO2 解答は巻末**）

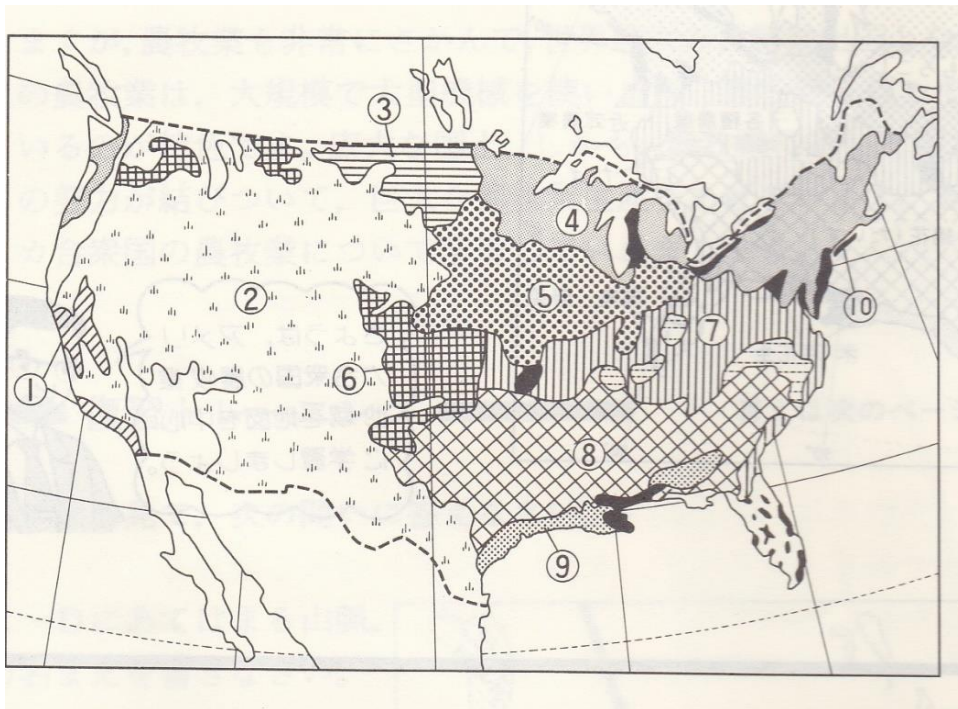
問1（ ）内に適切な語を書きましょう。

アメリカ合衆国の農業は広い国土のためその地域の気候や環境に適した（ ）で農業を行っている。

アメリカの農業の特性としてメキシコ系の移民などの安い労働力を利用し大規模に行う利益を目的とした、（ ）が特徴として挙げられる。機械化を積極的に展開し、小麦地帯では地下水を大型機械で一斉に水をまく（ ）方式を採用していることは有名。

問2 下の地図はアメリカの農業の盛んな場所区分です。問に答えましょう。

(1) 農作物が盛んな場所を①～⑩から選びましょう。



(1) 春小麦（ ） (2) 冬小麦（ ）

(3) トウモロコシ・だいず（ ）

(4) 近郊農業（ ）

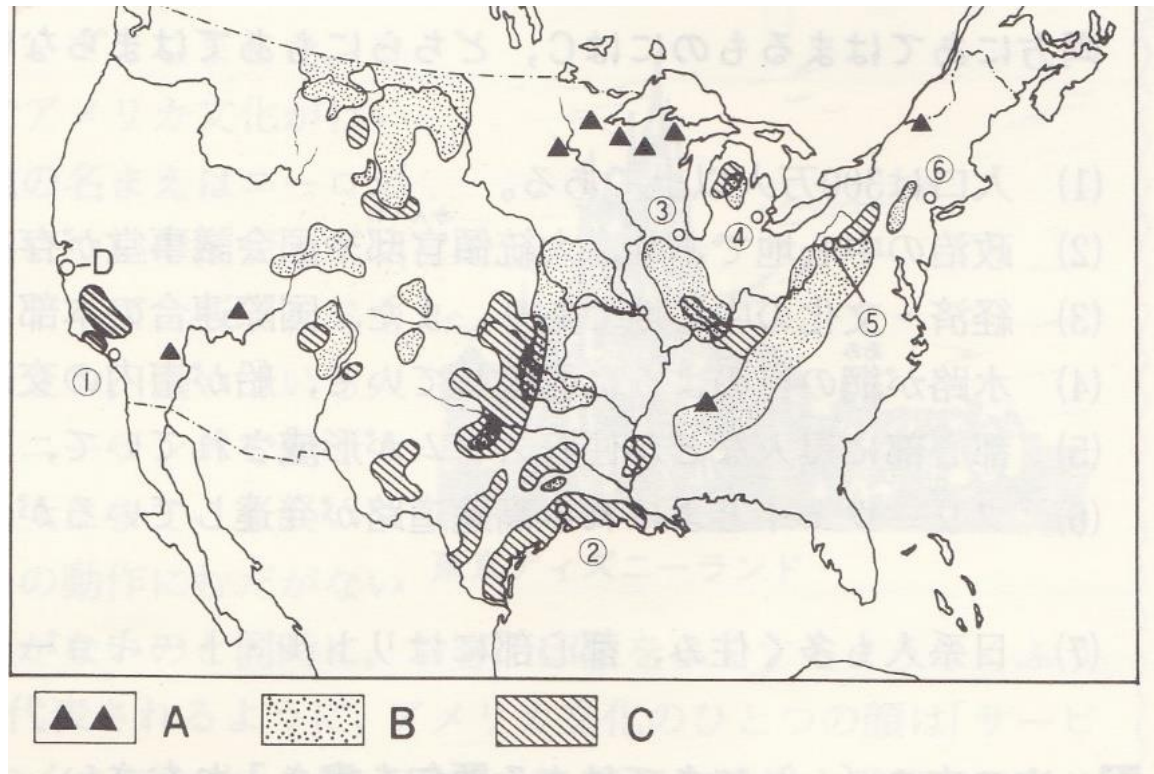
(2) 次の文章に当てはまる農業を地図中の①～⑩から選びましょう。

① 乳牛を飼い牛乳やバター、チーズなどのをつくる酪農をしている農業地域。（ ）

② 広大な草原で肉牛や羊の放牧を行い人工的に水を土地に供給して行うかんがい農業も行わえている。（ ）

中学生地理（北アメリカ **問題演習NO3 解答は巻末**）

- 問1 アメリカの企業は世界規模で活躍する企業が多い。これら国際的に活躍する企業をなんといいいますか。（ ）
- 問2 北米自由貿易協定（NAFTA）の加盟国はアメリカ以外に2か国あります。国名を書きましょう。（ ）
- 問3 下の地図をみて問に答えましょう。



- (1) 地図中の A,B,C はある鉱山資源の分布を表しています。
どんな鉱山資源でしょうか。
A () B () C ()
- (2) ③、④、⑤は合衆国を代表する工業都市です。都市名を答えて盛んな産業を答えましょう。
③ (都市名) (産業)
④ (都市名) (産業)
⑤ (都市名) (産業)
- (3) 地図上の北緯 37 度以南の地域には近年、急速に産業が発達した地域がある。
この地域を何と言いますか。（ ）
- (4) 地図の D はサンフランシスコの南に位置し、電子工業の工場や研究施設などが集中している。なんと呼ばれていますか。（ ）

中学生地理（南アメリカ州 **問題演習NO4 解答は巻末**）

問1 次の国の首都を書きましょう。

ブラジル（ ） アルゼンチン（ ）

問2 次に当てはまる言葉を書きましょう。

(1) 南アメリカの国々のうち日本からの移民が、最も多い国はどこですか。

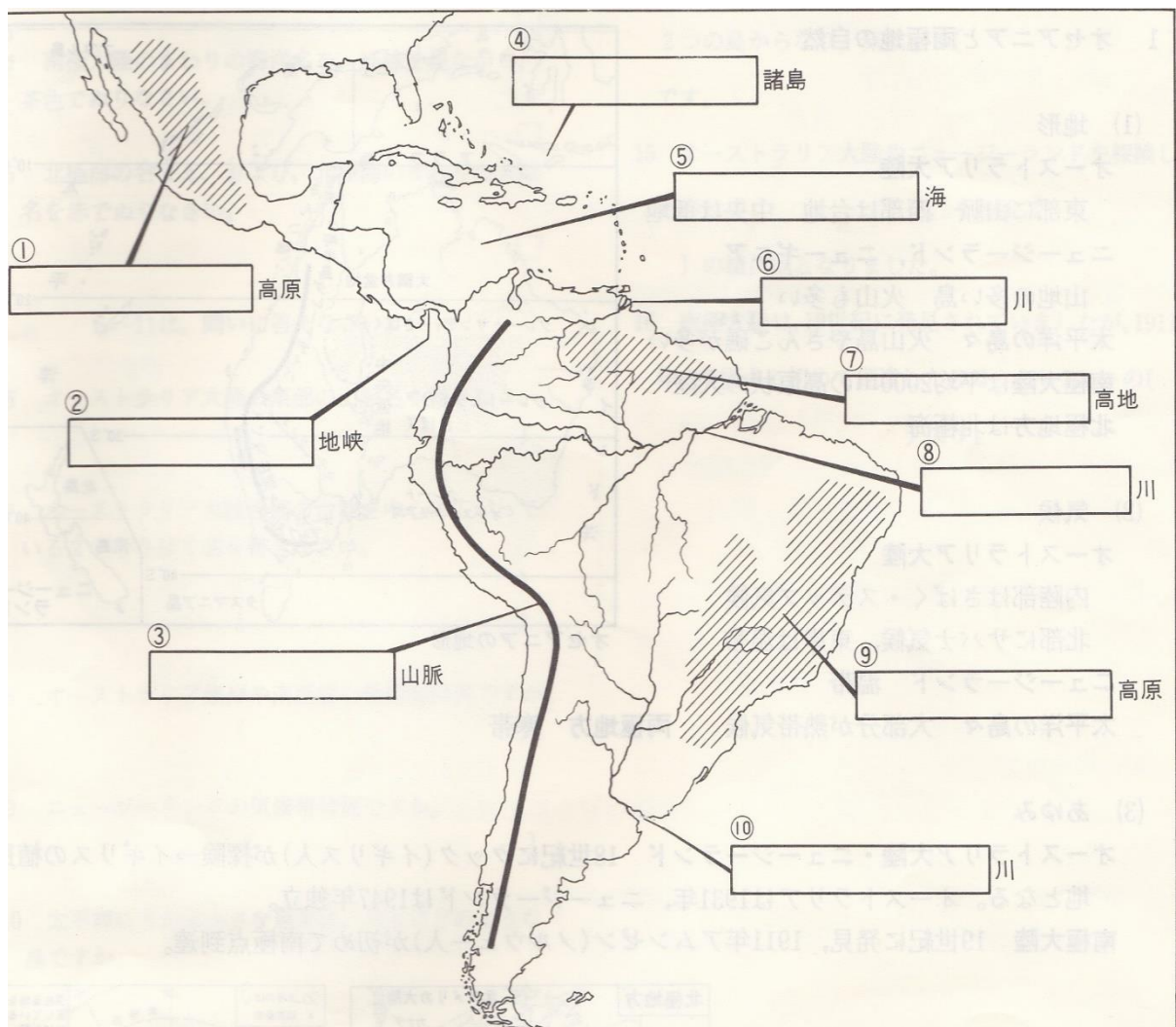
（ ）

(2) インカ文明が栄えた国はどこですか。

（ ）

(3) ポルトガルから独立した国はどこですか。（ ）

問3 次の（ ）内に適切な語を書きましょう。



中学生地理（南アメリカ州 **問題演習NO5 解答は巻末**）

問 下の地図をみて答えましょう。



問1 国名を答えましょう。

A() B() C()
D() E() F()

問2 () 内に適切な語を書きましょう。

- ① アマゾン川流域に広がる熱帯雨林なんて呼ばれますか。
()
- ② ラプラタ川周辺の草原をなんて呼びますか。()
- ③ ポルトガル語が公用語の国はどこですか。()
- ④ 南アメリカの先住民の人たちをなんて呼びますか。()
- ⑤ 南アメリカの先住民と白人の混血の人たちをなんて呼びますか。
()

中学生地理（南アメリカ州 **問題演習NO6 解答は巻末**）

問1 次の説明に当てはまる国を記号で答え、国名を答えましょう。



- (1) 石油の産出高は世界でも有数で OPEC の加盟国でもある。
(記号) (国名)
- (2) 銅で世界一位の生産量がある。国土が細長いのが特徴。
(記号) (国名)
- (3) パンパよばれる草原では牛や羊の牧畜を行っている。
(記号) (国名)
- (4) 赤道が通るためスペイン語で赤道という言葉が国名になっている。
(記号) (国名)
- (5) コーヒーやさとうきび栽培で有名。鉄鉱石の産出高は世界でも
上位の産出高がある。(記号)(国名)

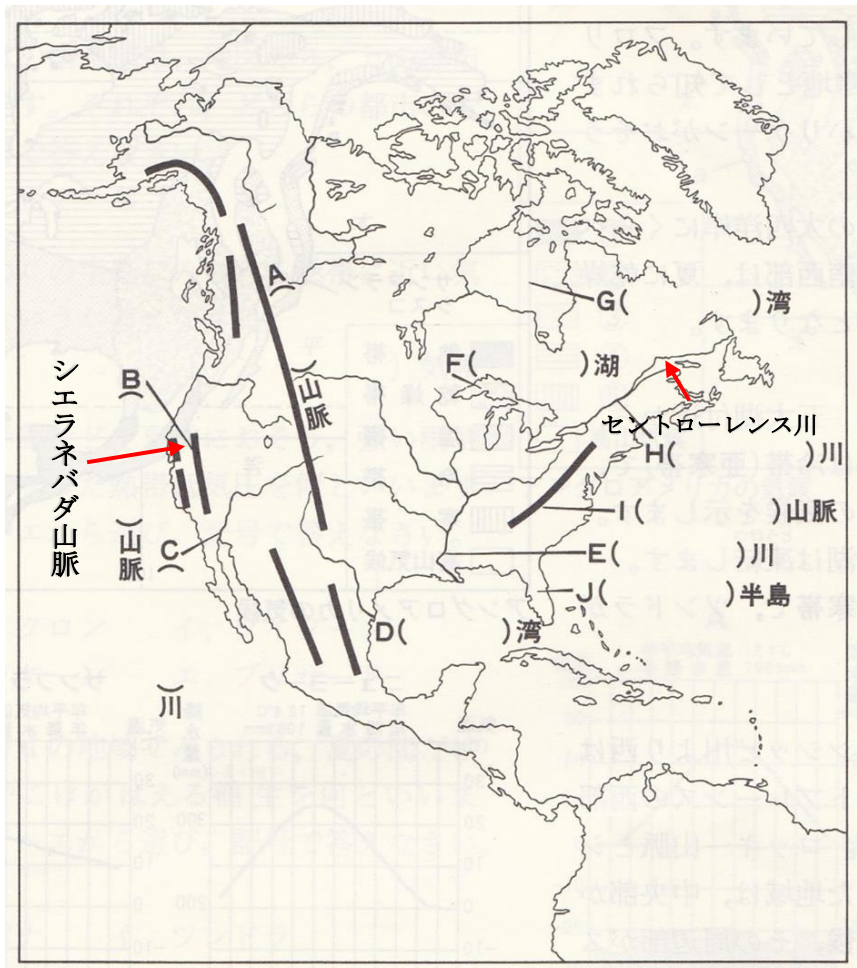
問3 ブラジル・ロシア・インド・中国・南アフリカ共和国は、経済成長が著しいためある呼び名がついている。なんと呼ばれていますか。
()

中学生地理（南アメリカ州 **問題演習NO1** の解答）

問1 次の国の首都を書きましょう。

- (1) アメリカ合衆国（ワシントン D.C.） (2) カナダ（オタワ）
(3) メキシコ（メキシコ・シティ） (4) キューバ（ハバナ）

問2



- A（ロッキー）山脈 C（コロラド）川 D（メキシコ）湾
E（ミシシッピ）川 F（五大）湖 G（ハドソン）湾
I（アパラチア）山脈

中学生地理（南アメリカ州 **問題演習NO2の解答**）

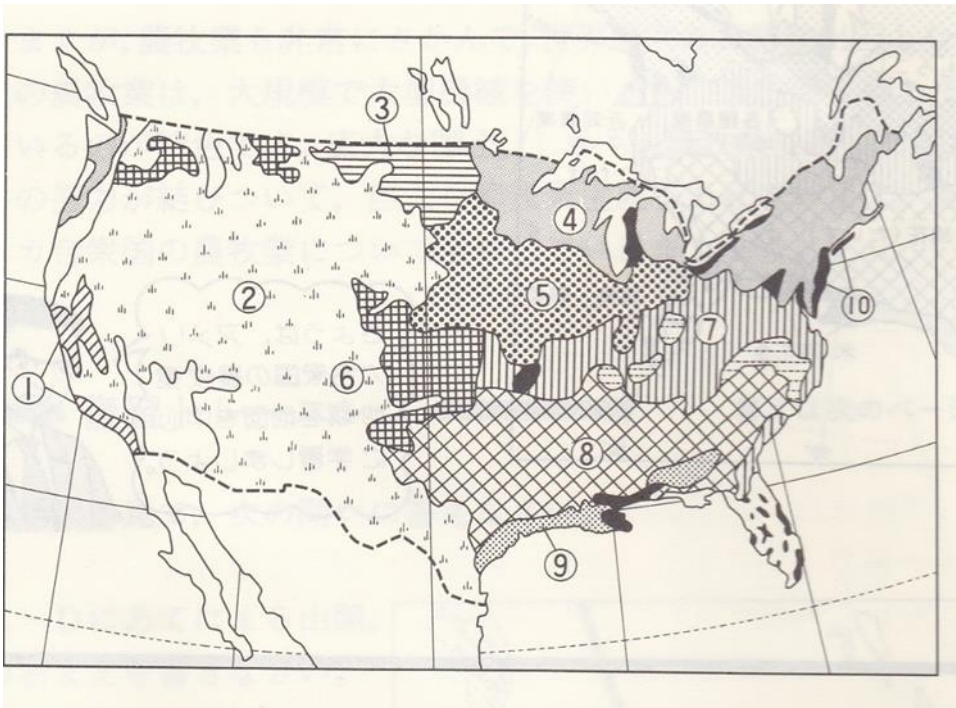
問1（ ）内に適切な語を書きましょう。

アメリカ合衆国の農業は広い国土のためその地域の気候や環境に適した（**適地適作**）で農業を行っている。

アメリカの農業の特性としてメキシコ系の移民などの安い労働力を利用し大規模に行う利益を目的とした、（**企業的な農業**）が特徴として挙げられる。機械化を積極的に展開し、小麦地帯では地下水を大型機械で一斉に水をまく（**センターピポット**）方式を採用していることは有名。

問2 下の地図はアメリカの農業の盛んな場所区分です。問に答えましょう。

(1) 農作物が盛んな場所を①～⑩から選びましょう。



(1) 春小麦（ **③** ） (2) 冬小麦（ **⑥** ）

(3) トウモロコシ・だいず（ **⑤** ）

(4) 近郊農業(**⑩**)

(2) 次の文章に当てはまる農業を地図中の①～⑩から選びましょう。

① 乳牛を飼い牛乳やバター、チーズなどのをつくる酪農をしている農業地域。（ **④** ）

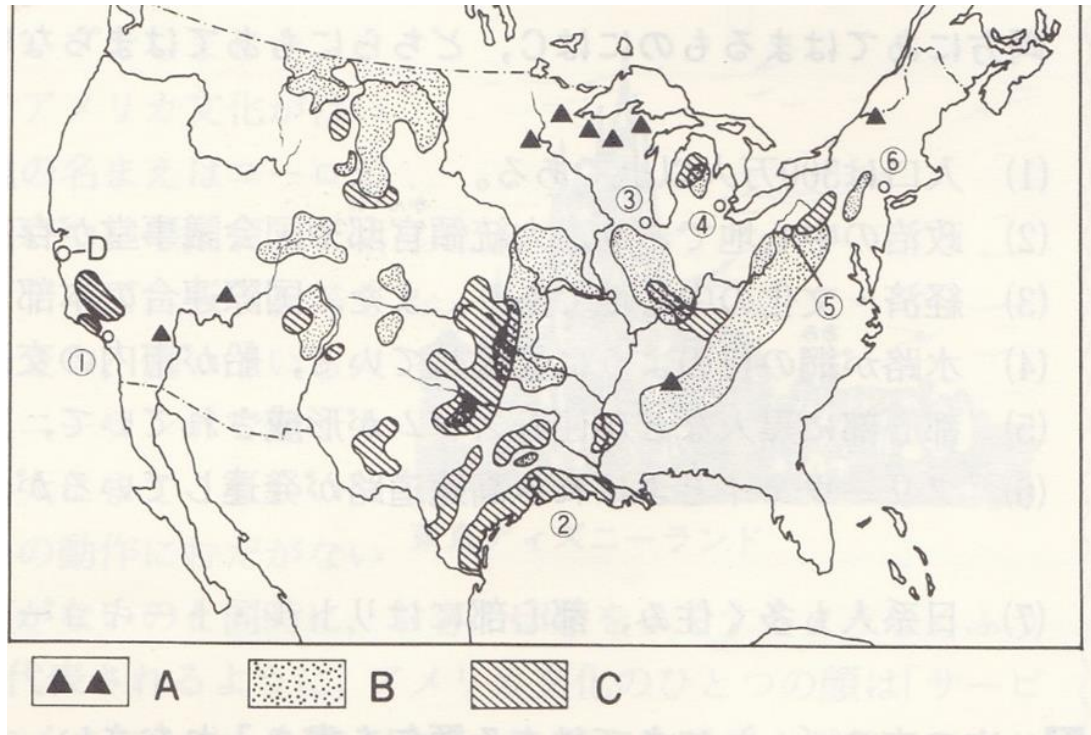
② 広大な草原で肉牛や羊の放牧を行い人工的に水を土地に供給して行うかんがい農業も行わえている。（ **②** ）

中学生地理（南アメリカ州 **問題演習NO3の解答**）

問1 アメリカの企業は世界規模で活躍する企業が多数ある。これら国際的に活躍する企業をなんといいいますか。（**多国籍企業**）

問2 北米自由貿易協定（NAFTA）の加盟国はアメリカ以外に2か国あります。国名を書きましょう。（**カナダとメキシコ**）

問3 下の地図をみて問に答えましょう。



(1) 地図中のA,B,Cはある鉱山資源の分布を表しています。
どんな鉱山資源でしょうか。

A (**鉄鉱石**) B (**石炭**) C (**石油**)

(2) ③、④、⑤は合衆国を代表する工業都市です。都市名を答えて盛んな産業を答えましょう。

③ (都市名 **シカゴ**) (産業 **食品産業・機械産業**)

④ (都市名 **デトロイト**) (産業 **自動車産業**)

⑤ (都市名 **ピッツバーグ**) (産業 **製鉄業**)

(3) 地図上の北緯37度以南の地域には近年、急速に産業が発達した地域がある。
この地域を何と言いますか。（ **サンベルト** ）

(4) 地図のDはサンフランシスコの南に位置し、電子工業の工場や研究施設などが集中している。なんと呼ばれていますか。（ **シリコンバレー** ）

中学生地理（南アメリカ州 問題演習NO4の解答）

問1 次の国の首都を書きましょう。

ブラジル（**ブラジリア**） アルゼンチン（**ブエノスアイレス**）

問2 次に当てはまる言葉を書きましょう。

(1) 南アメリカの国々のうち日本からの移民が最も多い国はどこですか。

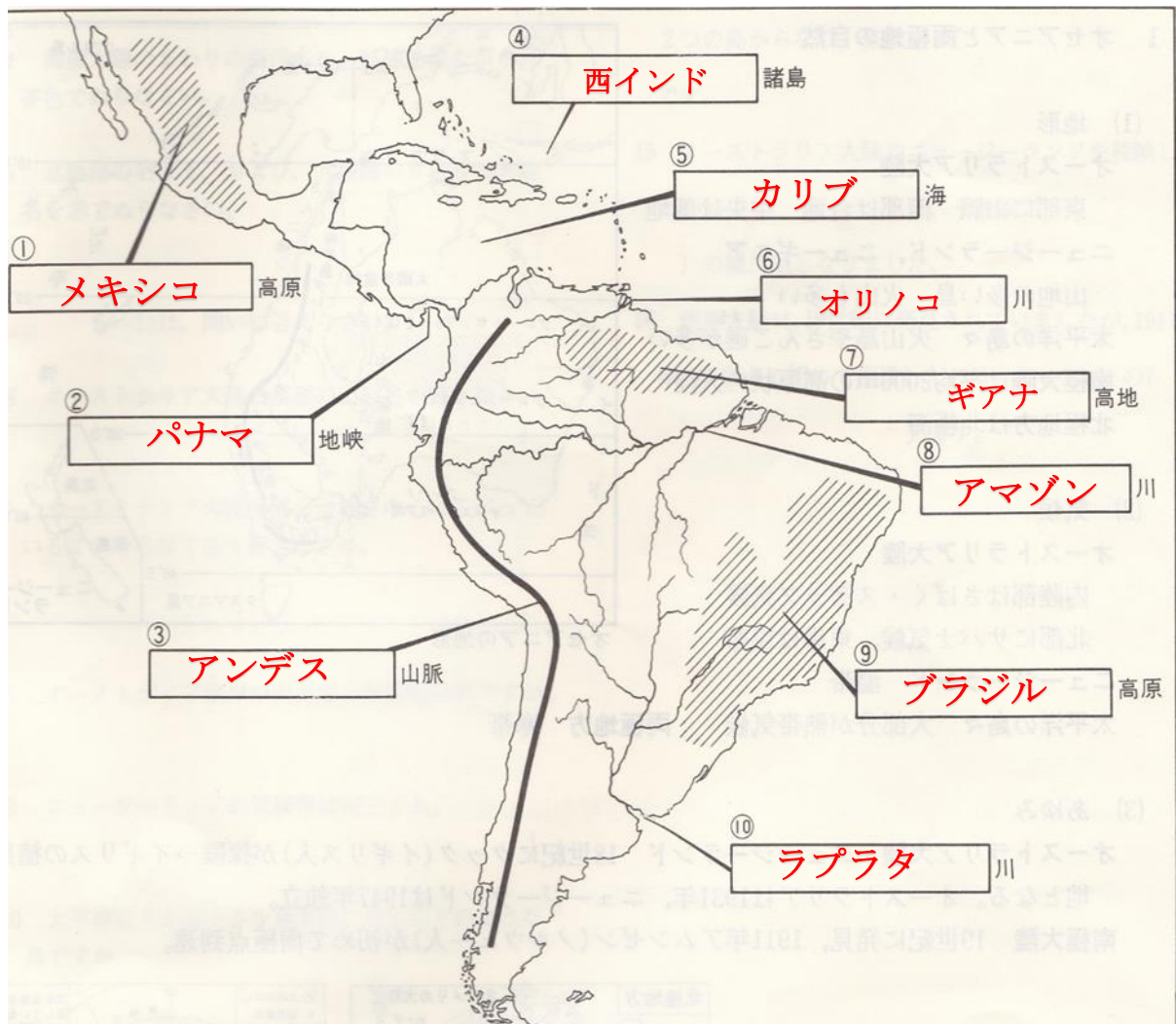
（ **ブラジル** ）

(2) インカ文明が栄えた国はどこですか。

（ **ペルー** ）

(3) ポルトガルから独立した国はどこですか。（**ブラジル**）

問3 次の（ ）内に適切な語を書きましょう。



中学生地理（南アメリカ州 問題演習NO5の解答）

問 下の地図をみて答えましょう。



問1 国名を答えましょう。

- A(ブラジル) B(アルゼンチン) C(チリ)
D(ペルー) E(エクアドル) F(ベネズエラ)

問2 () 内に適切な語を書きましょう。

- ① アマゾン川流域に広がる熱帯雨林なんと呼ばれますか。
(セルバ)
- ② ラプラタ川周辺の草原をなんと呼びますか。(パンパ)
- ③ ポルトガル語が公用語の国はどこですか。(ブラジル)
- ④ 南アメリカの先住民の人たちをなんと呼びますか。(インディオ)
- ⑤ 南アメリカの先住民と白人の混血に人たちをなんと呼びますか。
(メスチソ)

中学生地理（南アメリカ州 **問題演習NO6の解答**）

問1 次の説明に当てはまる国を記号で答え、国名を答えましょう。



- (1) 石油の産出高は世界でも有数で OPEC の加盟国でもある。
（記号 **C** ）（国名 **ベネズエラ** ）
- (2) 銅で世界一位の生産量がある。国土が細長いのが特徴。
（記号 **A** ）（国名 **チリ** ）
- (3) パンパよばれる草原では牛や羊の牧畜を行っている。
（記号 **B** ）（国名 **アルゼンチン** ）
- (4) 赤道が通るためスペイン語で赤道という言葉が国名になっている。
（記号 **E** ）（国名 **エクアドル** ）
- (5) コーヒーやさとうきび栽培で有名。鉄鉱石の産出高は世界でも
上位の産出高がある。（記号 **D** ）（国名 **ブラジル** ）

問3 ブラジル・ロシア・インド・中国・南アフリカ共和国は、経済成長が著しいためある呼び名がついている。なんと呼ばれていますか。

（ **BRICS** ）