

中学生の地理です。  
問題の掲載は  
以下の通りです。

関東地方  
東北地方  
北海道地方

解答は巻末に  
あります。

中学生地理

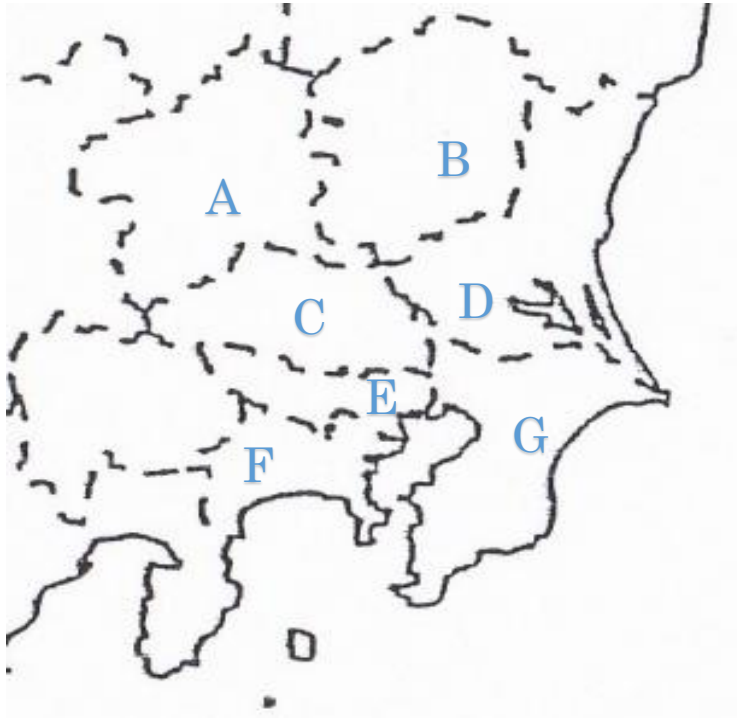
# 中学生定期 テスト対策

フォレスト学習会

中学生地理（関東地方 **問題 NO1 解答は巻末**）

問 1 次の地図をみて都道府県名を答えましょう。

また A、B、C、D、F は県庁所在地も書きましょう。



- A ( ) 県庁所在地 ( )市  
B ( ) 県庁所在地 ( )市  
C ( ) 県庁所在地 ( )市  
D ( ) 県庁所在地 ( )市  
E ( )  
F ( ) 県庁所在地 ( )市  
G ( )

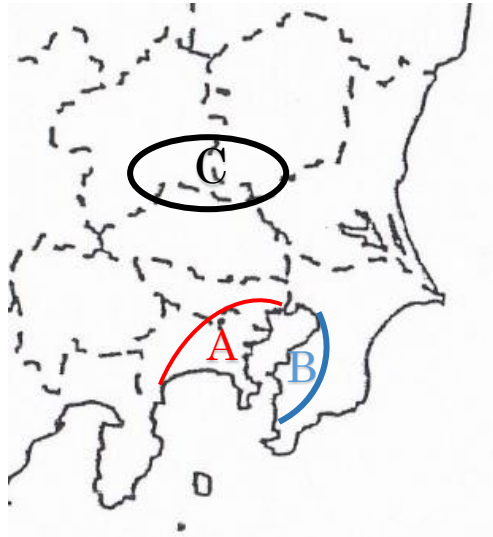
問 2 千葉県や茨城県などでは東京や神奈川県に近いことを利用して野菜作りが盛んです。都会周辺で行う農業を何と言いますか。

( )

問 3 砂浜海岸の九十九里浜はどの県にありますか。

( )

中学生地理（関東地方 問題 NO2 解答は巻末に）



問 1 日本最大の広がる関東平野は火山活動で赤い土が全体に広がっています。この赤い土をなんといいますか。

( )

問 2 以下の文章は関東地方の農業につき書かれた文章です。

( ) 内に適切な語を書きましょう。

関東地方では日本で 2 番目に長い川である ( )

流域で稲作が盛んである。

関東には東京や神奈川という人口が極めて多い地域があるため

千葉や茨城では大都市周辺で行う ( ) 農業が盛んである。

問 3 上の地図の A, B, C は何とよばれる工業地帯や工業地域ですか。

またそれぞれと関係のある説明の番号を選びましょう。

A ( ) 番号 ( )

B ( ) 番号 ( )

C ( ) 番号 ( )

番号

- 1 人口や工場が集中した結果、広いスペースが確保でき  
土地代の安い内陸部に工場を移転させた結果、形成された工業地域
- 2 臨海部に広がり、化学工業の割合が多いのが特徴。
- 3 他の地域と比べて印刷業が多いのが特徴。

中学生地理（関東地方 **問題 NO3 解答は巻末に**）

問 1 次の（ ）内に適切な語を書きましょう。

関東地方には、日本を代表する空港が 2 つある。

東京都にある、（ ）空港と千葉県にある  
（ ）空港である。

このうち、千葉県の（ ）空港は、輸出と輸入の  
貿易額が日本で（ ）多いのが特徴である。

東京を中心とした人口が多くあつまっている地域を  
（ ）といいます。

（ ）には横浜市や川崎市そして  
さいたま市や千葉市など人口 50 万人を超える市が含まれていて  
（ ）として政令で一定の権限が  
認められた市が含まれています。

東京都には人が集まり情報が集中するためマイホームを  
持つには土地代が高すぎて難しい現状がある。

そこで住みやすい郊外に住み

通勤や通学に東京に来る人が多い。

このため東京都は、（ ）が多く  
（ ）が少ない傾向にある。

問 2 東京都に関係あるものを選びましょう。

ア ごみ問題

イ 過疎問題

ウ 地価の高騰

エ 都市の再開発

オ 交通渋滞

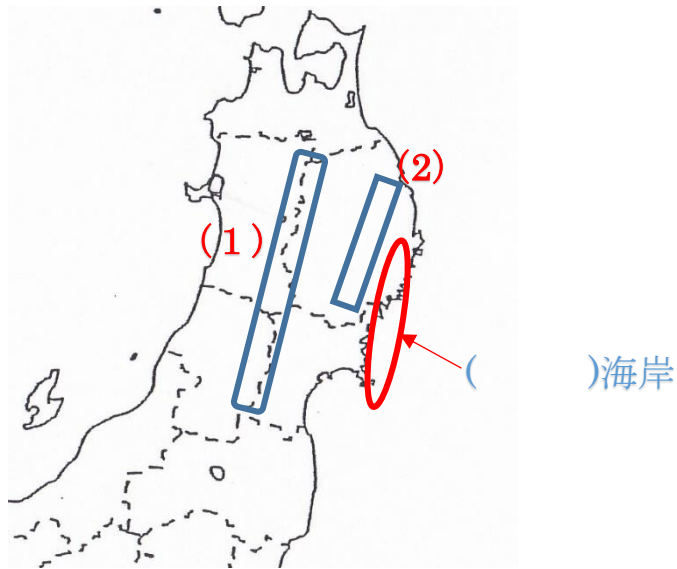
カ 限界集落

キ ヒートアイランド現象

（ ）

中学生地理 （東北地方 問題No.4 解答は巻末に）

問 下の地図も見ながら答えましょう。



問 1

① 宮城県の県庁所在地を答えましょう。

( ) 市

② 岩手県の県庁所在地を答えましょう。

( ) 市

問 2

(1)の山脈名を答えましょう。

( ) 山脈

(2)の山地名を答えましょう。

( ) 山地

問 3 秋田県と青森県の県境に広がるブナの原生林で有名な山地はなんといいますか。

( ) 山地

問 4 問 3 の山地は何に登録されていますか。

( )

問 5 赤い丸で囲んだ海岸名を答えましょう。

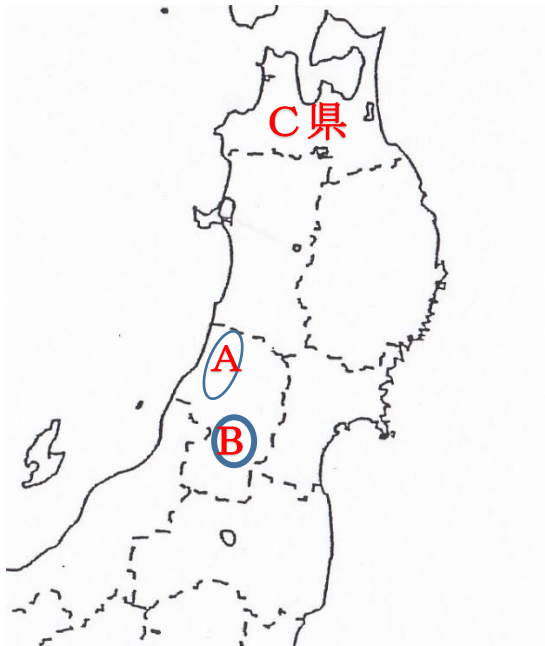
( ) 海岸

問 6 問 5 の海岸は地形が入り組んでいて特色のある海岸です。何と呼ばれる形状の海岸ですか。

( ) 海岸

中学生地理 （東北地方 問題 No5 解答は巻末）

問 下の図をみて答えましょう。



問 1、（ ）内に適切な語を書きましょう。

東北地方は、日本でも有数の稲作地帯で日本の（ ）地帯と呼ばれている。

東北地方に冬に北東の冷たい風である（ ）がふき気温が上がらない状態となり（ ）を起こし農家を悩ませてきた。

このため寒さに耐えられるコメの（ ）が行われてひとめぼれと呼ばれるブランドのお米の生産などがなされている。

問 2 地図上のC県では津軽平野を中心にある果物の生産が日本一です。

この果物は何ですか。（ ）

問 3 Aは稲作が盛んな山形県の平野です。

平野名を答えましょう。（ ）平野

問 4 Bの盆地名を答えましょう。

またBの盆地ではある果物の生産が盛んです。

果物名を答えましょう。（ ）

中学生地理 （東北地方 問題No.6 解答は巻末に）

問 1 次の 1 ～ 5 までと関係あるものを下の（ ）から選びましょう。

- 1 七夕まつり
- 2 ねぶた祭り
- 3 竿灯まつり
- 4 南部鉄器
- 5 将棋駒

（ 青森県 岩手県盛岡市 秋田県 仙台市 山形県天童市 ）

1 (                      ) 2 (                      ) 3 (                      ) 4 (                      )  
5 (                      )

問 2 ねぶた祭りと竿灯まつりは国に文化財として登録されています。  
何と呼ばれる文化財ですか。

(                      )

問 3 (                      ) 内に適切な語を書きましょう。

東北地方は比較的土地が広いため多くの

(                      ) が作られている。

特に I C（集積回路）関係の工場が集中している。

I C 工場は首都圏と交通の便がいい場所が好まれるため

(                      ) 近辺に多く作られる。

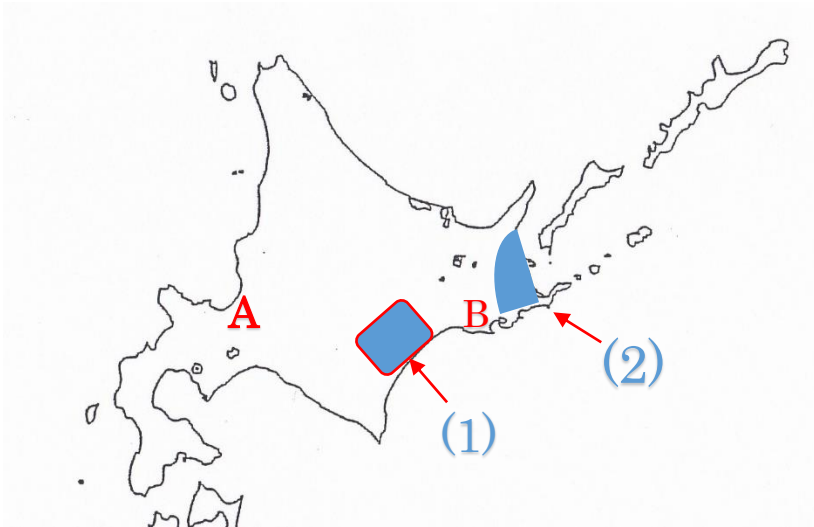
関東の首都圏と東北地方をむずびつける道路として

(                      ) が走り東北と大都市の関東圏を

むずびつけている。

中学生地理 （北海道地方 問題No.7 解答は巻末に）

問1 下の図をみて次の問に答えましょう。



(イ) 地図中の(1)の平野名と (2) の台地名を答えましょう。

(1) ( )平野 (2) ( )台地

(ロ) A の都市は北海道の道庁所在地です。市の名前を答えましょう。

( )市

(ハ) B の都市は北海道を代表する漁港で水産業が盛んである。市の名前を答えましょう。

( )市

問2 ( ) 内に適切な語を書きましょう。

北海道は先住民族の ( ) 人の人々が住んでいたか  
明治維新以降、開拓使を置いて、北海道の開拓と防備を担当する  
( ) などを使い大規模な開発を進めていった。

石狩平野は火山灰地で稲作に適していない土地でした。稲作に適した土地にするため石狩平野では他の場所から土地を運んでくる  
(客土)を行って稲作に適した土地にしました。

十勝平野では、( ) が中心である。ジャガイモやてんさいなど  
一年ごとに違う作物を育てる ( ) を行っているのが特長。

根釧台地では、牛などを飼育する ( ) が盛んである・

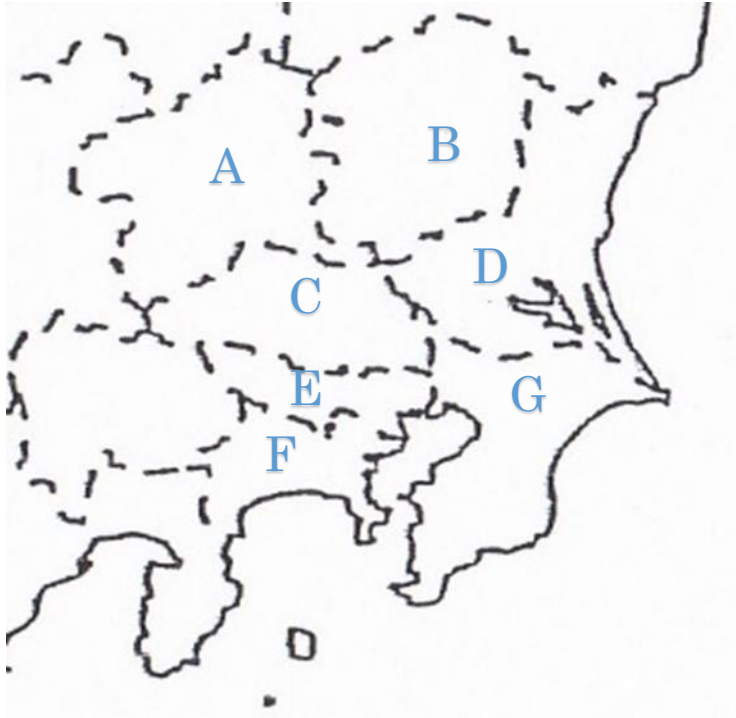
自然豊かな知床半島は ( ) に登録されて多くの観光客を集めている。



中学生地理（関東地方 問題 NO1 解答）

問 1 次の地図をみて都道府県名を答えましょう。

また A、B、C、D、F は県庁所在地も書きましょう。



- A( 群馬県 ) 県庁所在地 ( 前橋 )市  
B( 栃木県 ) 県庁所在地 ( 宇都宮 )市  
C( 埼玉県 ) 県庁所在地 ( さいたま )市  
D( 茨城県 ) 県庁所在地 ( 水戸 )市  
E( 東京都 )  
F( 神奈川県 ) 県庁所在地 ( 横浜 )市  
G( 千葉県 )

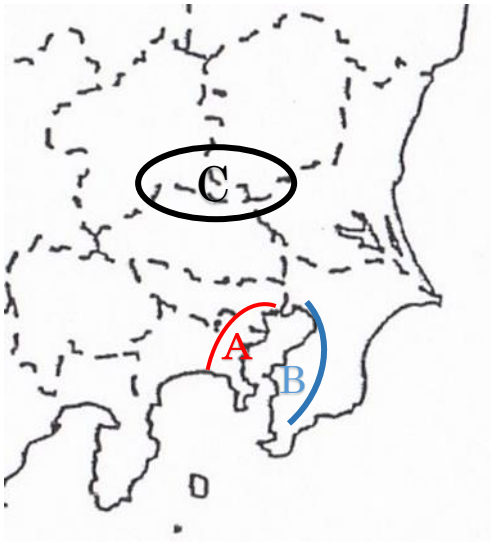
問 2 千葉県や茨城県などでは東京や神奈川県に近いことを利用して野菜作りが盛んです。都会周辺で行う農業を何と言いますか。

( 近郊農業 )

問 3 砂浜海岸の九十九里浜はどの県にありますか。

( 千葉県 )

中学生地理（関東地方 問題 NO2 解答）



問 1 日本最大の広がる関東平野は火山活動で赤い土が全体に広がっています。この赤い土をなんといいますか。

（ 関東ローム層 ）

問 2 以下の文章は関東地方の農業につき書かれた文章です。

（ ）内に適切な語を書きましょう。

関東地方では日本で 2 番目に長い川である（ 利根川 ）流域で稲作が盛んである。

関東には東京や神奈川という人口が極めて多い地域があるため千葉や茨城では大都市周辺で行う（ 近郊 ）農業が盛んである。

問 3 上の地図の A, B, C は何とよばれる工業地帯や工業地域ですか。またそれぞれと関係のある説明の番号を選びましょう。

A （ 京浜工業地帯 ） 番号 （ 3 ）

B （ 京葉工業地域 ） 番号 （ 2 ）

C （ 関東内陸工業地域 ） 番号 （ 1 ）

番号

- 1 人口や工場が集中した結果、広いスペースが確保でき土地代の安い内陸部に工場を移転させた結果、形成された工業地域
- 2 臨海部に広がり、化学工業の割合が多いのが特徴。
- 3 他の地域と比べて印刷業が多いのが特徴。

中学生地理（関東地方 問題 NO3 の解答）

問 1 次の（ ）内に適切な語を書きましょう。

関東地方には、日本を代表する空港が 2 つある。

東京都にある、（東京国際）空港と千葉県にある

（成田国際）空港である。

このうち、千葉県の（成田国際）空港は、輸出と輸入の貿易額が日本で（一番）多いのが特徴である。

東京を中心とした人口が多くあつまっている地域を

（東京大都市圏）といいます。

（東京大都市圏）には横浜市や川崎市そして

さいたま市や千葉市など人口 50 万人を超える市が含まれていて

（政令指定都市）として政令で一定の権限が

認められた市が含まれています。

東京都には人が集まり情報が集中するためマイホームを持つには土地代が高すぎて難しい現状がある。

そこで住みやすい郊外に住み

通勤や通学に東京に来る人が多い。

このため東京都は、（昼間人口）が多く

（夜間人口）が少ない傾向にある。

問 2 東京都に関係あるものを選びましょう。

ア ごみ問題

イ 過疎問題

ウ 地価の高騰

エ 都市の再開発

オ 交通渋滞

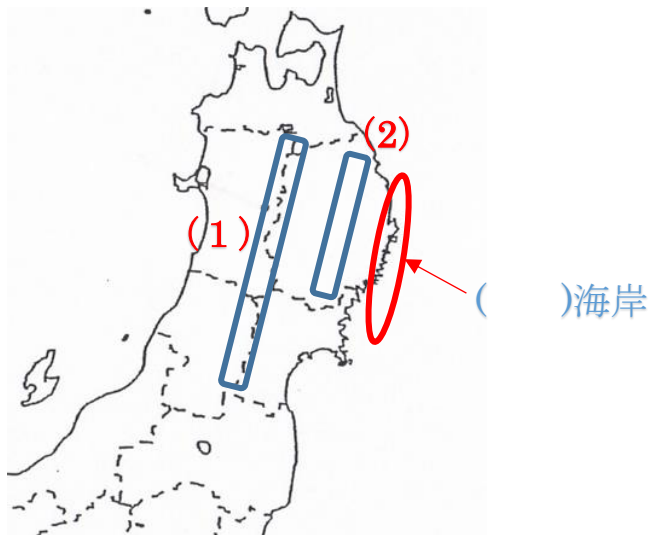
カ 限界集落

キ ヒートアイランド現象

（ア、ウ、エ、オ、キ）

中学生地理 (東北地方 問題No.4 の解答)

問 下の地図も見ながら答えましょう。



問 1

① 宮城県の県庁所在地を答えましょう。

( 仙台 ) 市

② 岩手県の県庁所在地を答えましょう。

( 盛岡 ) 市

問 2

(1)の山脈名を答えましょう。

( 奥羽 ) 山脈

(2)の山地名を答えましょう。

( 北上 ) 山地

問 3 秋田県と青森県の県境に広がるブナの原生林  
有名な山地はなんといいいますか。

( 白神 ) 山地

問 4 問 3 の山地は何に登録されていますか。

( 世界遺産 )

問 5 赤い丸で囲んだ海岸名を答えましょう。

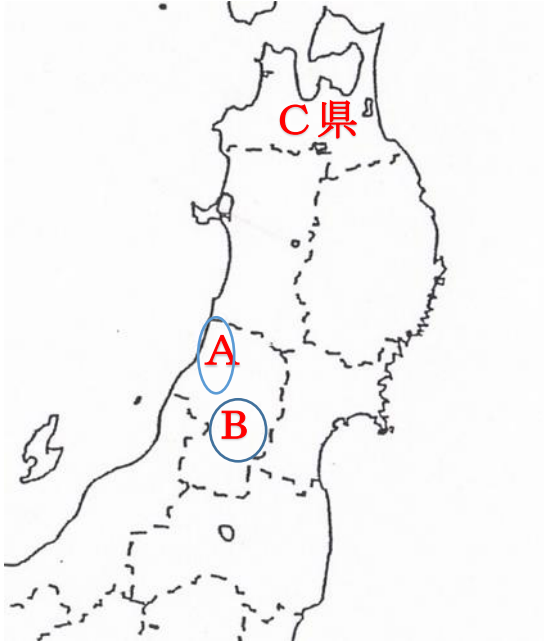
( 三陸 ) 海岸

問 6 問 5 の海岸は地形が入り組んでいて特色のある海岸です。  
何と呼ばれる形状の海岸ですか。

( リアス ) 海岸

中学生地理 （東北地方 問題 No5 の解答）

問 下の図をみて答えましょう。



問 1、（ ）内に適切な語を書きましょう。

東北地方は、日本でも有数の稲作地帯で日本の（ 穀倉 ）地帯と呼ばれている。

東北地方に冬に北東の冷たい風である（ やませ ）がふき気温が上がらない状態となり（ 冷害 ）を起こし農家を悩ませてきた。

このため寒さに耐えられるコメの（ 品種改良 ）が行われてひとめぼれと呼ばれるブランドのお米の生産などがなされている。

問 2 地図上の C 県では津軽平野を中心にある果物の生産が日本一です。

この果物は何ですか。（ りんご ）

問 3 A は稲作が盛んな山形県の平野です。

平野名を答えましょう。（ 庄内 ）平野

問 4 B の盆地名を答えましょう。

また B の盆地ではある果物の生産が盛んです。

果物名を答えましょう。（ さくらんぼ ）

中学生地理 （東北地方 問題No.6 の解答）

問 1 次の 1 ～ 5 までと関係あるものを下の（ ）から選びましょう。

- 1 七夕まつり
- 2 ねぶた祭り
- 3 竿灯まつり
- 4 南部鉄器
- 5 将棋駒

（ 青森県 岩手県盛岡市 秋田県 仙台市 山形県天童市 ）

- 1 ( 仙台市 ) 2 ( 青森県 ) 3 ( 秋田県 ) 4 ( 岩手県盛岡市 )  
5 ( 山形県天童市 )

問 2 ねぶた祭りと竿灯まつりは国に文化財として登録されています。  
何と呼ばれる文化財ですか。

(重要無形民俗文化財)

問 3 ( ) 内に適切な語を書きましょう。

東北地方は比較的土地が広いため多くの  
(工業団地) が作られている。

特に I C (集積回路) 関係の工場が集中している。

I C 工場は首都圏と交通の便がいい場所が好まれるため

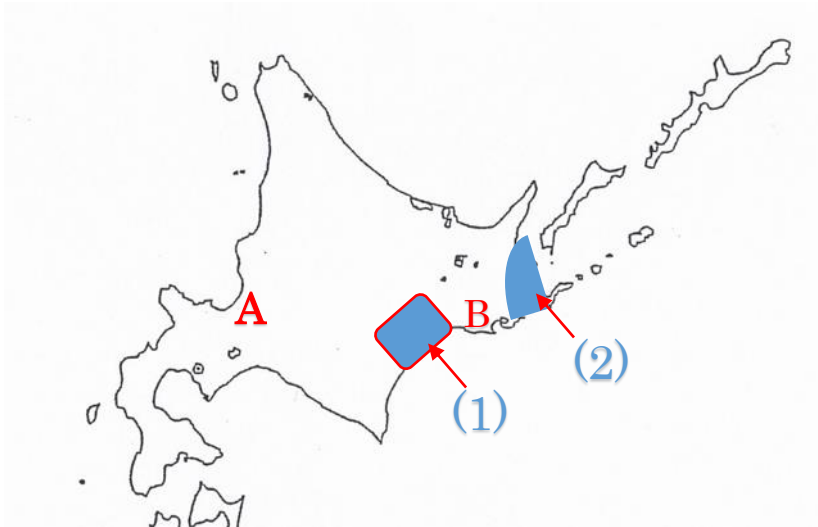
( 高速道路 ) 近辺に多く作られる。

関東の首都圏と東北地方をむずびつける道路として

( 東北自動車道 ) が走り東北と大都市の関東圏をむずびつけて  
いる。

中学生地理 （北海道地方 問題No.7 の解答）

問 1 下の図をみて次の問に答えましょう。



(イ) 地図中の(1)の平野名と (2) の台地名を答えましょう。

(1) ( 十勝 )平野 (2) ( 根釧 )台地

(ロ) A の都市は北海道の道庁所在地です。市の名前を答えましょう。

( 札幌 )市

(ハ) B の都市は北海道を代表する漁港で水産業が盛んである。市の名前を答えましょう。

( 釧路 )市

問 2 ( ) 内に適切な語を書きましょう。

北海道は先住民族の ( アイヌ ) 人の人々が住んでいたか

明治維新以降、開拓使を置いて、北海道の開拓と防備を担当する

( 屯田兵 )などを使い大規模な開発を進めていった。

石狩平野は火山灰地で稲作に適していない土地でした。稲作に適した土地にするため石狩平野では他の場所から土地を運んでくる

(客土)を行って稲作に適した土地にしました。

十勝平野では、( 畑作 )が中心である。ジャガイモやてんさいなど一年ごとに違う作物を育てる ( 輪作 )を行っているのが特長。

根釧台地では、牛などを飼育する ( 酪農 )が盛んである・

自然豊かな知床半島は ( 世界遺産 )に登録されて多くの観光客を集めている。